

REPUBLIKA SLOVENIJA
MINISTRSTVO ZA INFRASTRUKTURO

**KATALOG IZPITNIH VPRAŠANJ ZA
PRIPRAVO NA PREIZKUS ZNANJA ZA
PRIDOBITEV SPRIČEVALA O STROKOVNI
USPOSOBLJENOSTI UPRAVLJAVCA
PREVOZOV ZA OPRAVLJANJE PREVOZOV V
CESTNEM PROMETU ZA MODUL M4**

Datum zadnje spremembe: 11.4.2024

Predmet A: Civilno pravo

A1: Poznati glavne vrste pogodb, ki se uporabljajo v cestnem prevozu ter pravice in obveznosti, ki izhajajo iz teh pogodb

1A1M2M3M4M5P

Opravljate prevoze v Sloveniji. Katere zakone morate upoštevati pri sklepanju in izpolnjevanju prevoznih pogodb?

6A1M2M3M4M5P

Opreделите vsebino prevozne pogodbe in vrste prevoznih pogodb po Obligacijskem zakoniku!

7A1M2M3M4M5P

Opreделите vsebino prevozne pogodbe in vrste pogodb po Zakonu o prevoznih pogodbah v cestnem prometu!

8A1M4M5I

Pogodbene stranke prevozne pogodbe za prevoz tovora

- so prevoznik, pošiljatelj in prejemnik.
- sta prevoznik in pošiljatelj.
- sta prevoznik in prejemnik.
- sta prevoznik in lastnik tovora.

10A1M2M3M4M5I

Kako "domačega prevoznika" opredeljuje Zakon o prevozih v cestnem prometu?

- Vsak, ki opravi prevoz tovora ali osebe za plačilo.
- Domači prevoznik je fizična ali pravna oseba s sedežem v Republiki Sloveniji, ki ima licenco, licenco Skupnosti oziroma dovoljenje Skupnosti za opravljanje prevozov ali opravlja prevoze za lastne potrebe.
- Vsaka pravna ali fizična oseba, ki opravlja prevoze v cestnem prometu.
- Družbe in samostojni podjetniki posamezniki, ki opravljajo prevoze, razen tistih, ki opravljajo avtotaksi prevoze.

11A1M4M5I

Kot prejemnik je v Zakonu o prevoznih pogodbah v cestnem prometu označena oseba,

- ki prevzame tovor.
- ki je kupec blaga.
- ki je v namembnem kraju upravičena prevzeti tovor.
- ki jo določi prevoznik.

13A1M4M5P

Kdo je »zaporedni prevoznik« in kdaj se smatra, da postane pogodbeni stranka v odnosu do pošiljatelja?

14A1M4M5P

Kdaj se sklepa pogodba o multimodalnem prevozu in kdo sta pogodbeni stranki?

15A1M2M3M4M5P

Ali se pogodbeni stranki prevozne pogodbe lahko glede svojih obveznosti dogovorita drugače kot določa Zakon o prevoznih pogodbah v cestnem prometu? Če lahko, kakšnih določil takšna pogodba ne sme vsebovati?

A2: Biti sposoben skleniti pravno veljavno prevozno pogodbo, zlasti glede pogojev prevoza**1A2M2M3M4M5I**

Kdaj je prevozna pogodba sklenjena?

- Ko prevoznik prejme izjavo naročnika prevoza, da ponudbo sprejme.
- Ko stranki podpišeta pogodbo.
- Ko naročnik prevoza prejme ponudbo prevoznika.
- Ko prevoznik prejme pisno izjavo naročnika prevoza, da ponudbo sprejme.

2A2M2M3M4M5P

Naštete pogoje, ki morajo biti izpolnjeni, da je prevozna pogodba veljavna!

4A2M2M3M4M5P

Katere so bistvene sestavine prevozne pogodbe? Navedite primer!

5A2M2M3M4M5I

Katere izmed navedenih sestavin prevozne pogodbe so obvezne:

- odgovornosti prevoznika za nastalo škodo.
- določbe o ukrepih, ko pride do ovir pri izvedbi prevoza.
- predmet pogodbe.
- predmet pogodbe in višina plačila.

6A2M4M5P

Prejeli ste naročilo za prevoz pokvarljivega blaga. Kateri pogoj mora biti izpolnjen, da je pogodba veljavna?

7A2M2M3M4M5P

Navedite najmanj dva primera neobveznih sestavin prevoznih pogodb, ki pa sta po vašem mnenju za prevoznika pomembna pri izpolnitvi obveznosti iz prevozne pogodbe in ugotavljanju odgovornosti!

8A2M4M5I

Tovorni list

- je pisna prevozna pogodba.
- je le dokaz za obstoj prevozne pogodbe.
- je prevozna listina in dokaz za obstoj prevozne pogodbe.
- je le prevozna listina, ki nima zveze z prevozno pogodbo.

10A2M2M3M4M5I

Ali mora biti prevozna pogodba sklenjena pisno?

- Za sklenitev pogodbe se ne zahteva nikakršna oblika, razen če zakon drugače določa.
- Za sklenitev pogodbe se ne zahteva nikakršna oblika.
- Pogodba mora biti vedno sklenjena v pisni obliki.
- Pogodba je lahko vedno sklenjena ustno ali z molkom stranke.

11A2M2M3M4M5I

Kje se šteje za kraj sklenitve pogodbe?

- Šteje se, da je pogodba sklenjena v kraju, v katerem je imel ponudnik svoj sedež oziroma prebivališče v trenutku, ko je dal ponudbo.
- Šteje se, da je pogodba sklenjena v kraju, v katerem je imel prejemnik ponudbe svoj sedež oziroma prebivališče v trenutku, ko je sprejel ponudbo.
- Šteje se, da je pogodba sklenjena v kraju kjer se pogodba izvrši.
- Kraj sklenitve pogodbe v obligacijskem pravu ni pomemben.

12A2M2M3M4M5I

Kaj je v obligacijskem (pogodbenem) pravu ponudba?

- Ponudba je določeni osebi dan predlog za sklenitev pogodbe, ki vsebuje vse bistvene sestavine pogodbe, tako da bi se z njegovim sprejemom pogodba lahko sklenila.
- Ponudba je določeni osebi dan predlog za sklenitev pogodbe.
- Ponudba je določeni osebi dan predlog za sklenitev pogodbe, ki vsebuje vse podatke o pogodbenih strankah.
- Ponudba je določeni osebi dan predlog za sklenitev pogodbe, ki vsebuje vsaj nekaj bistvenih sestavin pogodbe.

13A2M2M3M4M5I

Kakšen mora biti predmet pogodbe (obveznost pogodbene stranke)? Označite najbolj točen odgovor!

- Predmet pogodbe oziroma obveznost mora biti mogoča, dopustna in določena oziroma določljiva.
- Predmet pogodbe oziroma obveznost mora biti izvršljiva in vsaj približno določljiva.
- Predmet pogodbe oziroma obveznost mora biti mogoča in dopustna.
- Predmet pogodbe oziroma obveznost mora biti mogoča, dopustna in določena oziroma določljiva ter za ustrezno ceno.

14A2M2M3M4M5I

Vsaka pogodbeno obveznost mora imeti dopustno podlago (razlog). Kdaj je podlaga nedopustna?

- Podlaga je nedopustna, če je v nasprotju z ustavo, s prisilnimi predpisi ali z moralnimi načeli.
- Podlaga je nedopustna, če ni usklajena med pogodbenimi strankami.
- Podlaga je nedopustna, če pogodbe ne overi notar ali odvetnik.
- Podlaga je nedopustna, če je v nasprotju z ustavo.

15A2M2M3M4M5P

Kakšna oblika se zahteva za sklenitev pogodbe (pisno, ustno, z overitvijo...)? Ali se lahko stranki dogovorita drugače?

16A2M2M3M4M5I

Kakšna pogodba je nična?

- Pogodba, ki nasprotuje ustavi, prisilnim predpisom ali moralnim načelom ali če ni bila sklenjena v predpisani obliki.
- Pogodba, ki ni bila sklenjena ali overjena pri notarju.
- Če je pogodbo sklenila pravna oseba.
- Če za pogodbo ni določena posebna oblika pa je bila kljub temu sklenjena pisno.

A3: Biti sposoben reševati zahteve naročnika za nadomestilo izgube ali škode, povzročene blagu med prevozom, ali za zamudo pri dostavi blaga, in razumeti, kako taka terjatev vpliva na njegovo pogodbeno odgovornost**1A3M4M5I**

Bistvene sestavine pogodbe o prevozu tovora so:

- tovor, relacija in voznina.
- tovor, relacija, vozilo in voznina.
- relacija, rok prevoza in voznina.
- relacija in rok prevoza.

2A3M4M5I

Če se prevoznik in pošiljatelj tovora ne dogovorita za vozilo, je prevoznik dolžan uporabiti

- katerokoli lastno ali najeto registrirano vozilo.
- vozilo, s katerim je zagotovljena pravilna in pravočasna izvršitev prevozne pogodbe.
- vozilo, ki je primerno glede na količino (prostornina, teža) tovora.
- vozilo, ki lahko vozi s hitrostjo, da je zagotovljena pravočasna dostava pošiljke.

3A3M4M5P

Opišite obveznosti prevoznika pri nakladanju tovora in možna ukrepanja ter pravice prevoznika, če ni upoštevan dogovorjeni nakladalni čas.

4A3M4M5P

V katerih primerih se za prevoze v notranjem cestnem prometu izda tovorni list in kakšna je njegova funkcija?

5A3M4M5P

Kdo prejme izvode tovrnega lista?

7A3M4M5I

Kaj je dolžan narediti prevoznik, če zaradi ovir med prevozom ne more izvršiti prevoza po dogovorjeni poti in v dogovorjenem roku?

- Zahtevati navodila od pošiljatelja in ukrepati po prejetih navodilih.
- Zahtevati navodila od pošiljatelja. Če jih ne dobi v razumnem roku, mora ukrepati v interesu pošiljatelja.
- Sam se odloči za drugo prevozno pot.
- Prilagodi čas in hitrost vožnje, tako da bo opravil prevoz v dogovorjenem roku.

8A3M4M5I

V prevozni pogodbi niste določili prevozne poti in prevoznega roka. Po Zakonu o prevoznih pogodbah v cestnem prometu

- nimate nobenih obveznosti glede spoštovanja prevozne poti in prevoznega roka.
- prevoz morate opraviti po poti, ki najbolj ustreza interesom pošiljatelja in v roku, ki je običajen glede na dolžino poti, tovor in vozilo.
- prevoz morate opraviti po najkrajši poti.
- prevoz morate opraviti v najkrajšem času.

9A3M4M5I

Pri prevzemu tovora niste zahtevali navodil za ukrepanje v primeru nastopa nevarnosti za poškodbo tovora. Med prevozom je nastopila nevarnost poškodbe tovora. Kaj boste ukrenili?

- Zahtevali navodila od pošiljatelja.
- Ukrenili vse, da boste obvarovali tovor.
- Nadaljevali vožnjo, če nevarnost ne ogroža drugih udeležencev prometa.
- Prekinili vožnjo in odstopili od prevozne pogodbe.

10A3M4M5P

Kaj lahko zahteva pošiljatelj od prevoznika med prevozom in na kakšen način?

11A3M4M5P

Med prevozom pošiljatelj telefonsko zahteva, da izročite tovor v drugem namembnem kraju. Kako boste postopali?

12A3M4M5I

Med prevozom je prišlo do delne izgube tovora. V katerih primerih lahko prevoznik izpodbija zahtevek za odškodnino?

(označite nepravilni odgovor)

- Če je bil izdan tovorni list,
- Če je v tovorni list vpisal pridrške glede števila in oznake tovorkov,
- Če je v tovorni list vpisal pridrške glede zunanjšega stanja tovora,
- Če je bil razlog za izgubo uporaba nepokritega vozila, njegova uporaba pa ni bila izrecno dogovorjena v tovornem listu.

13A3M4M5P

Opravljate prevoz pokvarljivega blaga z ustreznim vozilom. Blago se je med prevozom pokvarilo. Pošiljatelj zahteva odškodnino. V katerem primeru boste lahko oproščeni odgovornosti za nastalo škodo?

14A3M4M5P

Kdaj se šteje po Zakonu o prevoznih pogodbah v cestnem prometu, da je tovor izgubljen in v kolikem času mora upravičenec zahtevati odškodnino?

15A3M4M5I

Odgovornost prevoznika po Zakonu o prevoznih pogodbah v cestnem prometu je

(označite nepravilni odgovor)

- za izgubo in poškodbo tovora največ 8,33 SDR za kg kosmate teže primanjkljaja, če ni v tovornem listu navedena višja vrednost,
- voznino in druge stroške prevoza v celoti za izgubo oziroma sorazmerni del, če gre za poškodbo tovora,
- za zamudo v višini dvojne voznine,
- za izgubo in poškodbo največ 8,33 SDR za kg kosmate teže v vsakem primeru.

16A3M4M5I

Po Zakonu o prevoznih pogodbah v cestnem prometu prevoznik ni dolžan izplačati odškodnine za poškodbo tovora,

- če upravičenec ne vloži pisne reklamacije v 7 dneh od dneva izročitve tovora.
- če prejemnik ne sestavi zapisnika ob prevzemu tovora.
- če prejemnik ne vpiše v tovarni list pripombe na količino in stanje tovora.
- če ni bil izdan tovarni list.

17A3M4M5P

Kolikšen je rok za vložitev tožbe za terjatve iz pogodbe o prevozu tovora po Zakonu o prevoznih pogodbah v cestnem prometu in kolikšen je zastarani rok ter kdaj začne teči?

18A3M4M5S

Prevoznik Kamiončič je naložil osebne računalnike v Mariboru za Ljubljano. Tovor je vreden 50.000 €, težak 3.750 kg, v pošiljki je 250 kosov računalnikov. Ob prevzemu pošiljke je prejemnik ugotovil, da 10 računalnikov manjka.

1. Kaj mora narediti prejemnik ob prevzemu?
2. Izračunajte največjo odgovornost prevoznika za primanjkljaj po zakonu?
3. Koliko je tržna vrednost primanjkljaja?
4. Kaj bi moral narediti pošiljatelj, da bi bil upravičen do odškodnine po tržni vrednosti?

19A3M4M5P

Prevoznik je prepeljal tovor na nepokritem vozilu in je prišlo do izgube dela tovora. Pošiljatelj zahteva odškodnino. V katerem primeru je prevoznik dolžan plačati odškodnino in v katerem primeru je ni dolžan plačati?

20A3M4M5P

Ko je voznik prišel na nakladalno mesto, ga je pošiljatelj obvestil, da je prišlo do spremembe tovora. Kakšna navodila boste dali vozniku glede sprejema novega tovora v prevoz?

21A3M4M5I

Voznik ima pred prevzemom tovora pravico preveriti in pripombe vpisati v prevozno dokumentacijo:
(označite nepravilni odgovor)

- o številu tovorkov,
- o označbi tovorkov,
- o zunanjem stanju tovora in embalaži,
- o vsebini tovorkov.

22A3M4M5I

Med prevozom je pošiljatelj telefonsko obvestil prevoznika, da se prevoz ustavi. Kako bo ravnal prevoznik?
(označite nepravilni odgovor)

- Zahteval bo pisno potrditev telefonskega obvestila.
- Pisno bo pošiljatelja obvestil o izvršitvi naročila.
- Zahteval bo plačilo celotne voznine in drugih stroškov v zvezi z uveljavitvijo zahteve.
- Zahteval bo plačilo voznine za prevoženo pot.

23A3M4M5P

Prejemnik je prevzel tovor brez zadržkov. Kasneje pa je odkril poškodbe. Kakšen mora biti ugovor, ki ga pošlje prevozniku in v kolikšnem času ga mora poslati, da ima pravico do odškodnine?

24A3M4M5P

Prevoznik ni pravočasno dostavil pošiljke. V kolikem času lahko oškodovanec zahteva odškodnino in kolikšna je omejitev odškodnine?

25A3M4M5P

Med prevozom je prišlo do poškodbe tovora. Pošiljatelj zahteva odškodnino. Kateri so »splošni oprostilni razlogi«, na katere se lahko sklicujete, da bi se razbremenili odgovornosti za nastalo škodo?

26A3M4M5P

Med prevozom je prišlo do poškodbe tovora. Pošiljatelj zahteva odškodnino. Kateri so »posebni (priviligirani) oprostilni razlogi«, na katere se lahko sklicujete, da bi se razbremenili odgovornosti za nastalo škodo?

27A3M4M5P

V katerem primeru se prevoznik ne more sklicevati na zakonsko določeno omejitev odgovornosti, če je prišlo do poškodbe tovora?

28A3M4M5P

Ste »zaporedni prevoznik«. Na prevozni poti je prišlo do poškodbe tovora. V katerem primeru ste odgovorni za nastalo škodo v celoti in v katerem primeru ste solidarno odgovorni?

29A3M4M5P

Kdo je odgovoren za škodo pri multimodalnem prevozu?

30A3M4M5I

Katera od navedenih trditev je najbolj pravilna?

- Prevoznik je odgovoren za izgubo ali poškodbo tovora in za zamudo.
- Prevoznik je odgovoren za izgubo tovora.
- Prevoznik je odgovoren za izgubo ali poškodbo tovora.
- Prevoznik je odgovoren za izgubo tovora, poškodbo tovora, za zamudo ter za predolge carinske postopke.

31A3M4M5P

Za kaj odgovarja prevoznik pri prevozu blaga? Kako se lahko reši odgovornosti?

Predmet B: Gospodarsko pravo

B1: Poznati pogoje in formalnosti, ki so določene za opravljanje tega dela, splošne obveznosti, ki jih imajo prevozniki (registracija, vodenje evidenc itd.) in posledice stečaja

1B1M2M3M4M5I

Odločili ste se, da boste prenehali opravljati dejavnost cestnega prevoza kot samostojni podjetnik posameznik. Kaj morate storiti?

- Na primeren način objaviti prenehanje dejavnosti najmanj 3 mesece pred prijavo prenehanja AJPES in najmanj 15 dni pred datumom prenehanja prenehanje prijaviti AJPES.
- Prijaviti prenehanje AJPES.
- Prijaviti prenehanje izdajatelju licence.
- Prijaviti prenehanje pristojnemu ministrstvu.

2B1M2M3M4M5P

Kaj morate storiti, če želite prenehati opravljati prevoze kot samostojni podjetnik?

3B1M2M3M4M5I

Obveznosti družbenikov družbe z omejeno odgovornostjo so: **(označite nepravilni odgovor)**

- plačilo osnovnega deleža,
- ohranjanje vrednosti osnovnega kapitala,
- plačilo obveznosti v primeru izbrisa družbe na predlog družbenikov,
- plačilo zapadlih terjatev.

4B1M2M3M4M5S

Kaj je osebni stečaj. V katerem primeru samostojni podjetnik lahko predlaga osebni stečaj? Kako poteka osebni stečaj?

5B1M2M3M4M5I

AJPES po uradni dolžnosti izbriše samostojnega podjetnika posameznika iz Poslovnega registra Slovenije:
(označite nepravilni odgovor)

- če podjetnik v dveh zaporednih letih ne predloži letnega poročila,
- če je uveden stečaj,
- če ugotovi, da je podjetnik pri vpisu v poslovni register predložil neresnično izjavo, da nima neporavnanih obveznosti iz njegovih prejšnjih poslovanj,
- če zaposluje voznike, ki ne izpolnjujejo zakonskih pogojev.

6B1M2M3M4M5I

Odločili ste se za ustanovitev enoosebne družbe z omejeno odgovornostjo. Kateri pogoj mora tudi biti izpolnjen, da lahko izvedete postopek?

- edini družbenik sprejme akt o ustanovitvi (družbeno pogodbo)
- obvezno mora izpolniti izjavo pred notarjem
- takšen postopek ni dovoljen
- osnovni vložek mora plačati vsaj v enem letu po ustanovitvi

7B1M2M3M4M5P

Odločili ste se za ustanovitev enoosebne družbe z omejeno odgovornostjo. Vpis v sodni register lahko izvedete preko sistema e-VEM. Kateri pogoji morajo biti izpolnjeni, da lahko izvedete vpis?

8B1M2M3M4M5I

V postopku prisilne poravnave se lahko terjatve upnikov:
(označite nepravilni odgovor)

- spremenijo (pobotajo, konvertirajo).
- zmanjšajo.
- odložijo.
- odpišejo.

9B1M2M3M4M5I

Stečajni postopek lahko predlaga:

(označite nepravilni odgovor)

- dolžnik sam.
- upnik.
- sodišče, če dolžnik ni izplačal plač za obdobje zadnjih treh mesecev.
- sodišče, če je dolžnik nelikviden več kot 3 zaporedne mesece.

10B1M2M3M4M5P

Kaj je stečaj in v kolikšnem času morajo upniki prijaviti terjatve stečajnemu sodišču?

11B1M2M3M4M5I

Posledice uvedbe stečajnega postopka so naslednje:

(označite nepravilni odgovor)

- prenehanje delovnega razmerja dolžnikovih delavcev.
- ugasnitev dolžnikovega računa.
- prodaja dolžnikovega premoženja.
- kazenska ovadba poslovodje (direktorja) oziroma članov organa vodenja.

12B1M2M3M4M5P

V čem se razlikuje upravljanje v d.o.o. in d.d.?

13B1M2M3M4M5P

Opišite razliko med samostojnim podjetnikom posameznikom in družbo z omejeno odgovornostjo glede odgovornosti za obveznosti do upnikov!

14B1M2M3M4M5S

Opravljate prevoze kot gospodarska družba z omejeno odgovornostjo. Ugotovili ste da ste v finančnih težavah oziroma nelikvidni ter ne morete izpolnjevati svojih finančnih obveznosti (insolventnost). Z nadaljevanjem poslovanja se vaša izguba povečuje.

1. Kakšen postopek boste predlagali na sodišču, da bi poskušali rešiti zdravo jedro podjetja?
2. Kakšne so glavne pravne posledice uvedbe tega postopka?
3. Kdaj nastopijo pravne posledice tega postopka?

B2: Imeti primerno znanje o raznih oblikah gospodarskih družb in o pravilih o njihovem ustroju in delovanju

1B2M2M3M4M5I

Na podlagi tržne raziskave ste se odločili za opravljanje cestnega prometa. Izbirate lahko med naslednjimi pravnoorganizacijskimi oblikami:

(označite nepravilni odgovor)

- ustanovili boste gospodarsko družbo,
- delovali boste kot samostojni podjetnik posameznik,
- ustanovili boste gospodarsko javno službo,
- ustanovili boste delniško družbo.

2B2M2M3M4M5I

Odločili ste se, da boste opravljali prevoze v cestnem prometu kot samostojni podjetnik posameznik. Za vpis v Poslovni register Slovenije pri Agenciji RS za javnopravne evidence in storitve potrebujete:

(označite nepravilni odgovor)

- ime firme.
- sedež firme.
- podatke o dejavnosti.
- poslovni načrt.

3B2M2M3M4M5P

Naštejte osebne in kapitalske gospodarske družbe!

4B2M2M3M4M5I

Odločili ste se, da ustanovite družbo z omejeno odgovornostjo za opravljanje cestnih prevozov. K predlogu za vpis v Sodni register pri pristojnem okrožnem sodišču morate priložiti:

(označite nepravilni odgovor)

- družbeno pogodbo.
- seznam družbenikov z navedbo vložkov.
- potrdilo banke o prejetih nakazilih denarnih vložkov.
- poslovni načrt.

5B2M2M3M4M5P

Koliko znaša osnovni kapital, ki ga morajo zagotoviti družbeniki, ki želijo ustanoviti družbo z omejeno odgovornostjo in opišite postopek ustanovitve družbe, če družbo ustanavlja več družbenikov?

6B2M2M3M4M5I

Kateri izmed navedenih razlogov ni razlog za izbris družbe z omejeno odgovornostjo iz sodnega registra:

- sklep družbenikov.
- stečaj.
- če se osnovni kapital zniža pod 7.500 €.
- zaposlovanje voznikov, ki ne izpolnjujejo zakonskih pogojev.

7B2M2M3M4M5I

Prenehanje kapitalske družbe po skrajšanem postopku se izvede, če
(označite nepravilni odgovor)

- so poplačane vse obveznosti družbe oziroma družbeniki prevzamejo preostale obveznosti.
- so urejena vsa razmerja z delavci.
- sklep o prenehanju družbe sprejmejo vsi družbeniki.
- je uveden stečaj.

8B2M2M3M4M5P

Opišite postopek rednega prenehanja kapitalske družbe!

9B2M2M3M4M5I

Izbris kapitalske družbe brez likvidacije predlaga sodišče,
(označite nepravilni odgovor)

- če družba nima premoženja.
- če v dveh zaporednih poslovnih letih ni predložila letnega poročila AJPES.
- če nastopi razlog, ki ga za izbris brez likvidacije določa drug zakon.
- če je dalj časa plačilno nesposobna.

10B2M2M3M4M5P

Opišite razliko med ustanoviteljem enoosebne družbe z omejeno odgovornostjo in samostojnim podjetnikom posameznikom!

11B2M2M3M4M5I

Vpisali ste se za opravljanje cestnega prometa v poslovni oziroma sodni register. Prevoze lahko začnete izvajati

(označite najbolj pravičen odgovor)

- z dnem vpisa v poslovni oziroma sodni register.
- ko podpišete prevozno pogodbo z naročnikom.
- ko pridobite licenco.
- ko pridobite licenco in predpisana dovoljenja, ki jih določa zakon za nekatere vrste prevozov.

12B2M2M3M4M5P

Koliko znaša osnovni kapital, ki ga mora zagotoviti družbenik, ki želi ustanoviti enoosebno družbo z omejeno odgovornostjo? Opišite postopek ustanovitve.

13B2M2M3M4M5S

Ustanavljate podjetje za izvajanje prevozov v cestnem prometu. Ne želite odgovarjati za obveznosti podjetja z vsem svojim premoženjem. Želite biti edini lastnik podjetja in bi želeli začeti poslovati čimprej. Tudi ustanovitev naj bi bila čimbolj enostavna in hitra.

1. Za kakšno pravnoorganizacijsko obliko podjetja se boste odločili, da zadostite vašim željam oziroma zahtevam?
2. Opišite postopek ustanovitve te oblike podjetja za katero ste se odločili!
3. Kam vpisujete sklepe glede vodenja družbe kot lastnik oziroma družbenik?

Predmet C: Delovnopravna ter socialna zakonodaja

C1: Poznati vlogo in funkcijo različnih socialnih institucij, ki se ukvarjajo s cestnim prevozom (sindikati, delavski sveti, sindikalni predstavniki, inšpektorji dela itd)

1C1M2M3M4M5I

Delavci imajo pravico sodelovati pri aktivnosti, namenjenih izboljševanju delovnih razmer:

(označite nepravilni odgovor)

- po delavskem zaupniku v gospodarski družbi do 20 delavcev.
- po svetu delavcev v družbah z več kot 20 delavcev.
- po delavskem direktorju v upravi družbe.
- po sindikalnem zaupniku.

2C1M2M3M4M5I

Delodajalec mora pridobiti soglasje delavskega zaupnika oziroma sveta delavcev k naslednjim odločitvam:

(označite nepravilni odgovor)

- o ukrepih za zagotavljanje varnosti in zdravja pri delu, ki niso predpisani po zakonih in drugih predpisih.
- o merilih za ocenjevanje delovne uspešnosti.
- o izrabi letnega dopusta.
- o uvedbi stečajnega postopka.

3C1M2M3M4M5I

Sindikalni zaupnik

- na zahtevo delavca zastopa delavca pred organi vodenja.
- določa minimalno plačo.
- sprejema ukrepe za zagotavljanje varnosti in zdravja pri delu.
- zastopa delavca pred sodišči v sporih iz delovnega razmerja.

4C1M2M3M4M5I

Delodajalec ne more sindikalnega zaupnika zaradi njegove sindikalne dejavnosti:

(označite nepravilni odgovor)

- razporediti na drugo delovno mesto.
- znižati plače.
- uvesti disciplinski postopek.
- postavljati v ugodnejši položaj glede razporeditve delovnega časa in letnega dopusta.

5C1M2M3M4M5I

Inšpekcijski nadzor nad izvajanjem Zakona o delovnih razmerjih izvaja

- Ministrstvo za delo, družino in socialne zadeve.
- Inšpektorat RS za delo.
- pristojno sodišče.
- sindikat.

6C1M2M3M4M5I

Delodajalska združenja zastopajo:

- interese delodajalcev.
- interese delojemalcev.
- interese Vlade RS.
- interese Ministrstva za infrastrukturo.

7C1M2M3M4M5P

Pri opravljanju nalog inšpekcijskega nadzora ima inšpektor pravico (naštej najmanj štiri pooblastila inšpektorja)!

8C1M2M3M4M5I

Katera delodajalska organizacija ne sodeluje pri pogajanjih za sklenitev kolektivne pogodbe za cestni potniški promet?

- Trgovinska zbornica Slovenije.
- Obrtno-podjetniška zbornica Slovenije.
- Gospodarska zbornica Slovenije - Združenje za promet.
- Združenje delodajalcev Slovenije - Sekcija za promet in zveze.

9C1M2M3M4M5I

Sindikot delavcev prometa in zvez je reprezentativen za: **(označi nepravilen odgovor)**

- železniški promet
- dejavnost cestnega potniškega prometa
- dejavnost prevoza blaga, špedicije ter skladiščenja
- dejavnost cestnega gospodarstva

C2: Poznati obveznosti delodajalca do socialne varnosti

1C2M2M3M4M5I

V Sloveniji je socialno zavarovanje obvezno za vse zaposlene in samozaposlene. Zavezanci plačujejo prispevke za:

- Obvezno pokojninsko in invalidsko zavarovanje, obvezno zdravstveno zavarovanje in zavarovanje za primer brezposelnosti
- Obvezno pokojninsko in invalidsko zavarovanje in obvezno zdravstveno zavarovanje
- Obvezno zdravstveno zavarovanje
- Obvezno pokojninsko in invalidsko zavarovanje, obvezno zdravstveno zavarovanje, starševsko varstvo, zaposlovanje, zavarovanje za primer poškodbe pri delu

2C2M2M3M4M5I

Prijavo podatkov v obvezno socialno zavarovanje (obrazec M1) je v primeru zaposlitve delavca, Zavodu za zdravstveno zavarovanje dolžan posredovati

- delodajalec z dnem nastopa dela po pogodbi o zaposlitvi
- delodajalec v 8 dneh po nastopu dela
- delavec z dnem nastopa dela
- delavec v 8 dneh po nastopu dela

3C2M2M3M4M5I

Samozaposlene osebe (s.p.) morajo prijavo podatkov v obvezno socialno zavarovanje (M-1) posredovati Zavodu za zdravstveno zavarovanje

- v 8 dneh od izpolnitve pogojev za vstop v obvezno zavarovanje
- pri vpisu v poslovni register
- prijava ni potrebna, ker to opravi AJ PES po uradni dolžnosti ob vpisu v poslovni register
- prijava ni potrebna, ker socialno zavarovanje ni obvezno

4C2M2M3M4M5P

Samozaposleni (s.p.) in delodajalci so v skladu s predpisi dolžni obračunati, odtegniti in odvesti prispevke za socialno varnost. Kaj je osnova za plačilo prispevkov samozaposlenih? Kako je določena osnova za plačilo prispevkov za socialno zavarovanje delavcev v delovnem razmerju?

5C2M2M3M4M5I

Zavarovalna osnova za obračun prispevkov za socialno varnost za samozaposlene (s.p.) je

- DOBIČEK, ki se določi po Zakonu o pokojninskem in invalidskem zavarovanju - ZPIZ 2
- davčna osnova po davčnem obračunu
- zavarovalni razred, v katerega je vključen zavarovanec na podlagi poslovnih rezultatov v preteklem letu
- samozaposleni plača pavšalni znesek, ki ga določa predpis

6C2M2M3M4M5S

Davčna osnova po podatkih iz davčnega obračuna za preteklo leto je 20.000,00 evrov. V preteklem letu je samozaposleni plačal 5.416,92 evrov prispevkov za socialno varnost. Izračunajte zavarovalno osnovo, če zavarovalno osnovo po predpisih (DOBIČEK) znižate za 25 %! Izračunajte prispevke, če je vsota prispevnih stopenj za socialno varnost 38,20 %!

7C2M2M3M4M5S

Prevoznik ugotavlja davčno osnovo po dejanskih prihodkih in normiranih odhodkih. Za opravljene prevozne storitve je v preteklem letu pripoznal 20.000,00 evrov davčno priznanih prihodkov. Kot samozaposleni je plačal 5.416,92 evrov prispevkov za socialno varnost.

1. Kolikšna je mesečna zavarovalna osnova prevoznika?
2. Koliko znašajo prevoznikovi mesečni prispevki za socialno varnost, če je povprečna letna plača zaposlenih v RS 2.023,92 evrov, najnižja zavarovalna osnova za plačilo prispevkov 60% povprečne letne plače in vsota prispevnih stopenj za socialno varnost 38,2%?

8C2M2M3M4M5P

Prevoznik zaposluje voznike. Kako je določena zavarovalna osnova, od katerih se obračunajo prispevki za socialno varnost za zaposlene? Komu, kdaj in na kakšen način se predloži REK-O obrazec?

9C2M2M3M4M5S

Prevoznik zaposluje voznika z bruto plačo 1.300,00 evrov. Na dan izplačila plače znašajo prispevne stopnje:

Vrsta prispevka	zavarovanca v %	delodajalca v %
Za PIZ	15,50	8,85
za zdrav.	6,36	6,56
za star.v.	0,10	0,10
za zap.	0,14	0,06
za pošk.		0,53

1. Izračunaj prispevke delodajalca in delavca!
2. Kdo obračuna in plača prispevke delojemalca?
3. Komu, kdaj in na kakšen način se predloži REK-O obrazec?

10C2M2M3M4M5I

Zaposleni voznik je zjutraj delodajalcu sporočil, da je zbolel. Ker je treba prevoz nujno opraviti, prevoznik izjemoma sklene podjemno pogodbo z voznikom, ki je že zavarovan na drugi podlagi zato ne plača prispevka

- za pokojninsko in invalidsko zavarovanje v breme zavarovanca
- za zdravstveno zavarovanje v breme zavarovanca
- prispevkov v breme zavarovanca
- prispevkov v breme delodajalca

11C2M2M3M4M5S

Prevoznik je zaradi izrednih razmer, sklenil podjemni pogodbi

- z voznikom, ki ni zavarovan na drugi podlagi in
- z voznikom, ki je zaposlenim za polni delovni čas pri drugem delodajalcu.

Dogovorjeno plačilo za opravljen prevoz po obeh podjemnih pogodbah znaša 200 evrov. Izračunajte prispevke za socialno varnost za voznika in prevoznika po obeh podjemnih pogodbah, če znašajo prispevne stopnje

Vrsta prispevka	Za zavarovanca v %	Za delodajalca v %
Za PIZ	15,50	8,85
Za zdravstveno zav., poškodbe pri delu	6,36	0,53

Ali je obremenitev delodajalca s prispevki glede na status voznika različna! Utemeljite odgovor.

12C2M2M3M4M5I

Prevoznik opravlja dejavnost kot popoldanski s.p.. Ali je v okviru opravljanja dejavnosti dolžan plačevati obvezne prispevke za socialno varnost?

- da, plačuje pavšalne prispevke
- ne, prispevke plačuje le delodajalec
- da, plačuje polne prispevke
- ne, prispevke plačuje le redni s.p.

13C2M2M3M4M5I

Prevozniki, ki opravljajo dejavnost kot postranski poklic plačujejo pavšalne prispevke za socialno varnost: **(označite nepravilni odgovor)**

- za zaposlovanje
- za pokojninsko in invalidsko zavarovanje
- za primer bolezni in poškodbe izven dela
- za primer poškodbe pri delu in poklicne bolezni

14C2M2M3M4M5I

Obvezne prispevke za socialno varnost zaposlenih je potrebno plačati:

- v 5 dneh po izplačilu plače.
- na dan izplačila plače.
- v 8 dneh po izplačilu plače.
- do 20. v mesecu.

15C2M2M3M4M5P

Delodajalec, ki sklene z delavcem pogodbo o zaposlitvi za nedoločen čas, je skladno z ZUTD-A oproščen plačila prispevka. Katerega in za kakšno obdobje?

16C2M2M3M4M5P

Delodajalec, ki sklene z delavcem pogodbo o zaposlitvi za določen čas, je skladno z ZUTD-A dodatno obremenjen s plačilom prispevka za zavarovanje za primer brezposelnosti. V kakšni višini plačuje prispevek? Kako dolgo?

17C2M2M3M4M5P

145. člen ZPIZ-2 določa, da so samozaposlene osebe oproščena plačila prispevka zavarovanca in prispevka delodajalca po prvem vpisu v poslovni register. Za katero obdobje in v kakšni višini?

18C2M2M3M4M5P

Prevoznik je zavarovan za polni zavarovalni čas preko dejavnosti. Kdo in kdaj pripravi obračun prispevkov za socialno varnost samozaposlenih? Kaj stori zavezanec, če obračun ni pravilen, popoln ali ga ni prejel? Kdaj in kam je potrebno vložiti popravek obračuna? Rok za plačilo prispevkov?

19C2M2M3M4M5I

Najnižja in najvišja osnova za prispevke za socialno varnost samozaposlenih je vezana na zadnjo znano povprečno letno plačo zaposlenih v RS (v nadaljevanju PP). Označi pravičen odgovor.

- Najnižja 60% PP, najvišja 3,5 kratnik PP
- Najnižja 90% PP, najvišja 2,5 kratnik PP
- Najnižja 70% PP, najvišja 4 kratnik PP
- Najnižja 80% PP, najvišja 3 kratnik PP

20C2M2M3M4M5P

Če samozaposleni prevoznik oceni, da zavarovalna osnova ne ustreza pričakovanemu dobičku v tekočem letu, lahko plačuje prispevke od drugačne zavarovalne osnove. Kako zavezanec spremeni zavarovalno osnovo? Za koliko jo lahko spremeni?

21C2M2M4P

Prevoz bo opravil družinski član. Ali je potrebno osebo prijaviti v zavarovanje? Če da, opišite postopek prijave in plačila prispevka!

22C2M2M4P

Prevoz bo opravil upokojenec preko pogodbe o začasnem in občasnem delu upokojencev. Ali je potrebno osebo prijaviti v zavarovanje? Če da, opišite postopek prijave in plačila prispevkov!

23C2M2M3M4M5P

Delavec za poln delovni čas prejema plačo nižjo od minimalne plače. Kaj je dolžan storiti delodajalec? Kdo nosi prispevke za PIZ in ZZ zavarovanca do najnižje zavarovalne osnove?

C3: Poznati pravila, ki urejajo pogodbe o delu za različne vrste delavcev, ki so zaposleni v podjetjih za cestni prevoz (oblika pogodb, obveznosti pogodbenih strank, delovni pogoji in delovne ure, plačani dopust, plačilo za delo, kršitev pogodbe itd.)

1C3M2M3M4M5I

Delovno razmerje je sklenjeno

- če se delavec prostovoljno vključi v organiziran delovni proces delodajalca in v njem za plačilo, osebno in nepretrgano opravlja delo po navodilih in pod nadzorom delodajalca
- če delodajalec in delavec podpišeta pogodbo o delu.
- ko delodajalec prijavi sklenitev delovnega razmerja Zavodu za zdravstveno zavarovanje.
- če delavec pisno izjavi, da sprejema prosto delovno mesto.

2C3M2M3M4M5I

Katere od naslednjih določil niso obvezne sestavine pogodbe o zaposlitvi:

- naziv delovnega mesta.
- osnovna plača.
- datum nastopa dela.
- razlogi za odpoved pogodbe o zaposlitvi.

3C3M2M3M4M5I

Sklepete pogodbo o zaposlitvi z voznikom. Katero izmed naslednjih določil **ne sme** vsebovati pogodba:

- kraja opravljanja dela.
- razporeditev delovnega časa.
- čas trajanja delovnega razmerja.
- določila o plači, ki je odvisna od prevoženih kilometrov.

4C3M2M3M4M5I

Pogodba o zaposlitvi za določen čas se lahko sklene za:

(označite nepravilni odgovor)

- nadomeščanje začasno odsotnega delavca.
- zaposlitev tujca ali osebe brez državljanstva, ki ima delovno dovoljenje za določen čas.
- začasno povečan obseg dela.
- za delo, ki traja več kot dve leti s slovenskim državljanom.

5C3M2M3M4M5I

Pogodba o zaposlitvi preneha:

(označite nepravilni odgovor)

- sporazumno.
- z redno ali izredno odpovedjo delodajalca ali delavca.
- v primeru stečaja ali likvidacije.
- če se delavec udeleži sindikalne stavke.

6C3M2M3M4M5I

Delodajalec lahko delavcu izredno odpove pogodbo o zaposlitvi brez upoštevanja odpovednega roka:

(označite nepravilni odgovor)

- če delavec krši obveznosti in ima kršitev vse znake kaznivega dejanja.
- če je delavec zaradi prestajanja zaporne kazni več kot 6 mesecev odsoten z dela.
- če delavec v času odsotnosti z dela zaradi bolezni ali poškodbe brez dovoljenja pristojnega zdravnika odpotuje iz kraja svojega bivanja.
- če več ne izpolnjuje pogojev, določenih z zakoni in izvršilnimi predpisi.

7C3M2M3M4M5P

Kakšna je razlika med pogodbo o zaposlitvi in podjemno pogodbo?

8C3M2M3M4M5I

Vaše podjetje opravlja prevoze tovora in potnikov. Zaradi zmanjšanja povpraševanja po prevozih potnikov ne potrebujete več enega voznika avtobusa. Imate pa prosto delovno mesto voznika za prevoz blaga. Kakšen je pravi postopek za prerazporeditev delavca na delovno mesto voznika za prevoz blaga?

- Delavca lahko kadarkoli razporedite na drugo delovno mesto
- Sklenete novo pogodbo o zaposlitvi za prevoz blaga, če delavec izpolnjuje posebne pogoje in soglaša s sklenitvijo nove pogodbe.
- Mu vročite sklep o izredni odpovedi pogodbe o zaposlitvi.
- Mu predlagate sporazumno prenehanje pogodbe o zaposlitvi.

9C3M2M3M4M5P

Kaj se smatra za redno odpoved pogodbe o zaposlitve delodajalca in navedite vsaj dva razloga za redno odpoved?

10C3M2M3M4M5P

Kaj se smatra za izredno odpoved pogodbe o zaposlitvi in v katerih primerih je izredna odpoved zakonsko dopustna? Navedite en primer izredne odpovedi s strani delodajalca in en primer s strani delavca?

11C3M2M3M4M5P

Kakšna je razlika med disciplinsko in odškodninsko odgovornostjo voznika?

12C3M2M3M4M5I

V katerih primerih kolektivna pogodba dejavnosti zavezuje delodajalca (označi nepravilen odgovor)

- če je član delodajalske organizacije podpisnice kolektivne pogodbe.
- če ima delno (za glavno dejavnost delodajalca) ali v celoti razširjeno veljavnost.
- če opravlja eno izmed dejavnosti, ki je navedena v stvarni veljavnosti kolektivne pogodbe.
- če se v pogodbi o zaposlitvi z delavcem dogovori za njeno uporabo.

14C3M2M3M4M5I

Načelo » v korist delavca« je temeljno načelo delovnega prava. Če razvrstite delovnopravne akte po vrsti od tistega, ki daje manj pravic delavcem do tistega, ki daje več pravic delavcu bo razvrstitev sledeča:

- Zakon o delovnih razmerjih – kolektivna pogodba dejavnosti – interni akt – pogodba o zaposlitvi
- Zakon o delovnih razmerjih – interni akt – kolektivna pogodba dejavnosti – pogodba o zaposlitvi
- Kolektivna pogodba dejavnosti – Zakon o delovnih razmerjih – interni akt – pogodba z zaposlitvi
- Zakon o delovnih razmerjih – pogodba o zaposlitvi – kolektivna pogodba dejavnosti – interni akt

15C3M4M5P

Delodajalca ne zavezuje nobena kolektivna pogodba dejavnosti. Kje so urejene pravice delavcev iz naslova povračila stroškov prehrane, prevoza na in iz dela ter službenih poti?

16C3M4M5I

Delodajalca ne zavezuje nobena kolektivna pogodba dejavnosti. Delavcu je dolžan povrniti stroške v zvezi z delom najmanj v višini, kot so določeni

- s kolektivno pogodbo dejavnosti, ki bi zavezovala delodajalca, če bi imela razširjeno veljavnost ali bi bil član delodajalske organizacije podpisnice kolektivne pogodbe.
- s splošno kolektivno pogodbo dejavnosti
- s podzakonskim aktom
- z Uredbo o davčni obravnavi povračil stroškov in drugih dohodkov iz delovnega razmerja

17C3M2M3M4M5P

Delodajalec mora z delavcem vedno skleniti pogodbo o zaposlitvi, kadar obstajajo elementi delovnega razmerja. Naštej vsaj štiri elemente delovnega razmerja!

18C3M2M3M4M5I

Katero pogodbeno razmerje lahko vsebuje elemente delovnega razmerja?

- Pogodba o začasnem in občasnem delu upokoјencev
- Podjemna pogodba
- Študentsko delo
- Pogodba o poslovnem sodelovanju

19C3M2M3M4M5I

Osnovna plača delavca določena v pogodbi o zaposlitvi ne sme biti nižja od

- najnižje osnovne plače po tarifni prilogi kolektivne pogodbe, ki zavezuje delodajalca
- vsakokrat veljavne minimalne plače
- povprečne plače zaposlenih v RS
- vsakokrat veljavne najnižje zavarovalne osnove

20C3M2M3M4M5P

Je izplačilo dodatka za delovno dobo obvezno? Kaj je osnova za obračun dodatka na delovno dobo? Se dodatek za delovno dobo obračuna na skupno delovno dobo ali delovno dobo pri zadnjem delodajalcu? Ali se dodatek za delovno dobo vključi v znesek minimalne plače?

21C3M2M3M4M5I

Kaj se všteva v znesek minimalne plače?

- Nadomestilo plače za letni dopust
- Dodatki določeni z ZDR-1 in kolektivnimi pogodbam
- Del plače za delovno uspešnost
- Plačilo za poslovno uspešnost, dogovorjeno s kolektivno pogodbo ali pogodbo o zaposlitvi

22C3M2M3M4M5I

Skladno z določbami ZDR-1 delavcu pripadajo dodatki za delo v posebnih pogojih dela, ki izhajajo iz razporeditve delovnega časa (**označite nepravilen odgovor**)

- Za delo v deljenem delovnem času za prekinitvev dela več kot 1 uro
- Za nočno delo
- Za nadurno delo
- Za delo v nedeljo, na praznike in dela proste dneve

23C3M2M3M4M5P

Delavec je upravičen do nadomestila plače za čas opravičene odsotnosti z dela. Naštej vsaj štiri razloge za izplačilo nadomestila plače!

24C3M2M3M4M5I

Delodajalec je delavcu dolžan izplačati regres za letni dopust najkasneje do **(označi nepravilen odgovor)**

- Do 1. maja tekočega koledarskega leta
- Do 1. julija tekočega koledarskega leta
- Do 1. novembra tekočega koledarskega leta, če delodajalca zavezuje kolektivna pogodba dejavnosti, ki omogoča zamik izplačila, vendar le za primer nelikvidnosti
- Do 31. decembra tekočega koledarskega leta, če se je delavec zaposlil po 1. juliju

25C3M2M3M4M5S

Delavca ste zaposlili s 1.3. Izračunajte število dni dopusta, če delavec dela v enakomernem delovnem času 6 dni na teden, do dodatnih dni letnega dopusta ni upravičen. Koliko bo prejel regresa za letni dopust, če delavcem izplačujete regres v višini minimalne plače (1.203,36 eur). Kdaj mu morate regres izplačati?

26C3M2M3M4M5P

Delavec je med letom odpovedal pogodbo o zaposlitvi. Regres za letni dopust mu je bil v celoti izplačan. Ali mora delavec vrniti sorazmerni del regresa do katerega ni upravičen? Lahko delavcu znesek regresa do katerega ni upravičen odtegnemo pri plači?

27C3M2M3M4M5I

Delavcu pripada odpravnina v primeru **(označi nepravilen odgovor)**

- Sporazumnega prenehanja pogodbe o zaposlitvi
- Prenehanja pogodbe o zaposlitvi za določen čas
- Prenehanja pogodbe o zaposlitvi iz poslovnega razloga ali razloga nesposobnosti
- Prenehanje pogodbe o zaposlitvi zaradi upokojitve

28C3M2M3M4M5I

Kdo lahko opravlja kratkotrajno delo v razmerju do podjetnika/solastnika družbe? **(označi nepravilen odgovor)**

- brat/sestra
- zakonec/izvenzakonski partner/partner v registrirani istospolni skupnosti
- oče/mama ter očim/mačeha
- sin/hči

29C3M2M3M4M5I

Komu delodajalec nikoli ne sme odrediti nadurnega dela? **(označite nepravilen odgovor)**

- Delavcu, ki varuje otroka do 3 let
- Delavcu, ki še ni dopolnil 18 let starosti
- Delavcu kateremu bi se po pisnem mnenju izvajalca medicine dela, oblikovanem ob upoštevanju mnenja osebnega zdravnika, zaradi takega dela lahko poslabšalo zdravstveno stanje
- Delavcu, ki dela krajši delovni čas v skladu s predpisi o pokojninskem in invalidskem zavarovanju, predpisi o zdravstvenem zavarovanju ali drugimi predpis

30C3M2M4P

Naštejte najmanj štiri obvezne sestavine pogodbe o opravljanju začasnega in občasnega dela upokoencev!

31C3M2M4I

ZUTD za opravljanje dela po pogodbi o začasnem in občasnem delu upokoencev predpisuje **(označite nepravilen odgovor)**

- Najnižji mesečni bruto dohodka upokojenca
- Najnižjo urno bruto postavko upokojenca
- Najvišji letni bruto dohodek upokojenca
- Omejitev mesečnega števila opravljenih ur upokojenkega dela

34C3M2M4I

Vozniki, ki opravljajo prevoze le na ozemlju RS in se dnevno vračajo v kraj bivanja, so upravičeni do povračila stroškov prehrane v obliki:

- Povračila stroška prehrane med delom
- Dnevnice
- Plačanega kosila
- Bonov za prehrano

36C3M2M3M4M5S

Ali mora delodajalec delavcu izdati potni nalog za službeno pot - utemelji? Kdaj ga je potrebno izdati? Naštej najmanj 4 bistvene sestavine potnega naloga!

37C3M2M3M4M5I

Po Zakonu o delovnem času in obveznih počitkih mobilnih delavcev ter o zapisovalni opremi o cestnih prevozih je najdaljši delovni čas voznika 60 ur, samo če v teku štirih mesecev ne preseže tedenskega povprečja 48 ur. Če delavec v referenčnem obdobju preseže zakonsko omejitev se presežek ur izplača kot:

- Nadura z dodatkom za nadurno delo
- Delovna ura delavca
- Nadura brez dodatka za nadurno delo
- Nedeljska ura

40C3M2M3M4M5I

Najdaljši tedenski delovni čas voznika se lahko poveča na 60 ur

- če se v teku štirih mesecev ne preseže tedenskega povprečja 48 ur
- če se v teku šestih mesecev ne preseže tedenskega povprečja 48 ur
- če se v teku štirih mesecev ne preseže tedenskega povprečja 56 ur
- če se v teku šestih mesecev ne preseže tedenskega povprečja 56 ur

41C3M2M3M4M5I

Evidenca o izrabi delovnega časa se začne za posameznega delavca voditi z dnem, ko sklene pogodbo o zaposlitvi, preneha pa z dnem, ko mu preneha pogodba o zaposlitvi. Podatki za posameznega voznika se morajo v evidenco vpisati čim prej, vendar ne kasneje kot:

- 28 dni po prejšnjem vpisu
- 28 delovnih dni po zadnjem vpisu
- 30 dni po prejšnjem vpisu
- 15 dni po prejšnjem vpisu

42C3M2M3M4M5P

Delodajalec je dolžan na svojem sedežu v evidenci o izrabi delovnega časa za voznike, po datumu vožnje in posameznem vozilu hraniti tudi:

- uporabljene tahografske vložke,
- prenesene podatke iz digitalnega tahografa in voznikovih kartic,
- vse ročne zapise ali izpise, ki jih je opravil voznik
- izdana potrdila o dejavnostih voznika na podlagi Uredbe ES št. 561/06 ali AETR.

Koliko časa je delodajalec dolžan hraniti na svojem sedežu zgoraj navedene podatke in dokumentacijo?
Koliko časa je delodajalec dolžan hraniti evidenco izrabi delovnega časa, ki jo je napravil na podlagi zgoraj navedenih podatkov in dokumentacije?

C4: Poznati določbe Uredbe (ES) št.561/ 2006 z dne 15. marca 2006 o usklajevanju socialne zakonodaje v zvezi s cestnim prometom in spremembe Uredb Sveta (EGS) 3821/85 in (ES) št.2135/98, sporazuma AETR in Zakona o delovnem času in obveznih počitkih mobilnih delavcev ter o zapisovalni opremi v cestnih prevozih ter praktične dogovore o izvajanju teh predpisov

1C4M2M3M4M5P

Naštejte vsaj dva cilja socialne zakonodaje, ki ureja čase vožnje, odmorov in počitkov voznikov v cestnem prometu!

2C4M2M3M4M5I

Pravni okvir urejanja časa vožnje odmorov in počitkov voznikov, zaposlenih pri domačem prevoznikov **ne predstavljajo** naslednji pravni akti:

- Uredbe (ES).
- Zakon o prevozih v cestnem prometu.
- Sporazum AETR.
- Zakon o delovnih časih in obveznih počitkih mobilnih delavcev.

4C4M4M5P

Za katera vozila za prevoz blaga v cestnem prometu velja socialna zakonodaja o urejanju časa vožnje, odmorih in počitkih? Katere predpise morate upoštevati, če opravljate prevoze na območju Slovenije?

5C4M2M3M4M5I

Opravljate prevoz v Republiki Sloveniji, za katero velja socialna zakonodaja o urejanju časa vožnje, domorih in počitkih. Pri organiziranju dela voznikov morate pri določanju časa vožnje, odmorov in počitkov upoštevati:

- Sporazum AETR.
- Zakon o prevozih v cestnem prometu.
- Zakon o pravilih cestnega prometa.
- Uredbo (ES) št. 561/2006.

8C4M4M5I

Opravljate prevoz z vozili ali kombinacijo vozil z največjo dovoljeno maso, ki ne presega 3,5 ton. Pri določanju časa vožnje, odmorov in počitkov upoštevate:

- Glede odmorov in počitkov se upošteva Zakon o delovnih razmerjih.
- Zakon o prevozih v cestnem prometu.
- Zakon o pravilih cestnega prometa.
- Uredbo (ES) št. 561/2006.

9C4M2M3M4M5I

Kdo je voznik na osnovi Uredbe (ES) št. 561/2006?

- Vsaka oseba, ki vozi vozilo, če tudi le za krajši čas. Ali je v vozilu na podlagi svojih delovnih obveznosti, da je po potrebi na voljo za vožnjo.
- Je fizična ali pravna oseba s sedežem v Republiki Sloveniji, ki ima licenco, licenco skupnosti oziroma dovoljenje Skupnosti za opravljanje prevozov.
- Vsaka oseba, ki ima veljavno izkaznico o vozniških kvalifikacijah.
- Vsaka oseba, ki se izkaže s potrdilom v skladu z Uredbo Sveta 3118/93/EGS, s katerim pristojni organ države članice, v kateri ima prevoznik sedež, potrjuje, da ta voznik dela pri prevozniku skladno z zakoni ali drugimi predpisi o pogojih zaposlitve in poklicnega usposabljanja voznikov.

10C4M2M3M4M5I

Kaj pomeni odmor na osnovi Uredbe (ES) št. 561/2006?

- Vsako obdobje, v katerem voznik ne sme voziti, lahko pa opravlja drugo delo.
- Vsako obdobje, v katerem voznik ne sme voziti, lahko pa spremlja vozilo, ki se prevaža s trajektom ali vlakom.
- Vsako obdobje, v katerem voznik ne sme voziti, lahko pa vozi v posadki v času, ko sedi ob vozniku ali leži v vozilu, medtem, ko se vozilo premika.
- Vsako obdobje, v katerem voznik ne sme voziti ali opravljati katerega koli drugega dela in ki je namenjen izključno za oddih.

11C4M2M3M4M5I

Kaj pomeni počitek na osnovi Uredbe (ES) št. 561/2006?

- Vsako neprekinjeno obdobje, v katerem lahko voznik svobodno razpolaga s svojim časom.
- Vsako neprekinjeno obdobje, v katerem voznik ne sme voziti, lahko pa vozi v posadki v času, ko sedi ob vozniku ali leži v vozilu, medtem, ko se vozilo premika.
- Vsako neprekinjeno obdobje, v katerem voznik ne sme voziti, lahko pa spremlja vozilo, ki se prevaža s trajektom ali vlakom.
- Vsako neprekinjeno obdobje, v katerem voznik lahko opravlja drugo delo razen vožnje.

12C4M2M3M4M5I

Redni dnevni čas počitka traja vsaj 11 ur. Kako se lahko razdeli v dve neprekinjeni obdobji po Uredbi (ES) št. 561/2006?

- Prvo neprekinjeno obdobje 2 ure, drugo neprekinjeno obdobje 9 ur.
- Prvo neprekinjeno obdobje 3 ure, drugo neprekinjeno obdobje 8 ur.
- Prvo neprekinjeno obdobje 3 ure, drugo neprekinjeno obdobje 9 ur.
- Prvo neprekinjeno obdobje 2 ure, drugo neprekinjeno obdobje 10 ur.

13C4M2M3M4M5I

Kaj pomeni po Uredbi (ES) št. 561/2006 skrajšani dnevni čas počitka?

- Vsako obdobje počitka, ki traja vsaj 8 ur, vendar manj kot 11 ur.
- Vsako obdobje počitka, ki traja vsaj 8 ur, vendar manj kot 12 ur.
- Vsako obdobje počitka, ki traja vsaj 9 ur, vendar manj kot 12 ur.
- Vsako obdobje počitka, ki traja vsaj 9 ur, vendar manj kot 11 ur.

14C4M2M3M4M5I

Koliko časa traja redni tedenski čas počitka in koliko je dovoljen skupni čas vožnje v katerih koli dveh zaporednih tednih po Uredbi (ES) št. 561/2006?

- Redni tedenski čas počitka traja 45 ur, dovoljen skupni čas vožnje v katerih koli dveh zaporednih tednih znaša 90 ur.
- Redni tedenski čas počitka traja 48 ur, dovoljen skupni čas vožnje v katerih koli dveh zaporednih tednih znaša 96 ur.
- Redni tedenski čas počitka traja 45 ur, dovoljen skupni čas vožnje v katerih koli dveh zaporednih tednih znaša 96 ur.
- Redni tedenski čas počitka traja 48 ur, dovoljen skupni čas vožnje v katerih koli dveh zaporednih tednih znaša 90 ur.

15C4M2M3M4M5I

Na najmanj koliko časa se lahko skrajša tedenski čas počitka po Uredbi (ES) št. 561/2006?

- Na najmanj 45 zaporednih ur.
- Na najmanj 36 zaporednih ur.
- Na najmanj 24 zaporednih ur.
- Na najmanj 18 zaporednih ur.

16C4M2M3M4M5I

Kaj pomeni dnevni čas vožnje?

- Skupni čas vožnje med koncem enega dnevnega časa počitka in začetkom naslednjega dnevnega časa počitka ali med dnevnim časom počitka in tedenskim časom počitka.
- Skupni čas vožnje znotraj koledarskega dneva med 00.00 in 24.00 uro.
- Skupni čas vožnje med koncem prejšnjega koledarskega dne in začetkom naslednjega dnevnega časa počitka.
- Skupni čas vožnje, ki se opravi podnevi med koncem nočnega dela in začetkom naslednjega nočnega dela, znotraj istega koledarskega dne.

17C4M2M3M4M5I

Kaj pomeni tedenski čas vožnje?

- Pomeni skupni čas vožnje v enem tednu (od ponedeljka od 00.00 ure do nedelje do 24.00 ure).
- Pomeni skupni čas vožnje v šestih 24-urnih obdobjih od konca predhodnega tedenskega časa počitka.
- Pomeni skupni čas vožnje med koncem prejšnjega tedenskega počitka in začetkom novega tedenskega počitka.
- Pomeni skupni čas vožnje v obdobju od nedelje od 24.00 ure do ponedeljka do 00.00 ure.

18C4M2M3M4M5I

Kateri pogoj mora biti izpolnjen pri vožnji z več vozniki?

- Pri vožnji z več vozniki je prisotnost drugega voznika neobvezna za prvo uro vožnje.
- Pri vožnji z več vozniki je prisotnost drugega voznika neobvezna za zadnjo uro vožnje.
- Pri vožnji z več vozniki je prisotnost drugega voznika neobvezna za polovico vožnje.
- Pri vožnji z več vozniki je prisotnost drugega voznika neobvezna za prvo in zadnjo uro vožnje.

19C4M2M3M4M5I

Odmor, ki ga mora imeti voznik po štirih urah in pol vožnje, se po Uredbi (ES) št. 561/2006 lahko nadomesti:

- 15 minut + 15 minut + 15 minut.
- 15 minut + 30 minut.
- 30 minut + 15 minut.
- 10 minut + 20 minut + 15 minut.

20C4M2M3M4M5I

Voznik je en teden vozil 48 ur. Koliko ur lahko vozi v naslednjem tednu po Uredbi (ES) št. 561/2006?

- 32 ur.
- 40 ur.
- 42 ur.
- 48 ur.

21C4M2M3M4M5I

Ali prevoznik lahko nagradi voznika v obliki bonusov ali dodatkov za prevoženo razdaljo ali količino prepeljanega tovora, če so s tem kršeni predpisi o trajanju vožnje in počitkov ali drugi predpisi o varnosti cestnega prometa?

- Da, če je to navedeno v pogodbi o zaposlitvi.
- Da, če je v skladu s kolektivno pogodbo.
- Ni predpisano.
- Ne.

23C4M2M3M4M5P

Kolikšen je lahko maksimalni tedenski čas vožnje in skupni čas vožnje v katerih koli dveh zaporednih tednih?

24C4M2M3M4M5P

Voznik je ob 6.00 prišel na delo. Do 8.00 je opravljal "drugo delo". Ob 8.00 je pričel z vožnjo vozila. Ob 12.10 ga na cesti ustavi policija. Ali je ugotovila, da je kršil socialno zakonodajo? Odgovor utemeljite!

25C4M2M3M4M5P

Kakšne vrste počitka določa "socialna zakonodaja" in kolikšni so lahko ti počitki?

26C4M2M3M4M5P

Koliko znaša redni dnevni čas počitka? Koliko znaša skrajšani dnevni čas počitka in kolikokrat med katerima koli dvema tedenskema počitkoma se lahko koristi?

27C4M2M3M4M5P

Voznik se je odločil, da bo redni dnevni čas počitka opravil v dveh delih. Prvo neprekinjeno obdobje je trajalo 3 ure. Koliko mora trajati drugo neprekinjeno obdobje? V katerem primeru se lahko voznik odloči, da bo dnevni čas počitka preživel v vozilu?

28C4M2M3M4M5P

Koliko skrajšanih dnevnih časov počitka med katerima koli dvema tedenskima časoma počitka ima lahko voznik? Ali je potrebno skrajšanje dnevnih počitkov nadomestiti z enako dolgim neprekinjenim obdobjem počitka pred koncem tretjega tedna?

29C4M2M3M4M5P

Voznik je končal z dnevnim časom počitka ob 6:00 uri. Kdaj mora najkasneje začeti z novim rednim dnevnim časom počitka in kdaj v primeru skrajšanega dnevnega časa počitka? Odgovor utemeljite na podlagi uporabljenega predpisa!

30C4M2M3M4M5P

Voznik je končal z dnevnim časom počitka ob 6:00 uri. Maksimalno koliko časa ima na razpolago za vožnjo, če se odloči, da bo naslednji čas dnevnega počitka koristil kot skrajšani čas počitka po Uredbi (ES) št. 561/2006? Odgovor utemeljite. Kdaj najkasneje mora nastopiti s skrajšanim dnevnim časom počitka?

32C4M2M3M4M5P

Kolikšen je "redni tedenski počitek" in kdaj mora voznik začeti s tedenskim počitkom?

33C4M2M3M4M5P

Kolikšen je "redni tedenski počitek" in kolikšen je "skrajšan tedenski počitek"?

34C4M2M3M4M5P

Navedite v kolikšnem času mora prevozno podjetje zagotoviti, da se vsi ustrezni podatki prenesejo iz enote v vozilu in voznikove kartice v evidence podjetja!

35C4M2M3M4M5P

Prevozno podjetje mora hraniti prenesene podatke iz zapisovalne opreme vozila in voznikove kartice. Koliko časa mora podjetje hraniti te podatke in komu morajo biti dostopni?

38C4M2M3M4M5I

Kdo mora zagotavljati pravilno delovanje in ustrezno uporabo tahografa in voznikove kartice?

- Voznik.
- Delodajalec
- Vodja voznega parka.
- Voznik in delodajalec.

39C4M2M3M4M5I

Kdo mora poskrbeti, da ima voznik zadostno število tahografskih vložkov?

- Voznik sam.
- Delodajalec.
- Vodja voznega parka.
- Delavnica za tahografe.

40C4M2M3M4M5I

Koliko časa največ sme veljati voznikova kartica?

- 1 leto.
- 3 leta.
- 5 let.
- 6 let.

41C4M2M3M4M5I

V kolikšnem času mora izdajatelj kartice nadomestiti ukradeno voznikovo kartico?

- V enem tednu po prejemu popolne vloge.
- V 30 delovnih dneh po prejemu popolne vloge.
- V enem mesecu po prejemu popolne vloge.
- V petih delovnih dneh po prejemu popolne vloge.

42C4M2M3M4M5I

Voznik želi podaljšati svojo vozniško kartico. Kdaj mora to storiti?

- Po datumu poteka veljavnosti.
- Takoj ob datumu poteka veljavnosti.
- 15 delovnih dni pred datumom poteka veljavnosti.
- 30 delovnih dni pred datumom poteka veljavnosti.

43C4M2M3M4M5I

V kakšnem času mora voznik zaprositi za izdajo nove kartice v primeru, da je poškodovana ali da mu je bila ukradena?

- Takoj.
- Naslednji koledarski dan.
- V petih koledarskih dneh.
- V sedmih koledarskih dneh.

44C4M2M3M4M5I

UTC čas, ki je enak

- zahodnoevropskemu času.
- srednjeevropskemu času.
- vzhodnoevropskemu času.
- moskovskemu času.

46C4M2M3M4M5I

V kakšnem času po ugotovitvi napake delovanja tahografa je potrebno izvesti popravilo v primeru, da je vozilo izven svoje baze?

- Popravilo je potrebno zagotoviti takoj.
- Popravilo je potrebno zagotoviti takoj naslednji dan.
- Popravilo je potrebno zagotoviti v petih koledarskih dnevih.
- Popravilo je potrebno zagotoviti takoj, ko je mogoče oziroma najkasneje v enem tednu po okvari ali napaki delovanja tahografa

47C4M2M3M4M5I

Voznik, ki uporablja digitalni tahograf, mora izpolniti hrbtno stran tiskanega izpisa:

(označite nepravilni odgovor)

- pri okvari tahografa.
- pri poškodbi voznikove kartice.
- če prekorači pravila o času vožnje zaradi nepredvidenih dogodkov.
- ko zaključi 24 - urno delovno obdobje.

48C4M2M3M4M5I

Če je kartica voznika poškodovana ali ne deluje pravilno, voznik lahko nadaljuje vožnjo brez vozniške kartice

- največ sedem koledarskih dni.
- največ sedem delovnih dni.
- največ 15 koledarskih dni.
- največ 15 delovnih dni.

49C4M2M3M4M5I

Periodična kontrola tahografa, se opravi

- skupaj s tehničnim pregledom.
- najmanj vsaki dve leti.
- najmanj vsako leto.
- najmanj enkrat na vsakih šest let.

50C4M2M3M4M5I

Vozilo se premika, kaj mora beležiti digitalni tahograf za voznika in kaj za sovoznika?

- Voznik - VOŽNJA, sovoznik - RAZPOLOŽLJIVOST.
- Voznik - VOŽNJA, sovoznik - VOŽNJA.
- Voznik - VOŽNJA, sovoznik - DELO.
- Voznik - VOŽNJA, sovoznik - ODMOR/POČITEK.

51C4M2M3M4M5P

Navedite kaj mora vsak član posadke v vozilu vpisati na svoj tahografski vložek!

52C4M2M3M4M5P

Navedite v kakšnih primerih lahko voznik nadaljuje vožnjo brez voznikove kartice največ 15 koledarskih dni in kaj mora pri tem dokazovati?

53C4M2M3M4M5P

Tahograf mora biti opremljen z ustreznimi plombami. Kdo jih lahko odstrani ali poškoduje? Naštej vsaj dva razloga zaradi katerih pristojni organ poškoduje ali odstrani plombo na zapisovalni opremi? Katere so obveznosti prevoznega podjetja glede ponovnega plombiranja zapisovalne opreme?

54C4M2M3M4M5P

Kdaj morate opraviti redni pregled digitalnega tahografa in kdaj je še potrebna kontrola tahografa?

55C4M2M3M4M5P

Kaj pomenijo posamezni simboli na zapisnem listu oz. tahografu?



56C4M2M3M4M5P

Voznik, ki opravlja prevoze na relaciji Ljubljana – Sarajevo je po celotredenskem delu zaključil z delom v soboto ob 18.00 uri. Nastopil je tedenski počitek v kraju prebivališča (Ljubljana). Prometnik želi istega voznika zaradi nujnosti odrediti na delo oz. vožnjo v ponedeljek ob 02.00 uri. Ali ravna pravilno? Odgovor utemeljite!

57C4M2M3M4M5P

V prvem tednu je voznik opravil 45 ur vožnje. Navedite koliko ur bi še lahko opravil, da bi s tem dosegel maksimalno dovoljeno število ur vožnje v enem tednu (navedite izračun in število ur)! Koliko ur bo lahko voznik opravil v drugem tednu, da ne bo kršil predpisov glede omejitve števila ur vožnje v dveh tednih (navedite izračun in število ur)?

58C4M2M3M4M5I

Kaj pomeni "ponoči" v skladu z Zakonom o delovnem času in obveznih počitkih mobilnih delavcev ter o zapisovalni opremi v cestnih prevozih?

- Čas med 23.00 uro in 6.00 uro.
- Čas med 22.00 uro in 6.00 uro.
- Čas med 23.00 uro in 5.00 uro.
- Čas med 22.00 uro in 5.00 uro.

59C4M2M3M4M5I

Koliko znaša najdaljši tedenski delovni čas za mobilnega delavca po Zakonu o delovnem času in obveznih počitkih mobilnih delavcev ter o zapisovalni opremi v cestnih prevozih?

- 60 ur
- 42 ur
- 48 ur
- 54 ur

60C4M2M3M4M5I

Kdaj mora imeti najkasneje odmor mobilni delavec, ki opravlja delo v skladu z Zakonom o delovnem času in obveznih počitkih mobilnih delavcev ter o zapisovalni opremi v cestnih prevozih?

- Po šestih urah neprekinjenega dela.
- Po štirih urah neprekinjenega dela.
- Po štirih urah in pol neprekinjenega dela.
- Po šestih urah in pol neprekinjenega dela.

61C4M2M3M4M5I

Skupno število delovnih ur mobilnega delavca znaša več kot devet ur. Najmanj koliko odmora mora imeti v skladu z Zakonom o delovnem času in obveznih počitkih mobilnih delavcev ter o zapisovalni opremi v cestnih prevozih?

- 45 minut
- 15 minut
- 30 minut
- 60 minut

62C4M2M3M4M5I

Delovni čas mobilnega delavca po Zakonu o delovnem času in obveznih počitkih mobilnih delavcev ter o zapisovalni opremi v cestnih prevozih ne sme presegati 10 ur v vsakem 24-urnem obdobju,

- če mobilni delavec opravlja nočno delo štiri ure ali več.
- če mobilni delavec opravlja nočno delo pet ur ali več.
- če mobilni delavec opravlja nočno delo v nočnem času.
- če mobilni delavec opravlja nočno delo od 3:00 do 6:00 ure.

63C4M2M3M4M5P

Kje in koliko časa se hrani evidenca o delovnem času mobilnih delavcev?

64C4M2M3M4M5P

Voznik je v tednu dni opravljal dela, kot prikazuje spodnja tabela. Vsak dan je začel z delom ob 22.00 uri. Ali je ravnal v skladu z določili glede omejitve maksimalnega dnevnega delovnega časa? Ugotovljeno utemeljite!

	PO	TO	SR	ČE	PE	SO	NE
Vozil	10	6	5	5	8	0	0
Drugo	1	2	1	3	2	0	0

65C4M2M3M4M5P

Katere dejavnosti obsega »delovni čas« mobilnega delavca po Zakonu o delovnem času in obveznih počitkih mobilnih delavcev ter o zapisovalni opremi v cestnih prevozi in pri katerem pogoju je lahko 60 ur na teden?

66C4M2M3M4M5P

Kdo nadzira spoštovanje predpisov o delovnem času mobilnih delavcev in zapisovalni opremi na cesti in v prostorih prevoznika?

67C4M2M3M4M5P

Kaj sme narediti policist, če pri nadzoru ugotovi, da je voznik prekoračil dovoljeni čas vožnje?

68C4M2M3M4M5I

Opravlja notranje komercialne prevoze blaga z vozili ali kombinacijo vozil z največjo dovoljeno maso, ki ne presega 3,5 ton. Pri določanju odmorov in počitkov upoštevate:

- Zakon o delovnih razmerjih
- Zakon o prevozi v cestnem prometu.
- Zakon o pravilih cestnega prometa
- Uredbo (ES) št. 561/2006

70C4M2M3M4M5I

Vsak počitek, ki je nadomestilo za skrajšani tedenski čas počitka, se prišteje k drugemu času počitka, ki traja vsaj

- 9 ur
- 11 ur
- 24 ur
- 10 ur

71C4M2M3M4M5I

Voznik lahko redni tedenski čas počitka in tedenski čas počitka, ki traja več kot 45 ur in je nadomestilo za predhodne skrajšane tedenske čase počitka preživi

- v vozilu na parkirišču, ki ima urejene sanitarne prostore.
- v vozilu na parkirišču, ki ima ustrezne sanitarne in gostinske prostore.
- v vozilu na varovanem parkirišču.
- v ustrezni in spolu primerni nastanitvi z ustreznimi spalnimi in sanitarnimi prostori.

74C4M2M3M4M5P

Ali lahko tedenski čas počitka, ki se začne v enem tednu in se nadaljuje v naslednjem tednu prišteje h kateremu koli od teh dveh tednov?

75C4M2M3M4M5P

Za spodnje relacije prevozov napišite katera pravila boste uporabili glede socialne zakonodaje v zvezi s cestnim prometom (Uredba (ES) št. 561/2006 ali Evropski sporazum o delu posadk na vozilih, ki opravljajo mednarodne cestne prevoze - AETR):

BiH – Slovenija: _____

Slovenija – Nemčija: _____

Švica – Hrvaška: _____

Švica – Srbija: _____

77C4M4M5P

Glede socialne zakonodaje v zvezi s cestnim prometom uporabljamo Uredbo (ES) št. 561/2006 ali Evropski sporazum o delu posadk na vozilih, ki opravljajo mednarodne cestne prevoze – AETR. Napišite vsaj dve razliki med pravili AETR Uredbo (ES) št. 561/2006!

82C4M2M3M4M5P

Voznik mora uporabljati preklopne mehanizme na tahografu, ki omogočajo ločene zapise glede njegovih aktivnosti. Katere voznikove aktivnosti se zabeležijo pod oznako postelje?

84C4M2M3M4M5I

Katere aktivnosti se všttevajo v delovni čas voznika?

- Vožnja + drugo delo
- Vožnja + drugo delo + čas razpoložljivosti
- Drugo delo + čas razpoložljivosti + odmor med vožnjo
- Vožnja + drugo delo + odmori

86C4M2M3M4M5P

Kdaj mora voznik vnesti oznako države v tahograf?

87C4M2M3M4M5P

Medtem ko je tahograf neuporaben ali deluje nepravilno, mora voznik ročno beležiti informacije za različna obdobja, ki jih tahograf ni več pravilno zapisal ali izpisal. Katere podatke ne sme pozabiti vpisati na izpis iz digitalnega tahografa?

88C4M2M3M4M5P

V katerih primerih je voznik dolžan narediti izpis podatkov iz tahografa in katere podatke mora ročno vpisati na izpis?

Predmet D: Davčna zakonodaja

D1: DDV na prevozne storitve

1D1M2M3M4M5I

Kdo se mora identificirati za namene DDV?

- Vsaka oseba, ki kjerkoli neodvisno opravlja katerokoli dejavnost.
- Vsaka pravna oseba, ki je vpisana v sodni register.
- Vsaka pravna oseba, ki v 12-ih mesecih preseže 50.000 € obdavčljivega prometa.
- Vsaka pravna oseba ali fizična oseba, ki v 12-ih mesecih preseže ali je verjetno, da bo preseгла 50.000 € obdavčljivega prometa.

2D1M2M3M4M5I

Kdaj nastane obveznost obračuna DDV pri prevoznih storitvah opravljenih na ozemlju Slovenije?

- Obveznost obračuna DDV nastane zadnji dan meseca, ki sledi mesecu, ko je obdavčljiv dogodek nastal.
- Obveznost obračuna DDV nastane, ko je storitev opravljena.
- Obveznost obračuna DDV nastane 20. v mesecu za pretekli mesec.
- Obveznost obračuna DDV nastane, ko se izda račun.

3D1M2M3M4M5I

Kaj je davčna osnova za obračun DDV pri prevoznih storitvah?

- Davčna osnova je znesek za plačilo z vključenim DDV.
- Davčna osnova je lastna cena storitve.
- Davčna osnova je znesek brez DDV zmanjšan za odobren in obračunan popust v trenutku opravljene storitve.
- Davčna osnova je znesek za plačilo brez subvencij.

4D1M2M3M4M5I

Kdaj lahko davčni zavezanec odbije vstopni DDV?

- Davčni zavezanec lahko odbije vstopni DDV, ko je nastala obveznost za obračun DDV in je prejel račun.
- Davčni zavezanec sme odšteti DDV v mesecu, ki sledi mesecu v katerem je prejel račun.
- Davčni zavezanec sme odšteti DDV takoj ko prejme blago ali mu je bila storitev opravljena.
- Davčni zavezanec ne sme odšteti vstopnega DDV.

5D1M2M3M4M5I

Kateri so neobvezni podatki na računu, ki ga izda prevoznik z ID- številko v Sloveniji za opravljen prevoz v Sloveniji naročniku iz Slovenije?

- ID - prevoznika.
- ID - naročnika.
- Datum, ko je bil prevoz opravljen.
- Davčna stopnja.

6D1M2M3M4M5I

Kdaj mora davčni zavezanec predložiti obračun DDV davčnemu organu, če storitev opravlja le v Sloveniji?

- Do zadnjega dne davčnega obdobja.
- Do konca koledarskega leta.
- V roku treh mesecev po poteku davčnega obdobja.
- Do zadnjega delovnega dne naslednjega meseca po poteku davčnega obdobja.

8D1M4M5I

Slovenski prevoznik je davčni zavezanec za DDV in opravlja cestni prevoz blaga na območju Slovenije. Ali se DDV na opravljeno storitev obračuna in če se, po kakšni stopnji?

- DDV se obračuna po 22%, če je naročnik davčni zavezanec.
- DDV se obračuna po 9,5%, če je naročnik davčni zavezanec.
- Prevozne storitve so po ZDDV-1 oproščene plačila DDV
- DDV se obračuna po 22%.

19D1M4S

V prazne kvadratke vnesite manjkajoče podatke. Slovenski ID zavezanec opravi storitev prevoza blaga slovenskemu ID zavezancu. Prevozna pot Vrhnika – Maribor. Kvadratke lahko pustite tudi prazne, če menite, da je tako pravilno.

opis storitve	davčna osnova	DDV stopnja	znesek DDV	Vrednost z DDV
	800			
klavzula oprostitve				

20D1M4M5S

ID zavezanec, je v davčnem obdobju opravil za 56.000 € (vključen DDV) storitev prevoza blaga na domačem trgu. Obenem je nabavil material v višini 14.400 € z vključenim 22% DDV ter prejel račune za opravljene storitve v višini 4.800 € z vključenim 9,5% DDV. Izračunajte obveznost za plačilo/vračilo DDV!

21D1M2M3M4M5I

DDV zavezanec nabavi osebno motorno vozilo na bencinski pogon za opravljanje službenih poti in tovorno motorno vozilo za opravljanje dejavnosti prevoza. Ali si pri nakupu vozil lahko odbija vstopni DDV?

- Vstopni DDV se lahko odbije samo za tovorno motorno vozilo.
- Zavezanec lahko odbija vstopni DDV za obe vozili.
- Vstopni DDV se lahko odbija samo za osebno vozilo.
- Zavezanec za nobeno vozilo ne sme odbijati vstopnega DDV

22D1M2M3M4M5I

Podjetje, ki je zavezanec za DDV, nabavi osebno vozilo in gospodarsko vozilo za opravljanje svoje dejavnosti. Ali si lahko plačani DDV prizna kot vstopni davek?

- Vstopni DDV si prizna tako za osebno vozilo kot za kamion.
- Vstopni DDV si prizna samo za osebno vozilo.
- Vstopni DDV si ne prizna.
- Vstopni DDV si prizna samo za gospodarsko vozilo.

24D1M2M3M4M5P

Kdaj se podjetnik lahko prostovoljno vključi v sistem DDV in kako se vključi?

25D1M2M3M4M5I

Katerega izmed navedenih podatkov **ne sme** vsebovati račun, ki ga izda »mali davčni zavezanec«:

- datum izdaje računa.
- zaporedno številko računa.
- znesek DDV.
- znesek za plačilo brez DDV.

26D1M2M3M4M5P

Kolikšno je davčno obdobje in katere podatke vsebuje obračun DDV za davčno obdobje (obrazec DDV-O)?

27D1M2M3M4M5I

Davčni zavezanec za DDV, ki ima v obračunskem obdobju vstopni DDV večji od izstopnega:

(označite nepravilni odgovor)

- ima pravico zahtevati vračilo razlike.
- ima pravico, da se mu DDV vrne v 21 dneh.
- lahko poračuna razliko pri obračunu v naslednjem davčnem obdobju.
- lahko razliko med vstopnim in izstopnim DDV poračuna pri izdelavi obračuna DDV za koledarsko leto.

28D1M2M3M4M5P

Praviloma se DDV obračuna glede na izdane oz. prejete račune (obračunana realizacija). V katerih primerih in kaj je pogoj, da davčni zavezanec obračuna DDV po plačani realizaciji?

35D1M2M3M4M5I

Obdavčitev dobave blaga in opravljanja storitev ureja:

- Zakon o davku na dodano vrednost
- Zakon o dohodnini
- Zakon o davku od dohodkov pravnih oseb
- Zakon o davku na motorna vozila

36D1M2M3M4M5I

Z davkom na dodano vrednost je obdavčena vsaka dobava blaga in storitev, ki jo davčni zavezanec opravi za plačilo (označi nepravilen odgovor)

- opravljanje prevoza potnikov v drugi državi članici EU
- v okviru svoje ekonomske (gospodarske) dejavnosti na ozemlju Slovenije
- pridobitev blaga iz druge države članice EU
- uvoz blaga v Slovenijo

37D1M2M3M4M5P

Opišite razliko med davčnim zavezancem in plačnikom davka na dodano vrednost!

38D1M2M3M4M5I

Mali davčni zavezanci:

- Ne obračunavajo DDV in nimajo pravice do odbitka vstopnega DDV
- Ne obračunavajo DDV, pravica do odbitka vstopnega DDV jim je priznana v odbitnem deležu
- Ne obračunavajo DDV, pravica do odbitka vstopnega DDV jim je priznana v celoti
- Obračunavajo DDV in imajo pravico do odbitka vstopnega DDV

39D1M2M3M4M5I

Davčni zavezanec se mora identificirati za namene DDV, če bo presegel 50.000 eur obdavčljivega prometa:

- V zadnjih 12 mesecih
- V koledarskem letu
- V preteklem letu
- V prihodnjem letu

40D1M2M3M4M5I

Davčni zavezanec je v preteklih devetih mesecih dosegel 48.000 eur prihodkov. Za opravljeno storitev prevoza mora izdati račun v višini 2.200 eur. Kdaj mora pridobiti ID številko za DDV?

- Preden izda račun za opravljen prevoz
- Preden opravi naslednjo storitev prevoza
- Čez 3 mesece, ko poteče 12-mesečno obdobje
- V naslednjem koledarskem letu

58D1M2M3M4M5P

Prodajate rabljeno prevozno sredstvo slovenskemu ID zavezancu. Ob nakupu vozila si DDV-ja niste odbijali, saj ste ga kupili od preprodajalca (DDV je bil obračunan od razlike v ceni). Ali je potrebno ob prodaji obračunati DDV? Če da, po kateri stopnji?

59D1M2M3M4M5P

Prodajate osebni avtomobil slovenskemu ID zavezancu. Ob nakupu vozila si DDV-ja niste odbijali zaradi prepovedi odbitka v 66. členu ZDDV-1. Ali je potrebno ob prodaji obračunati DDV? Utemeljite odgovor!

60D1M4M5I

Kupili ste tovorno motorno vozilo. DDV je bil obračunan po stopnji 22%. Vozilo boste uporabljali za opravljanje dejavnosti prevoza blaga. Si lahko odbijate vstopni DDV?

- Da, vstopni DDV si lahko odbijamo
- Ne, odbitek vstopnega DDV ni mogoč zaradi prepovedi v 66. členu ZDDV-1
- Da, vendar je odbitek vstopnega DDV priznan le v višini 50%
- Ne, ker tovorno vozilo ni EURO VI

61D1M2M3M4M5P

Obrazložite pojem samoobdavčitev z DDV! Naštete najmanj dva primera uporabe?

64D1M2M3M4M5I

Račun plačan z gotovino je potrebno izročiti kupcu

- Obvezno v elektronski ali papirni obliki
- Le na izrecno željo kupca
- Le, če se prodaja izvrši na sedežu podjetja
- Obvezno v papirni obliki

D2: Davek na motorna vozila

1D2M2M3M4M5P

Kaj je davek na motorna vozila in kdaj ga je prevoznik dolžan plačati?

2D2M2M3M4M5I

Prevoznik je kupil novo kombi vozilo za prevoz ljudi in blaga pri preprodajalcu vozil, slovenski pravni osebi. Kdo je zavezanec za plačilo davka na motorna vozila?

- prodajalec
- nihče, ker se DMV od novih vozil ne plača
- nihče, ker se DMV plača le od vozil za prevoz blaga
- nihče, ker se DMV od novih vozil ne plača

3D2M2M3M4M5I

Prevoznik je kupil rabljeno kombinirano vozilo od fizične osebe v Sloveniji (že registrirano v Sloveniji). Davek na motorna vozila se

- plača, če je vozilo namenjeno le za prevoz ljudi.
- ne plača.
- plača v vsakem primeru.
- plača, če je vozilo namenjeno le za prevoz blaga

4D2M2M3M4M5I

Prevoznik je nabavil motorno vozilo v Nemčiji. Davek na motorna vozila se

- plača v vsakem primeru.
- plača le, če gre za tovorno vozilo namenjeno prevozu tovora.
- ne plača.
- plača, če je vozilo iz tarifne oznake 8703, ki se prvič registrira na ozemlju Slovenije

6D2M2M3M4M5P

Kako se določi davčna osnova za davek na motorna vozila za osebna vozila?

7D2M2M3M4M5I

Ali na določitev davčne osnove za davek na motorna vozila vpliva nabavna vrednost vozila?

- Ne, nabavna vrednost ne vpliva na določitev davčne osnove
- Da, nabavna vrednost vpliva na določitev davčne osnove
- Da, nabavna vrednost vpliva na določitev davčne osnove, če vrednost vozila presega 80.000 eur
- Da, nabavna vrednost vpliva na določitev davčne osnove, če vrednost vozila presega 40.000 eur

8D2M2M3M4M5I

Kdo odmeri davek na motorna vozila pri uvozu vozila iz tretje države?

- Carinski organ
- Davčni organ
- Prodajalec
- Preprodajalec vozila

D3: Davek na določena vozila za cestni prevoz potnikov/blaga, cestnine in pristojbine za uporabo infrastrukture**1D3M2M3M4M5I**

Višina cestnine na prevoženi kilometer je odvisna

- od višine in nosilnosti vozila.
- od uvrstitve vozila v cestninski razred glede na število osi in največjo dovoljeno maso in EURO emisijski razred vozila.
- od uvrstitve vozila od enega od dveh razredov v odvisnosti od števila osi in višine vozila.
- cestnina je enaka za vsa vozila.

3D3M4M5P

Kaj je letna dajatev za uporabo vozil v cestnem prometu in od česa je odvisna višina dajatve za tovorna vozila, razen vlačilcev?

4D3M2M3M4M5P

Kaj je trošarina? Katero blago je obdavčeno po Zakonu o trošarinah?

5D3M2M3M4M5P

Kdaj ima prevoznik pravico do vračila dela plačane trošarine za plinsko olje? Kdaj se šteje, da je plinsko olje porabljeno kot pogonsko gorivo za komercialni prevoz?

6D3M2M3M4M5I

Trimesečni zahtevek za vračilo trošarine se vloži:

- V 60 dneh po preteku koledarskega trimesečja
- V 30 dneh po preteku koledarskega trimesečja
- V 90 dneh po preteku koledarskega trimesečja
- V 15 dneh po preteku koledarskega trimesečja

D4: Davek na dohodek**1D4M2M3M4M5I**

Kaj je dohodnina?

- Davek od dohodkov fizičnih oseb.
- Davek od prometa proizvodov in storitev.
- Davek na dediščine in darila.
- Davek od dohodkov pravnih oseb.

2D4M2M3M4M5I

Kateri od dohodkov ni obdavčen po Zakonu o dohodnini?

- Dohodek iz zaposlitve.
- Dohodek iz dejavnosti.
- Dohodek od prodaje blaga in storitev.
- Dohodek od oddaje premoženja v najem.

3D4M2M3M4M5I

Samostojni podjetniki, ki ugotavljajo davčno osnovo po dejanskih prihodkih in odhodkih, plačajo davek od dohodka iz dejavnosti od ugotovljene davčne osnove po:

- enotni stopnji 19 %.
- enotni stopnji 20 %.
- o stopnjah iz dohodninske lestvice glede na davčno osnovo.
- po različnih stopnjah glede na prihodke.

4D4M2M3M4M5I

Zavezanec ugotavlja davčno osnovo po dejanskih prihodkih in odhodkih. Kaj predstavlja davčno osnovo za obračun davka iz dejavnosti?

- Vsota vseh prihodkov ustvarjenih v dejavnosti v davčnem obdobju.
- Zaračunane storitve in prodaja izdelkov.
- Dobiček, ki se ugotovi kot razlika med prihodki in odhodki v skladu z določbami Zakona o dohodnini.
- Letna napoved prihodkov in odhodkov od dejavnosti.

5D4M2M3M4M5S

Prevoznik posluje kot samostojni podjetnik. Davčno osnovo ugotavlja po dejanskih prihodkih in odhodkih. V koledarskem letu je ustvaril 52.000 € čistih prihodkov od prodaje prevoznih storitev. Stroški poslovanja so znašali 35.000 €. Kolikšna bo akontacija dohodnine za tekoče leto, če se pri izračunu upošteva le splošna olajšava v višini 5.000 eur? Ali bo akontacijo plačeval v mesečnih ali trimesečnih obrokih? Pri izračunu uporabite naslednjo davčno lestvico:

Če znaša neto letna davčna osnova v evrih		Znaša dohodnina v evrih	
Nad	Do		
	8755,00		16%
8755,00	25750,00	1400,80	+26% nad 8755,00
25750,00	51500,00	5819,50	+33% nad 25750,00
51500,00	74160,00	14317,00	+39% nad 51500,00
74160,00		23154,40	+50% nad 74160,00

6D4M2M3M4M5P

Poslovni izid PREVOZNIKA d.o.o. izkazuje 10.000 € celotnega dobička. Poslovni odhodki so v celoti davčno priznani. Prevoznik ne uveljavlja davčnih olajšav. Kolikšna je davčna obveznost za davek od dohodka, če je davčna stopnja 19%? Kolikšen je čisti dobiček?

7D4M2M3M4M5P

Kaj je davek od dohodka iz dejavnosti in kaj je davek od dohodka pravnih oseb? Katera zakonodaja določa obdavčitev samostojnega podjetnika in pravne osebe?

8D4M2M3M4M5P

Kaj je davčna osnova od dohodka iz dejavnosti, če zavezanec ugotavlja davčno osnovo po dejanskih prihodkih in odhodkih? Ali zakonodaja omogoča znižanje davčne osnove zavezanca? Če da, primeroma navedite najmanj dva primera kako!

9D4M2M3M4M5I

Prihodki od opravljenih prevoznih storitev v koledarskem letu so

- zaračunane prevozne storitve v koledarskem letu z DDV.
- zaračunane prevozne storitve v koledarskem letu brez DDV.
- zaračunane in plačane prevozne storitve v koledarskem letu brez DDV.
- plačane prevozne storitve v koledarskem letu brez DDV.

10D4M2M3M4M5I

Akontacija dohodnine za davek od dohodka iz dejavnosti oziroma akontacija davka od dohodka pravnih oseb se plačuje:

(označite nepravilni odgovor)

- mesečno ali trimesečno.
- mesečno, če je letna akontacija večja od 400 €.
- trimesečno, če je letna akontacija manjša od 400 €.
- davek se plača po davčnem obračunu.

11D4M2M3M4M5I

Rok za plačilo predhodne akontacije davka od dohodkov pravnih oseb in dohodnine iz naslova opravljanja dejavnosti, če zavezanec plačuje akontacijo mesečno, je:

- Do 20. v mesecu za pretekli mesec
- Do 10. v mesecu za pretekli mesec
- Do zadnjega dne v mesecu
- Do zadnjega dne v mesecu za pretekli mesec

12D4M2M3M4M5P

Naštej najmanj štiri kategorije dohodkov, ki se ne všttevajo v davčno osnovo dohodka iz delovnega razmerja!

13D4M2M3M4M5P

Davčni zavezanec, ki ugotavlja davčno osnovo po dejanskih prihodkih in odhodkih, lahko znižuje davčno osnovo z davčnimi olajšavami. Do katere višine se lahko davčna osnova zniža. Naštej najmanj štiri vrste davčnih olajšav, ki znižujejo davčno osnovo zavezanca!

14D4M2M3M4M5I

Prevozno podjetje (d.o.o.), ki ugotavlja davčno osnovo po dejanskih prihodkih in normiranih odhodkih
(označi nepravilen odgovor)

- Davek plačuje po stopnji 30%
- Ne sme zniževati davčne osnove z davčnimi olajšavami
- Priznani so mu normirani odhodki po lestvici
- Davek plačuje po stopnji 22%

15D4M2M3M4M5I

Prevoznik samostojni podjetnik, ki ugotavlja davčno osnovo po dejanskih prihodkih in normiranih odhodkih
(označi nepravilen odgovor)

- Davek plačuje po stopnji 19%
- Ne sme zniževati davčne osnove z davčnimi olajšavami
- Priznani so mu normirani odhodki po lestvici
- Davek plačuje po stopnji 20%

16D4M2M3M4M5P

Kaj so davčno nepriznani odhodki? Naštejte najmanj 2 primera!

17D4M2M3M4M5S

Pripravite obračun plače za zaposlenega, če razpolagate z naslednjimi podatki:

bruto plača zaposlenega 2.000 eur, prispevki iz plače 22,1%, prispevki na plačo 16,1%. Zavezanec razen splošne olajšave v višini 416,67 eur, ne uveljavlja drugih olajšav.

Dohodninska lestvica:

Če znaša neto mesečna		Znaša dohodnina v eurih	
davčna osnova v eurih			
Nad	Do		
	729,58		16 %
729,58	2.145,83	116,73	+ 26 % nad 729,58
2.145,83	4.291,67	484,96	+ 33 % nad 2.145,83
4.291,67	6.180,00	1.193,08	+ 39 % nad 4.291,67
6.180,00		1.929,53	+ 50 % nad 6.180,00

Koliko znaša strošek izplačevalca?

18D4M2M3M4M5P

Opišite razliko med normiranim s.p. in normiranim d.o.o.-jem glede vodenja poslovnih knjig in oddaje letnih poročil na Ajpes!

	normirani s.p.	normirani d.o.o.
vodenje poslovnih knjig		
oddaja letnega poročila		

19D4M2M3M4M5I

Samostojni podjetnik, ki ugotavlja davčno osnovo po dejanskih prihodkih in normiranih odhodkih, v davčnem obračunu uveljavlja normirane odhodke v višini 80% do zneska 50.000 eur prihodkov, med 50.000 in 100.000 eur prihodkov pa normirane odhodke v višini 40%, če je bila v davčnem letu, za katero se ugotavlja davčna osnova, pri zavezancu obvezno zavarovana vsaj:

- Ena oseba za polni delovni čas neprekinjeno najmanj 9 mesecev.
- Ena oseba za polovični delovni čas neprekinjeno najmanj 9 mesecev.
- Ena oseba za polovični delovni čas neprekinjeno najmanj 5 mesecev.
- Ena oseba za polni delovni čas neprekinjeno najmanj 5 mesecev.

20D4M2M3M4M5I

Popoldanski s.p. lahko vstopi v sistem normiranosti, če prihodki iz dejavnosti v preteklem letu niso presegli:

- Zneska 50.000 eur
- Zneska 100.000 eur
- Zneska 80.000 eur
- Zneska 25.000 eur

21D4M2M3M4M5I

Zavezanec, ki je vključen v obvezno pokojninsko in invalidsko zavarovanje za polni zavarovalni čas (40 ur/teden), lahko vstopi v sistem normiranosti, če prihodki iz dejavnosti v preteklem letu niso presegli:

- Zneska 100.000 eur
- Zneska 80.000 eur
- Zneska 50.000 eur
- Zneska 25.000 eur

22D4M2M3M4M5I

Zavezanec lahko ugotavlja davčno osnovo po normiranih odhodkih dokler **(označi nepravilen odgovor)**

- V dveh zaporednih predhodnih letih ne bo presegel 400.000 eur prihodkov
- V dveh zaporednih predhodnih letih ne bo presegel povprečja 150.000 eur prihodkov
- V dveh zaporednih predhodnih letih ne bo presegel 300.000 eur prihodkov
- V davčnem obračunu ne bo priglasil spremembe ugotavljanja davčne osnove

23D4M2M3M4M5S

Izračunajte znesek davka od dohodka iz dejavnosti po dejanskih odhodkih in normiranih odhodkih, če razpolagate z naslednjimi podatki:

- zavezanec je vključen v zavarovanje za polni zavarovalni čas
- višina prihodkov 60.000 eur
- dejanski odhodki 45.000 eur, od tega stroški reprezentance 1.000 eur
- olajšava za investiranje 2.000 eur
- ostalih olajšav zavezanec ne uveljavlja
- davčna stopnja pri normiranih odhodkih znaša 20%

Dohodninska lestvica:

Če znaša neto letna davčna osnova v evrih		Znaša dohodnina v evrih	
Nad	Do		
	8755,00		16%
8755,00	25750,00	1400,80	+26% nad 8755,00
25750,00	51500,00	5819,50	+33% nad 25750,00
51500,00	74160,00	14317,00	+39% nad 51500,00
74160,00		23154,40	+50 nad 74160,00

Višina normiranih odhodkov:

Če znašajo prihodki iz dejavnosti, ugotovljeni po pravilih o računovodenju, za leto, za katero se ugotavlja davčna osnova v evrih		% prihodkov	
nad	do		
	50000,00	80%	
50000,00	100000,00	40%	nad 50000,00
100000,00		0%	nad 100000,00

Vrednosti izračunov vpišite v spodnjo tabelo.

zap. št.	opis	izračun	dejanski s.p.	normirani s.p.
1.	prihodki			
2.	odhodki			
3.	davčna dobiček I	1-2		
4.	reprezentanca	50%		
5.	davčna dobiček II	3+4		
6.	olajšava za investiranje			
7.	osnova za davek	5-6		
8.	davek			

24D4M2M3M4M5S

Izračunajte znesek davka od dohodka iz dejavnosti po dejanskih odhodkih in normiranih odhodkih, če razpolagate z naslednjimi podatki:

- zavezanec ne izpolnjuje pogojev glede vključenosti v zavarovanje
- višina prihodkov 60.000 eur
- dejanski odhodki 45.000 eur, od tega stroški reprezentance 1.000 eur
- olajšava za investiranje 2.000 eur
- ostalih olajšav zavezanec ne uveljavlja
- davčna stopnja pri normiranih odhodkih znaša 20%

Dohodninska lestvica:

Če znaša neto letna davčna osnova v evrih		Znaša dohodnina v evrih	
Nad	Do		
	8755,00		16%
8755,00	25750,00	1400,80	+26% nad 8755,00
25750,00	51500,00	5819,50	+33% nad 25750,00
51500,00	74160,00	14317,00	+39% nad 51500,00
74160,00		23154,40	+50 nad 74160,00

Višina normiranih odhodkov:

Če znašajo prihodki iz dejavnosti, ugotovljeni po pravilih o računovodenju, za leto, za katero se ugotavlja davčna osnova v evrih		% prihodkov	
nad	do		
	12500,00	80%	
12500,00	50000,00	40%	nad 12500,00
50000,00		0%	nad 50000,00

Vrednosti izračunov vpišite v spodnjo tabelo.

zap. št.	opis	izračun	dejanski s.p.	normirani s.p.
1.	prihodki			
2.	odhodki			
3.	davčna dobiček I	1-2		
4.	reprezentanca	50%		
5.	davčna dobiček II	3+4		
6.	olajšava za investiranje			
7.	osnova za davek	5-6		
8.	davek			

25D4M2M3M4M5S

Izračunajte znesek davka od dohodkov pravnih oseb po dejanskih odhodkih in normiranih odhodkih, če razpolagate z naslednjimi podatki:

- zavezanec izpolnjuje pogoje glede vključenosti v zavarovanje
- višina prihodkov 60.000 eur
- dejanski odhodki 45.000 eur, od tega stroški reprezentance 1.000 eur
- olajšava za investiranje 2.000 eur
- ostalih olajšav zavezanec ne uveljavlja
- normirani odhodki so priznani v višini 80% prihodkov, in ne več kot 40.000 eur oziroma 80.000 eur, če zavezanec izpolnjuje pogoje
- davčna stopnja znaša 19%

Vrednosti izračunov vpišite v spodnjo tabelo.

zap. št.	opis	izračun	dejanski d.o.o.	normirani d.o.o.
1.	prihodki			
2.	odhodki			
3.	davčna dobiček I	1-2		
4.	reprezentanca	50%		
5.	davčna dobiček II	3+4		
6.	olajšava za investiranje			
7.	osnova za davek	5-6		
8.	davek			

26D4M2M3M4M5S

Izračunajte znesek davka od dohodkov pravnih oseb po dejanskih odhodkih in normiranih odhodkih, če razpolagate z naslednjimi podatki:

- zavezanec ne izpolnjuje pogoje glede vključenosti v zavarovanje
- višina prihodkov 60.000 eur
- dejanski odhodki 45.000 eur, od tega stroški reprezentance 1.000 eur
- olajšava za investiranje 2.000 eur
- ostalih olajšav zavezanec ne uveljavlja
- normirani odhodki so priznani v višini 80% prihodkov, in ne več kot 40.000 eur oziroma 80.000 eur, če zavezanec izpolnjuje pogoje
- davčna stopnja znaša 19%

Vrednosti izračunov vpišite v spodnjo tabelo.

zap. št.	opis	izračun	dejanski d.o.o.	normirani d.o.o.
1.	prihodki			
2.	odhodki			
3.	davčna dobiček I	1-2		
4.	reprezentanca	50%		
5.	davčna dobiček II	3+4		
6.	olajšava za investiranje			
7.	osnova za davek	5-6		
8.	davek			

Predmet E: Poslovno in finančno vodenje podjetja

E1: Poznati zakone in običajne postopke pri uporabi čekov, menic, zadolžnic, kreditnih kartic in drugih sredstev ali načinov plačila

1E1M2M3M4M5I

Za vaše nemoteno poslovanje je hiter in zanesljiv plačilni promet zelo pomemben. Plačilo blaga in storitev upniku v Sloveniji lahko izvedete:

(označite nepravilni odgovor)

- z gotovino neposredno pri upniku.
- s čekom, ki ga izročite upniku.
- s plačilnim nalogom pri bančnem okencu ali preko e-poti
- z odprtjem dokumentarnega akreditiva pri vaši poslovni banki.

2E1M2M3M4M5I

Plačilni nalog je inštrument, ki omogoča:

(označite nepravilni odgovor)

- plačilo blaga in storitev,
- polog gotovine na TRR,
- dvig gotovine s TRR,
- izplačilo upniku v gotovini.

3E1M2M3M4M5P

Za vaše nemoteno poslovanje je hiter in zanesljiv plačilni promet zelo pomemben. Nabavili ste motorno vozilo v tujini. Opišite postopek izvedbe plačila, če uporabite dokumentarni akreditiv!

4E1M2M3M4M5P

Za vaše nemoteno poslovanje je hiter in zanesljiv plačilni promet zelo pomemben. Poslovna banka vam ponuja poslovno kartico. Naštejte vsaj štiri njene prednosti.

5E1M2M3M4M5P

Za vaše nemoteno poslovanje je hiter in zanesljiv plačilni promet zelo pomemben. Prodajalec, dobavitelj goriv, vam ponuja kreditno kartico. Naštej vsaj štiri prednosti kartičnega poslovanja?

6E1M2M3M4M5P

Opišite razliko med gotovinskimi in negotovinskimi plačili, ki jih prevoznik prejme za opravljene prevozne storitve! To lahko opišete tudi na praktičnem primeru.

7E1M2M3M4M5P

Kdaj lahko banka izvede negotovinsko plačilo obveznosti komitenta preko transakcijskega računa in na kakšen način?

8E1M2M3M4M5P

Kdaj lahko banka izvede plačilo brez soglasja imetnika transakcijskega računa?

9E1M2M3M4M5P

Kot družba z omejeno odgovornostjo prejimate gotovinska plačila računov za prevozniške storitve. Naštete naloge in postopke blagajnika!

11E1M4M5I

Za opravljene prevoze blaga prejimate gotovinska plačila. Kako morate poslovati z gotovino? **(označite nepravilni odgovor)**

- Vodenje blagajniškega poslovanja ni obvezno, saj se izdani računi davčno potrjujejo.
- Vodimo evidenco o vplačilih in izplačilih ter stanju gotovine v blagajni (blagajniški dnevnik).
- Gotovino nad blagajniškim maksimumom nakazujemo na transakcijski račun.
- Za opravljeno storitev izdamo račun.

12E1M2M3M4M5P

Poslovni subjekti med seboj načeloma poslujejo negotovinsko. Kateri zakon omejuje gotovinsko poslovanje med poslovnimi subjekti in do katere višine je plačilo za opravljene storitve in dobave blaga lahko plačano z gotovino?

13E1M2M3M4M5P

Kateri zakon omejuje plačilo z gotovino za opravljeno dobavo blaga ali storitev med poslovnim subjektom in fizično osebo. Do katere višine je plačilo lahko prejeta v gotovini?

14E1M2M3M4M5P

Opišite razliko med debetno in kreditno kartico!

E2: Poznati različne oblike posojil (bančno posojilo, akceptni kredit, garancijski depoziti, hipoteke, zakup, najem, odkup terjatev) ter obremenitve in obveznosti, ki izhajajo iz teh posojil

1E2M2M3M4M5I

Viri lastniškega financiranja gospodarskih subjektov so lahko: **(označite nepravilni odgovor)**

- lastna sredstva ustanovitelja.
- sredstva drugih podjetij.
- skladi in družbe tveganega kapitala.
- lizing.

2E2M2M3M4M5I

Viri dolžniškega financiranja gospodarskih subjektov so lahko: **(označite nepravilni odgovor)**

- investicijski skladi.
- kredit dobaviteljev.
- bančna posojila.
- lizing.

3E2M2M3M4M5I

Pogoji najemanja posojil so odvisni: **(označite nepravilni odgovor)**

- le od likvidne sposobnosti posojilojemalca.
- od ročnosti posojila.
- od bonitete podjetja.
- od možnosti zavarovanja kredita.

4E2M2M3M4M5P

Opreделите vrste posojil glede na ročnost! Navedite primera!

5E2M2M3M4M5I

Amortizacijski načrt je

- načrt odplačevanja kredita, ki vsebuje število obrokov oziroma anuitet in datume zapadlosti.
- načrt odplačevanja kredita, ki vsebuje višino obrokov oziroma anuitet, razdolžnin in obresti.
- načrt odplačevanja kredita, ki vsebuje višino razdolžnin in obresti.
- načrt odplačevanja kredita, ki vsebuje višino obresti.

6E2M2M3M4M5P

Kaj je osnova za obračun obresti pri izdelavi načrta odplačevanja kredita in kako se obresti obračunajo?

7E2M2M3M4M5I

Pri obročnem amortizacijskem načrtu:

(označite nepravilni odgovor)

- se anuitete manjšajo.
- so razdolžnine enake.
- se obresti manjšajo.
- so anuitete enake.

8E2M2M3M4M5I

Pri anuitetnem amortizacijskem načrtu:

(označite nepravilni odgovor)

- se anuitete manjšajo.
- se razdolžnine večajo.
- se obresti manjšajo.
- so anuitete enake.

9E2M2M3M4M5I

Likvidnostne težave podjetnik običajno rešuje
(označite nepravilni odgovor)

- s faktoringom ali prodajo terjatev.
- z odobrenim limitom na transakcijskem računu.
- s kratkoročnim kreditom.
- z depoziti.

10E2M2M3M4M5P

Kaj je faktoring in kdaj se ga boste poslužili?

11E2M2M3M4M5P

Ste majhna družba in potrebujete novo vozilo za opravljanje storitev prevoza. Odločate se med med finančnim in poslovnim najemom vozila! V čem se najema razlikujeta?

12E2M2M3M4M5P

Vozilo lahko kupite na različne načine: ga plačate takoj, najamete kredit ali ga vzamete v zakup (lizing). Opišite razlike, če nakup vozila financirate z lizingom ali kreditom!

13E2M2M3M4M5P

Na začetku meseca ste najeli likvidnostni kredit 3.000 €, ki ga morate vrniti v enkratnem znesku po treh mesecih. Kolikšne so obresti, če znaša letna obrestna mera 12%? (Rešitev se upošteva, če napišete potek izračuna, ne samo rezultat.)

E3: Vedeti, kaj je bilanca stanja, kako se izdelata in kako se razlaga

1E3M2M3M4M5I

Letno poročilo majhnih kapitalskih družb, ki z vrednostnimi papirji **ne** trgujejo na trgu je sestavljeno vsaj iz

- bilance stanja, izkaza poslovnega izida in priloge s pojasnili k izkazu.
- bilance stanja in izkaza poslovnega izida.
- bilance stanja, izkaza denarnih tokov in izkaza poslovnega izida.
- bilance stanja, izkaza gibanja kapitala in izkaza poslovnega izida.

2E3M2M3M4M5I

Kaj prikazuje izkaz bilanca stanja?

- Prikazuje prihodke, odhodke in poslovni izid ob koncu poslovnega leta.
- Prikazuje stanje sredstev in obveznosti do virov sredstev ob koncu poslovnega leta.
- Prikazuje prihodke in stanje sredstev ob koncu poslovnega leta ter morebitno izgubo.
- Prikazuje gibanje kapitala ob koncu poslovnega leta s prikazom čistega dobička.

3E3M2M3M4M5I

Izkaz poslovnega izida in bilanca stanja morajo izkazovati podatke za

- predhodno in tekoče leto.
- samo za tekoče leto.
- izkaz poslovnega izida za predhodno in tekoče leto, bilanca stanja samo za tekoče leto.
- bilanca stanja za predhodno in tekoče leto, izkaz poslovnega izida samo za tekoče leto.

4E3M2M3M4M5I

Kapital je

- postavka v bilanci stanja in je del dolgoročnih sredstev.
- postavka v izkazu poslovnega izida in je del prihodkov.
- postavka v bilanci stanja in je del obveznosti do virov sredstev.
- postavka v bilanci poslovnega izida in je del odhodkov.

5E3M2M3M4M5I

Dolgoročna sredstva v bilanci stanja sestavljajo:

- opredmetena osnovna sredstva in dolgoročne finančne naložbe.
- opredmetena osnovna sredstva, neopredmetena dolgoročna sredstva, dolgoročne finančne naložbe in dolgoročne poslovne terjatve.
- opredmetena in neopredmetena osnovna sredstva.
- opredmetena osnovna sredstva in zaloge.

6E3M2M3M4M5P

Kaj so opredmetena osnovna sredstva? Naštejte pomembna opredmetena osnovna sredstva, ki jih mora imeti prevoznik!

7E3M2M3M4M5I

Zaloge so postavka v bilanci stanja in so del

- dolgoročnih sredstev.
- kratkoročnih sredstev.
- kapitala.
- opredmetenih osnovnih sredstev.

8E3M2M3M4M5P

Kaj obsegajo neopredmetena osnovna sredstva? Navedite primer.

9E3M2M3M4M5I

Kratkoročna sredstva (zaloge, terjatve, denarna sredstva..) so sredstva

- ki se preoblikujejo v obdobju krajšem od leta dni.
- ki se preoblikujejo v obdobju, ki je daljše od leta dni.
- obdobje za preoblikovanje sploh ni pomembno.
- o tem se podjetje dogovori, ko pridobi finančna sredstva.

10E3M2M3M4M5I

Dolgoročne obveznosti se izkažejo v bilanci stanja. Za njih je značilno,

- da zapadejo v plačilo v obdobju do leta dni.
- da so to obveznosti do posojilodajalcev, ki niso lastniki podjetja.
- da kot celota zapadejo v plačilo, v obdobju daljšem od leta dni.
- da obdobje ni pomembno.

11E3M2M3M4M5I

Podatki v bilanci stanja se predhodno preverjajo in primerjajo s podatki

- ugotovljenimi s popisom sredstev in obveznosti.
- ki se izkažejo v izkazu poslovnega izida.
- ki se izkazujejo v terjatvah in obveznostih.
- podatkov ni potrebno primerjati.

12E3M2M3M4M5I

Dokapitalizacija pomeni

- najem novega posojila.
- povečanje kapitala družbe.
- povečanje rezerv družbe.
- uvrstitev delnic na trg vrednostnih papirjev.

13E3M2M3M4M5I

Kratkoročna sredstva v bilanci stanja so

- zaloge, opredmetena osnovna sredstva in kratkoročne obveznosti.
- zaloge, kratkoročne terjatve, denar in dolgoročne obveznosti.
- zaloge, kratkoročne finančne naložbe in kratkoročne poslovne terjatve ter denarna sredstva.
- zaloge, denar, opredmetena osnovna sredstva in finančne naložbe.

14E3M2M3M4M5P

Katera so kratkoročna sredstva? Naštejte nekaj kratkoročnih sredstev, ki jih običajno ima prevoznik.

15E3M2M3M4M5P

Obrazložite pojem, s katerim v bilanci stanja izkazujemo uravnoteženo stanje sredstev in obveznosti! Izpolni tabelo na način, da bo bilanca stanja uravnotežena!

	AKTIVA	PASIVA
opredmetena sredstva		
TRR		
teratve do kupcev		
kapital		
obveznosti do dobaviteljev		
obveznosti do banke		

16E3M4M5S

Opravljate prevoz blaga. Iz knjigovodstva ste dobili naslednje podatke o sredstvih in obveznostih do virov sredstev na dan 31.12.:

- neodpisana vrednost voznega parka 80.000 €
- neplačani računi strank, za katere ste opravili prevozne storitve 22.400 €
- transakcijski račun 20.000 €
- kratkoročno prejeto posojilo 30.000 €
- neplačani računi dobaviteljem materiala in storitev 15.000 €

Izračunajte višino kapitala, ki zagotavlja bilančno ravnotežje!

Ali »imate« ustrezen finančni položaj po določbah ZPCP, če razpolagate z 10 vozili za največjo dovoljeno maso nad 3,5 tone? Odgovor utemeljite.

AKTIVA		PASIVA	
SREDSTVA		OBVEZNOSTI DO VIROV SREDSTEV	
DOLGOROČNA SREDSTVA		KAPITAL	
Neopredmetena sredstva		Osnovni kapital	
Opredmetena osnovna sredstva		Nerazdeljen dobiček	
KRATKOROČNA SREDSTVA		Čisti dobiček poslovnega leta	
Kratkoročne poslovne terjatve do kupcev		DOLGOROČNE OBVEZNOSTI	
Kratkoročne terjatve do drugih		Dolgoročne poslovne obveznosti do bank	
Denarna sredstva		KRATKOROČNE OBVEZNOSTI	
		Kratkoročne poslovne obveznosti do bank	
		Kratkoročne poslovne obveznosti do dobaviteljev	
		Druge kratkoročne obveznosti (DDV)	

18E3M2M3M4M5I

Rok za predložitev letnih poročil na AJPES je

- 31. 3. tekočega leta za preteklo leto
- 30. 4. tekočega leta za preteklo leto
- 31. 5. tekočega leta za preteklo leto
- 30. 6. tekočega leta za preteklo leto

19E3M2M3M4M5I

Letna poročila poslovnih subjektov, ki imajo sedež v RS, so javno objavljena na spletnih straneh:

- AJPES
- FURS
- Ministrstva za finance
- sodnega registra

20E3M2M3M4M5I

Kdo ni zavezan k oddaji letnega poročila na AJPES?

- Samostojni podjetnik normiranec
- Mikro kapitalna družba
- Društvo
- Zadruga

21E3M2M3M4M5P

Naštej najmanj štiri kategorije kapitala samostojnega podjetnika, ki vodi poslovne knjige po načelu dvostavnega knjigovodstva!

22E3M2M3M4M5P

Podjetnik vodi poslovne knjige po načelu enostavnega knjigovodstva. Kako izračuna podjetnikov kapital? A se v bilanci stanja kapital razčlenjuje?

23E3M2M3M4M5P

Od namena uporabe je odvisno v kateri skupini pripoznate nakup nepremičnine. Umestite nepremičnino glede na namen uporabe med opredmetena osnovna sredstva, zaloge, dolgoročne finančne terjatve in naložbene nepremičnine

namen	razvrstitev nepremičnine
oddajanje v najem	
pisarniški namen	
nadaljnja prodaja	
finančni najem	

24E3M2M3M4M5P

Nosilec dejavnosti je lastnik nepremičnine. Kako lahko nepremičnino prenese v dejavnost? Ali lahko sklene kupoprodajno pogodbo - utemelji?

25E3M2M3M4M5I

Opredmetena osnovna sredstva so v bilanci stanja izkazana po:

- Neodpisani vrednosti
- Nabavni vrednosti
- Nadomestljivi vrednosti
- Revalorizirani vrednosti

26E3M2M3M4M5S

Kupili ste novo vozilo iz tujine. Dobavitelj vam je izstavil račun za 50.000 EUR brez DDV, za plačilo v 5 dneh vam prizna 2% popust. Odmerjen vam je bil davek na motorna vozila v višini 1.500 eur. Izračunajte nabavno vrednost vozila ob predpostavki, da ste uveljavljali popust in da si vstopnega DDV ne smete odbijati!

27E3M2M3M4M5I

Skladno z ZGD-1 morajo biti zakonske rezerve družbe oblikovane najmanj v višini:

- 10% osnovnega kapitala
- 10% celotnega kapitala družbe
- 10% nerazporejenega dobička iz preteklih let
- 10% bilančne vsote

28E3M2M3M4M5I

Če zakonske rezerve ne dosegajo zakonsko predpisanega zneska in družba v poslovnem letu izkaže čisti dobiček, mora pri sestavi bilance stanja v zakonske rezerve odvesti:

- 5% zneska čistega dobička
- 10% zneska čistega dobička
- 5% zneska celotnega dobička
- 10% zneska celotnega dobička

29E3M2M3M4M5P

Naštejte vsaj 2 dejavnika, ki kažeta na to, da kupec terjatve ne bo v celoti ali deloma poravnal. Kaj mora podjetje po računovodskih standardih storiti?

E4: Biti sposoben brati in razlagati izkaz uspeha

1E4M2M3M4M5I

Kaj prikazuje izkaz poslovnega izida (bilanca uspeha)?

- Prikazuje prihodke in odhodke ter gibanje prejemkov in izdatkov v poslovnem letu.
- Prikazuje prihodke, odhodke in poslovni izid v poslovnem letu.
- Prikazuje gibanje kapitala v poslovnem letu in uporabo dobička in pokrivanje izgube.
- Prikazuje stanje sredstev in obveznosti do virov ob koncu poslovnega leta.

2E4M2M3M4M5I

V izkazu poslovnega izida so prikazani naslednji odhodki, ki se uvrščajo med stroške:

(označite nepravilni odgovor)

- stroški blaga in materiala.
- stroški dela.
- stroški storitev.
- obresti.

3E4M2M3M4M5I

Kaj je amortizacija?

- Je razlika med nabavno vrednostjo osnovnega sredstva in popravkom njegove vrednosti.
- Je strošek in predstavlja v denarju izkazano zmanjšanje vrednosti opredmetenih osnovnih sredstev.
- Je strošek in predstavlja v denarju izkazano zmanjšanje vrednosti gibljivih sredstev.
- Je strošek opredmetenih in gibljivih sredstev.

4E4M2M3M4M5I

Pri amortizaciji osnovnih sredstev so pomembne tudi amortizacijske stopnje, ki jih določimo

- na podlagi ocenjene življenjske dobe.
- po zakonsko določenih stopnjah.
- na podlagi ocene vpliva na poslovni izid.
- na podlagi tega ali imajo ob nabavi neodpisano ali tudi odpisano vrednost.

5E4M2M3M4M5I

Za katera sredstva podjetje lahko obračunava amortizacijo?

- Za zgradbe, opremo, zemljišča, zaloge gotovih proizvodov.
- Za zgradbe, opremo, osnovni kapital, material.
- Za zgradbe, opremo.
- Za zgradbe, opremo, zemljišča, terjatve do kupcev.

6E4M2M3M4M5P

Kdaj pričnemo obračunavati amortizacijo in za katera sredstva se amortizacija ne obračunava?

7E4M2M3M4M5I

Stroški blaga, materiala in storitev so

- poslovni odhodki in se izkazujejo v bilanci stanja.
- prihodki, ki se izkažejo v izkazu poslovnega izida.
- poslovni odhodki, ki jih ni potrebno prikazati v izkazu poslovnega izida.
- poslovni odhodki, ki so izkazani v izkazu poslovnega izida.

8E4M2M3M4M5I

Prevoznik ima pri banki naložena sredstva. Pri sestavi zaključnega računa prejete obresti vključi:

- med izredne prihodke v izkazu poslovnega izida.
- med odhodke financiranja v izkazu poslovnega izida.
- med prihodke financiranja v izkazu poslovnega izida.
- med prihodke financiranja v bilanco stanja.

9E4M2M3M4M5P

Opreделите pojem stroškovno mesto in stroškovni nosilec?

10E4M2M3M4M5S

Na osnovi podatkov v naslednji nalogi izračunajte poslovni izid podjetja Transport d.o.o. ob koncu leta. Sestavite izkaz poslovnega izida podjetja za koledarsko leto, če razpolagate z naslednjimi podatki:

1. Nabavna vrednost voznega parka 120.000 €. Amortizacijska stopnja 10%.
2. Stroški dela 54.000 €.
3. Stroški goriva 52.000 €.
4. Stroški zavarovanja (obvezno in odgovornostno) 14.400 €.
5. Stroški vzdrževanja 14.000 €.
6. Drugi stroški 8.000 €.
7. Ustvarili 170.000 € čistih prihodkov.

Izračunajte čisti dobiček, če je davčna stopnja 19%.

11E4M2M3M4M5I

Storitev prevoza ste opravili v mesecu decembru, račun za opravljeno storitev pa izdali januarja naslednje leto. Stranka vam je račun poravnala v februarju. Kdaj pripoznate prihodke iz naslova opravljene storitve?

- Ko je bila storitev opravljena (december)
- Ko je bil izdan račun (januar)
- Ko ste prejeli plačilo (februar)
- Ko bo račun plačan

12E4M2M3M4M5I

Zavarovanje ste sklenili za obdobje 1.6. do 31.5. naslednjega leta. Zavarovalna premija je bila plačana julija v višini 1.000 eur. Koliko stroškov iz naslova zavarovanja pripoznate v letošnjem letu?

- 583,33 eur
- 1000,00 eur
- 500,00 eur
- 0 eur, saj bomo strošek v celoti pripoznali naslednje leto

13E4M2M3M4M5P

Prodali ste vozilo. Iz registra osnovnih sredstev izhajajo naslednji podatki: nabavna vrednost vozila 33.000 eur, amortizacija 20.000 eur. V kakšni višini pripoznate prihodke iz naslova prodaje, če ste vozilo prodali za vrednost 15.000 eur?

14E4M2M3M4M5I

Decembra ste sklenili pogodbo o poslovnem najemu vozila za naslednje leto. Z najemodajalcem ste se dogovorili za nižjo ceno najemnine, pogoj je bil, da se najemnina v celoti poravna ob sklenitvi pogodbe. Račun za najemnino ste prejeli januarja. Kdaj pripoznate strošek najema?

- Ko bo storitev opravljena (naslednje leto)
- Ko je bil izdan račun (januar)
- Na dan plačila najemnine (december)
- Na dan sklenitve pogodbe (december)

E5: Biti sposoben oceniti donosnost podjetja in njegov finančni položaj, zlasti na podlagi finančnih kazalcev**1E5M2M3M4M5I**

Kratkoročna plačilna sposobnost oz. likvidnost pomeni

- sposobnost podjetja, da tekoče poravnava kratkoročne in dolgoročne obveznosti.
- sposobnost podjetja, da poravnava dolgoročne obveznosti.
- sposobnost podjetja, da tekoče poravnava zapadle obveznosti.
- sposobnost podjetja, da tekoče poravnava vse obveznosti.

2E5M2M3M4M5I

Koeficient celotne gospodarnosti se odraža kot razmerje med

- prihodki in odhodki.
- prihodki in stroški.
- prihodki in izdatki.
- prihodki in kapitalom.

3E5M2M3M4M5I

Koeficient celotne gospodarnosti znaša 1,5, kar pomeni

- da so odhodki večji od prihodkov.
- da so prihodki večji od odhodkov.
- da so prihodki enaki odhodkom.
- da so redni prihodki večji kot izredni.

4E5M2M3M4M5I

Produktivnost je pomembna ekonomska kategorija, ki jo opredelimo kot razmerje med

- fizičnim obsegom proizvodnje (npr. transportnim delom) na enoto dela (npr. delavec).
- dobičkom na enoto dela.
- dobičkom v primerjavi s stroški.
- fizičnim obsegom glede na akumulacijo.

5E5M2M3M4M5I

Rentabilnost je kazalnik finančne uspešnosti poslovanja podjetja in se kaže v razmerju med

- čistim dobičkom in opredmetenimi osnovnimi sredstvi.
- čistim dobičkom in vsemi obveznostmi.
- čistim dobičkom in prihodki.
- čistim dobičkom in kapitalom.

6E5M2M3M4M5P

Napišite najmanj 4 načine, ki bi izboljšali likvidnost družbe!

7E5M2M3M4M5P

Naštejte vsaj štiri osnovne kazalnike, ki jih uporabljamo pri analizi poslovanja!

8E5M4M5P

V podjetju z 10 zaposlenimi, ki opravljajo prevoze blaga z 8 vozili z nosilnostjo 12 ton, je v poslovnem letu vsako vozilo prevozilo 50.000 km. Kolikšna je bila produktivnost?

9E5M2M3M4M5P

Poslovni izid izkazuje 45.000 € prihodkov in 40.000 € odhodkov. Izračunajte koeficient gospodarnosti in ga komentirajte!

10E5M2M3M4M5P

Podjetje je imelo v poslovnem letu povprečni kapital 25.000 € in je ustvarilo 2.000 € čistega dobička. Izračunajte rentabilnost (koeficient čiste dobičkonosnosti kapitala) in ga komentirajte!

12E5M2M3M4M5P

Na podlagi podatkov iz bilance stanja ocenite ali ima podjetje likvidnostne težave (namig: izračunajte in komentirajte ustrezni koeficient likvidnosti).

DOLGOROČNA SREDSTVA	98.000	KAPITAL	90.000
KRATKOROČNA SREDSTVA	8.500	DOLGOROČNE OBVEZNOSTI	10.000
Terjatve do kupcev	3.500	KRATKOROČNE OBVEZNOSTI	6.500
Transakcijski račun	5.000	Obveznosti do dobaviteljev	6.000
		Druge kratkoročne obveznosti	500

E6: Biti sposoben pripraviti proračun (finančni plan)**1E6M2M3M4M5P**

Kakšna je razlika med stalnimi (fiksni) in spremenljivimi (variabilnimi) stroški? Navedite primer!

2E6M2M3M4M5I

Katere izmed navedenih stroškov bi uvrstili med spremenljive stroške, če izdelujete kalkulacijo cene za prevoženi kilometer za določeno vozilo:

- amortizacijo
- gorivo
- zavarovanje
- splošne (upravne...)

3E6M2M3M4M5I

Katere izmed navedenih stroškov bi uvrstili med stalne stroške, če izdelujete kalkulacijo cene za prevoženi kilometer za določeno vozilo:

- amortizacijo
- gorivo
- cestnina
- vzdrževanje

4E6M2M3M4M5S

Izdelajte mesečni predračun (plan prihodkov in odhodkov), če razpolagate z enim vozilom, za katerega načrtujete, da bo prevozilo 5.500 km. Podatki o stroških na prevoženi kilometer so v spodnji tabeli. Cena za prevoženi kilometer, ki jo zaračunate naročniku je 1,4 €.

Kolikšen je celotni dobiček (izguba)?

Kolikšen je koeficient celotne gospodarnosti?

Izračunajte poslovni izid, če bi vozilo prevozilo le 4.000 km?

Kolikšna bi morala biti cena za prevoženi kilometer, da bi pri 4.000 km pokrili celotne stroške?

Vrsta stroška	Stalni v €	Spremenljivi v € / km		
Strošek goriva		0,360		
Strošek dela	1.400			
Amortizacija vozila	1.200			
Vzdrževanje		0,098		
Strošek gum		0,022		
Zavarovanje	400			
Cestnine		0,180		
Splošni stroški	650			

E7: Poznati stroškovne elemente svojega podjetja, (fiksne stroške, spremenljive stroške, obratni kapital, amortizacijo itd.) in znati izračunati stroške na vozilo, na kilometer, na vožnjo ali tona**1E7M2M3M4M5I**

Lastna (stroškovna) cena za prevoženi kilometer je cena, s katero prevoznik krije

- vse odhodke.
- vse stroške in si zagotovi načrtovani dobiček.
- vse spremenljive stroške.
- vse stroške.

2E7M2M3M4M5I

Prodajna cena na enoto (na prevoženi kilometer) je

- stroškovna cena povečana za pričakovani dobiček.
- cena, ki jo določi občina.
- cena, ki je enaka ceni konkurence.
- cena, ki krije stroške na prevoženi kilometer.

3E7M2M3M4M5I

Kateri izmed navedenih elementov ni stroškovni element cene na prevoženi kilometer?

- Plače voznikov.
- Gorivo.
- Donacija za humanitarne namene.
- Najemnina poslovnih prostorov.

4E7M2M3M4M5I

Prodajna cena z DDV za prevoženi kilometer je

- lastna (stroškovna cena) povečana za DDV.
- prodajna cena povečana za DDV.
- cena, ki vključuje spremenljive stroške in DDV.
- cena, ki vključuje materialne stroške in stroške dela na prevoženi kilometer.

5E7M2M3M4M5I

Izdelujete kalkulacijo lastne cene za prevoženi kilometer. Katere izmed navedenih stroškov (naravne vrste stroškov) bi uvrstili med posredne stroške?

- Stroške goriva.
- Plače voznikov.
- Stroške dela uprave.
- Cestnine.

6E7M2M3M4M5P

Pojasnite razliko med neposrednimi in posrednimi stroški! Navedite primer za kalkulacijo cene prevozne storitve (npr. cene za prevoženi kilometer)!

7E7M4M5S

Kolikšno prodajno ceno (polno lastno ceno) za prevoženi kilometer prevoza blaga boste ponudili, če razpolagate s podatki o stroških, ki so zbrani v spodnji tabeli in načrtujete, da boste z vozilom mesečno prevozili 3000 km po lokalnih cestah ter želite ustvariti dobiček v višini 10% vseh stroškov! Izračune napišite v tretjem stolpcu! Kolikšna bo prevoznina z DDV za 150 km?

Vrsta stroška		
Strošek goriva	Poraba 20l na 100 km, cena 1,00 €/l.	
Strošek dela	Mesečna bruto plača voznika 1.500 €, mesečno prevozi 3.000 km.	
Amortizacija vozila	Nabavna vrednost vozila 65.000 €, amortizacijska doba 5 let, časovno amortiziranje.	
Vzdrževanje	50% stroškov amortizacije	
Strošek gum	Menjava po 150.000 km, stroški vseh gum in menjave 2.000 €.	
Zavarovanje	Avtomobilsko 2.000 €, prevozniška odgovornost 300 €.	
Posredni (splošni) stroški	50% stroškov dela voznika.	

E8: Biti sposoben izdelati organogram osebja kot celote v podjetju in sestaviti delovne načrte itd.

1E8M2M3M4M5I

Organizacijska struktura je orodje menedžerjev

(označite najprimernejši odgovor)

- za dnevno razporejanje nalog med izvajalce delovnih operacij.
- za delitev dela znotraj podjetja na posamezne oddelke in delovna mesta, doseganje strateških ciljev podjetja.
- za kontrolo izpolnjevanja delovnih obveznosti.
- za določanje plač delavcev.

2E8M2M3M4M5I

Organigram je

- vizualna predstavitev organiziranosti podjetja
- vizualna predstavitev oddelkov in delovnih mest
- vizualna predstavitev poslovnih funkcij
- je spisek delovnih nalog, razporejenih po delovnih mestih

3E8M2M3M4M5S

Tipične organizacijske strukture, ki so na voljo menedžerjem so: funkcijske, divizijske, matrične, mrežne, timske, hibridne ...

- Narišite tipičen organogram funkcijske organizacijske strukture za podjetje, v katerem opravljate prevoze z 10 vozili v notranjem cestnem prometu!

- Opišite bistvene naloge upravljavca prevozov!

- Opišite bistvene naloge voznika (ali za prevoz blaga ali za prevoz potnikov)!

E9: Poznati načela trženja, oglaševanja, stikov z javnostjo, skupaj s prodajno promocijo prevoznih storitev in pripravo seznama uporabnikov prevoznih storitev, itd.

1E9M2M3M4M5I

Vloga trženja je

(označite nepravilni odgovor)

- omejevati kulturo usmerjenosti k potrošništvu.
- oceniti atraktivnost trgov.
- spremeniti potrebe družbe v donosne priložnosti.
- pridobiti kupce in izpolniti kupčeve potrebe bolje kot konkurenca.

2E9M2M3M4M5I

Katero je temeljno vprašanje tržne strategije?

- Kje je podjetje danes?
- Kaj so trženjski cilji podjetja, kako jih doseči?
- Ali so potrebe po storitvah, ki jih ponuja podjetje prostorsko razpršene?
- Kakšne so zahteve trga za storitve, ki jih ponuja podjetje?

3E9M2M3M4M5P

Naštejte elemente trženjskega spleta, ki so pomembni za tržno pozicioniranje!

4E9M2M3M4M5I

Segmentiranje trga je tržna aktivnost, ki nam poda informacije:

(označite nepravilni odgovor)

- o številu segmentov trga (ciljnih skupinah).
- o velikosti posameznega segmenta.
- o značilnostih posameznega segmenta (potrebe, želje).
- o trženjskem spletu za posamezne segmente trga.

5E9M2M3M4M5P

Naštejte možne prodajne poti in metode za storitve in ocenite katera je po vašem mnenju najustreznejša za prodajo transportnih storitev!

6E9M2M3M4M5I

Dejavniki, ki vplivajo na cene cestnih prevozov in na katere prevoznik nima vpliva, so:

(označite nepravilni odgovor)

- cene konkurence.
- državno določanje cen za nekatere vrste cestnih prevozov.
- cene goriva.
- stroški dela.

7E9M2M3M4M5P

Naštejte najmanj štiri orodja tržne komunikacije in jih opišite!

E10: Poznati različne vrste zavarovanja, ki se nanašajo na cestni prevoz (odgovornostno zavarovanje, nezgodno/življenjsko zavarovanje, zavarovanje, ki ne zajema življenjskega zavarovanja in zavarovanje prtljage) in jamstva ter obveznosti, ki izhajajo iz teh zavarovanj

1E10M2M3M4M5P

Naštejte vrste zavarovanj v prevozniki dejavnosti!

2E10M2M3M4M5P

Katera zavarovanja so po Zakonu o obveznih zavarovanjih v prometu obvezna?

3E10M2M3M4M5P

Obrazložite naslednje pojme: zavarovatelj, zavarovalec, zavarovanec in navedite primer iz zavarovanja v cestnem potniškem ali tovornem prometu!

4E10M2M3M4M5I

Kdaj se smatra, da je zavarovalna pogodba sklenjena?

- Ko se stranki dogovorita o bistvenih elementih pogodbe.
- Ko se stranki dogovorita o vseh elementih pogodbe, bistvenih in nebistvenih.
- Ko je plačana zavarovalna premija.
- Ko pogodbenika podpišeta zavarovalno polico in je plačana zavarovalna premija oziroma njen del, če ni drugače dogovorjeno.

5E10M2M3M4M5I

Zavarovalnica sme odstopiti od pogodbe, če

- se riziko poveča zaradi zunanjih vzrokov.
- se ugotovi, da so podatki v zavarovalni prijavi netočni ali neresnični.
- se ugotovi, da je sklenitelj (zavarovalec) namenoma dal napačne ali netočne podatke.
- se ugotovi, da zaračunana premija ne ustreza teži prevzetega rizika.

6E10M2M3M4M5S

Katere dokumente je treba predložiti zavarovalnici ob nastanku zavarovalnega primera?

7E10M2M3M4M5S

Katere dolžnosti ima zavarovanec ob nastanku zavarovalnega primera?

8E10M2M3M4M5P

Kdaj zavarovalnica ne izplača zavarovalnine za nastalo škodo in bi bila nasprotna določila v zavarovalni pogodbi nična?

9E10M2M3M4M5I

Kaj stori organ za kontrolo prometa, če ugotovi, da je zavarovalna polica za avtomobilsko zavarovanje prenehala veljati?

- Napoti voznika k najbližji zavarovalnici, da podaljša veljavnost zavarovanja.
- Odvzame vozilu registrske tablice in prepreči nadaljnjo vožnjo.
- Kaznuje voznika zaradi prekrška in zahteva, da v treh dneh podaljša zavarovanje.
- Odvzame vozniško dovoljenje in preda voznika sodniku za prekrške.

10E10M2M3M4M5I

Kaj obsega obvezno avtomobilsko zavarovanje?

- Zavarovanje za škodo, ki jo povzroči voznik tretjim osebam zaradi smrti, telesne poškodbe, uničenja in poškodovanja stvari.
- Zavarovanje za škodo zaradi uničenja ali poškodovanja stvari, ki jih prevaža na zavarovanem vozilu.
- Zavarovanje blaga, če se vozilo uporablja za javni prevoz blaga.
- Zavarovanje potnikov proti posledicam nesreče.

11E10M2M3M4M5P

Kateri zahtevki so izključeni iz zavarovalnega kritja za avtomobilsko odgovornost?

12E10M2M3M4M5I

Če povzroči škodo tuje, neznano ali nezavarovano vozilo, potem

- škode ne krije odgovornostno zavarovanje, ampak mora vsak lastnik imeti kasko zavarovanje vozila.
- škodo krije lastnik takšnega vozila in je potrebno proti njemu vložiti tožbo.
- škodo krije zavarovalnica, ki ima večinski delež odgovornostnih zavarovanj na področju, kjer je nastala škoda.
- škodo krije škodni sklad pri Slovenskem zavarovalnem združenju.

15E10M4M5P

Katera so običajna neobvezna zavarovanja v cestnem prevozu blaga?

16E10M4M5S

Opišite razliko med kargo zavarovanjem in zavrovanjem odgovornosti prevoznika za škode na tovoru! Kdo je sklenitelj kargo zavarovanja in kaj krije? Proti katerim nevarnostim je zavarovana pošiljka po osnovnem kargo zavarovanju (naštej vsaj štiri)?

17E10M4M5I

Kaj krije zavarovanje odgovornosti prevoznika za škodo na tovoru?

- Odgovornost za fizično izgubo ali poškodbo tovara.
- Odgovornost za škodo na tovoru na drugem vozilu, poškodovanem v prometni nesreči.
- Odgovornost za neizpolnitev prevozne pogodbe.
- Škodo na samem tovoru (kot kargo zavarovanje).

18E10M4M5I

Pri osnovnem zavarovalnem kritju blaga na prevozu je pošiljka zavarovana pred naslednjimi nevarnostmi:

- požar, eksplozija, prometna nesreča, elementarna nesreča, vlomska tatvina, roparski napad.
- prometna nesreča, elementarna nesreča, navadna ali roparska tatvina.
- prometna nesreča, delna ali popolna izguba blaga, zmočitev blaga.
- požar, eksplozija, neizročitev blaga, navadna ali roparska tatvina.

E11: Poznati uporabo elektronskega prenosa podatkov v cestnem prometu

1E11M4M5S

Naštejte pet sodobnih telematskih aplikacij v cestnem tovornem prometu in na kratko navedite njihovo vlogo!

E12: Biti sposoben uporabljati pravila, ki urejajo fakturiranje cestnega prevoza blaga in poznati pomen in uporabo Incoterms

1E12M4M5I

Trgovinske klavzule INCOTERMS:

- so mednarodno dogovorjene obvezne sestavine kupoprodajne pogodbe.
- so mednarodno dogovorjene obvezne sestavine prevozne pogodbe.
- so mednarodno dogovorjeni termini, ki jih lahko stranki uporabljata v kupoprodajni pogodbi glede kraja izročitve blaga, to je kraja, ko se transportni stroški, stroški zavarovanja blaga prenesejo s prodajalca na kupca.
- so mednarodno dogovorjeni termini, ki jih uporablja prevoznik pri sklepanju prevoznih pogodb s podizvajalci.

2E12M4M5I

Z uporabo klavzul INCOTERMS se prodajalec in kupec dogovorita
(označite nepravilni odgovor)

- o kraju in času dobave.
- o prehodu nevarnosti izgube ali poškodovanja blaga s prodajalca na kupca.
- o sklenitvi prevozne pogodbe.
- razporeditvi stroškov med prodajalcem in kupcem.

3E12M4M5P

Napišite najmanj štiri klavzule INCOTERMS, ki se uporabljajo za cestni prevoz blaga in pri vsaki zapišite, kaj se smatra za "kraj dobave"!

4E12M4M5P

Napišite najmanj štiri klavzule INCOTERMS, ki se uporabljajo za cestni prevoz in pri vsaki napišite, kdaj preide nevarnost za poškodbe in izgubo tovora s prodajalca na kupca!

5E12M4M5P

V koliko dneh mora biti izvršeno plačilo voznine po Zakonu o prevozih v cestnem prometu? Ali se lahko rok za plačilo skrajša?

6E12**M4M5P**

Kdo solidarno odgovarja za plačilo voznine, če naročnik ne plača prevoza v zakonskem 30-dnevnem roku in v katerem roku je dolžan plačati voznino?

Predmet F: Dostop do trga

F1: Poznati poslovne predpise, ki urejajo dejavnost prevozov v cestnem prometu zlasti pravila o uradnem organiziranju dejavnosti, dovoljenju za opravljanje dejavnosti , dovoljenju za prevoz v Skupnosti in zunaj nje, inšpekcijskih pregledih in sankcijah

1F1M2M3M4M5P

Naštejte najmanj štiri razloge, zaradi katerih je prišlo v Evropski skupnosti do poenotenja pravil za dostop do opravljanja cestnega prevoznika v tovornem in potniškem prometu!

2F1M2M3M4M5I

"Domači prevoznik" je

- voznik, ki opravlja prevoze blaga ali potnikov na ozemlju Slovenije.
- podjetje, ki opravlja cestne prevoze za lastne potrebe na ozemlju Slovenije.
- prevoznik, ki opravlja cestne prevoze za plačilo na ozemlju Slovenije.
- fizična (s.p.) ali pravna oseba s sedežem v Sloveniji, ki opravlja dejavnost cestnega prevoza.

3F1M2M3M4M5I

"Prevoznik skupnosti" je

- pravna ali fizična oseba, ki opravlja dejavnost cestnega prevoznika in ima sedež v drugih državah, članicah Evropske Skupnosti.
- pravna ali fizična oseba, ki opravlja dejavnost cestnega prevoznika na ozemlju Evropske skupnosti.
- je voznik, ki prevažata blago ali potnike na ozemlju Evropske Skupnosti.
- je pravna ali fizična oseba, ki opravlja dejavnost cestnega prevoznika na ozemlju Evropske Skupnosti in ozemlju tretjih držav.

4F1M2M3M4M5I

"Tuji prevoznik" je

- pravna ali fizična oseba, ki opravlja dejavnost cestnega prevoznika in ima sedež v državah, ki niso članice Evropske Skupnosti.
- pravna ali fizična oseba, ki ima sedež v drugih državah in opravlja cestne prevoze na ozemlju Slovenije.
- voznik, ki ni državljan Slovenije in je zaposlen pri domačem prevozniku.
- pravna ali fizična oseba, ki ima sedež izven Slovenije.

5F1M2M3M4M5P

Kaj je "prevoz za tretje države"? Navedite primer!

6F1M2M3M4M5P

Kaj se smatra za "tranzitni prevoz"? Navedite primer!

7F1M2M3M4M5P

Kaj je "kabotaža"? Navedite primera!

8F1M2M3M4M5P

Uredba (ES) 1071/2009 določa, da mora imeti podjetje, ki opravlja dejavnost cestnega prevoznika, dejanski in stalni sedež v državi, ki izda dovoljenje za opravljanje dejavnosti cestnega prevoznika. Katere pogoje mora izpolnjevati podjetje s sedežem v Republiki Sloveniji, da zadovolji tej zahtevi?

9F1M2M3M4M5I

Uredba (ES) 1071/2009 določa, da mora podjetje imenovati za "upravljavca prevozov" vsaj eno fizično osebo, ki ima dober ugled in ustrezno strokovno usposobljenost. Poleg dobrega ugleda in ustrezne strokovne usposobljenosti pa mora izpolnjevati še naslednje pogoje:

(označite nepravilni odgovor)

- ima resnično povezavo s podjetjem (npr. je njegov uslužbenec) ali ga podjetje pooblasti za opravljanje nalog.
- mora dejansko in neprekinjeno voditi prevozno dejavnost podjetja.
- prebiva v Evropski skupnosti.
- ima predpisano stopnjo strokovne izobrazbe.

10F1M2M3M4M5P

Če podjetje ne razpolaga z osebo za "upravljavca prevozov", lahko s pogodbo pooblasti fizično osebo, v kateri mora določiti naloge, ki jih ta oseba učinkovito in neprekinjeno opravlja. Navedite najmanj 4 takšne naloge!

11F1M2M3M4M5P

Naštejte vsaj štiri najhujše kršitve pravil Skupnosti, katerih posledica je lahko izguba "dobrega ugleda" upravljavca prevozov.

12F1M2M3M4M5I

Za podjetje, ki opravlja dejavnost cestnega prevoznika, se zahteva, da ima ustrezen finančni položaj. Podjetje zadovoljuje tej zahtevi,

- če načrtuje ali je ustvaril v preteklem letu dobiček v višini 9.000 €, če uporablja eno vozilo in 5.000 € za vsako nadaljnje vozilo.
- če ima denarna sredstva v višini 9.000 € za prvo vozilo in 5.000 € za vsako nadaljnje.
- če ima premoženje v višini 9.000 € za prvo vozilo in 5.000 € za vsako nadaljnje v uporabi.
- če ima kapital in rezerve najmanj v višini 9.000 € za prvo vozilo in 5.000 € za vsako nadaljnje vozilo v uporabi.

13F1M2M3M4M5P

Kateri dokument, s katerim dokazujete "dober ugled", priložite vlogi za pridobitev dovoljenja za opravljanje dejavnosti cestnega prevoznika in kdo ga izda?

14F1M2M3M4M5P

Naštejte vsaj štiri dokazila, s katerimi lahko dokazujemo pogoj ustrezne finančne sposobnosti podjetja.

15F1M2M3M4M5I

Podjetje zadovolji ZAHTEVI po strokovni usposobljenosti, če

- ima zaposlene voznike s predpisano strokovno izobrazbo.
- upravljavec prevozov (odgovorna oseba) ima spričevalo (potrdilo) o strokovni usposobljenosti za opravljanje cestnega prevoza blaga/potnikov.
- če ima upravljavec prevozov predpisano stopnjo strokovne izobrazbe.
- če ima upravljavca prevozov in voznike s predpisano strokovno izobrazbo.

16F1M2M3M4M5I

Znanja za pisni izpit za kandidate, ki želijo pridobiti spričevalo (potrdilo) o strokovni usposobljenosti za opravljanje cestnega prevoza blaga/potnikov določa

- Uredba (ES) 1071/2009.
- Zakon o prevozih v cestnem prometu.
- Direktiva (ES).
- Pristojno ministrstvo.

17F1M2M3M4M5I

Nadzor nad izpolnjevanjem ZAHTEV za opravljanje dejavnosti cestnega prevoza opravlja

- izdajatelj dovoljenja za opravljanje dejavnosti prevoznika cestnega prometa.
- prometni inšpektorat in izdajatelj licenc.
- policija.
- pristojno ministrstvo

18F1M2M3M4M5I

Dovoljenje za opravljanje dejavnosti cestnega prevoznika se začasno ali trajno odvzame,

- če postane podjetje nelikvidno.
- če podjetje v roku, ki ga določi pristojni organ ne izpolni ene ali več ZAHTEV za opravljanje dejavnosti cestnega prevoznika.
- če je uveden stečajni postopek.
- če podjetje ne izpolnjuje pogojev glede sedeža podjetja.

20F1M2M3M4M5P

Prevozno podjetje A je zaradi povečanega obsega dela najelo dodatno vozilo od drugega prevoznega podjetja B. Podjetje B je dalo podjetju A v najem vozilo skupaj z izvodom licence. Ali bi lahko bila ob nadzoru na cesti ugotovljena kršitev? Odgovor utemeljite. Kdo bi v tem primeru nosil odgovornost?

21F1M2M3M4M5P

Prevozno podjetje je zaradi trenutno povečanega obsega dela najelo dodatno vozilo od drugega prevoznega podjetja. Kakšne so obveznosti prevoznega podjetja, če želi uporabljati najeto vozilo v sklopu svoje dejavnosti? Ali je najemna pogodba obvezni dokument v vozilu?

F2: Poznati pravila o ustanavljanju podjetja za cestne prevoze

2F2M4M5I

Želeli bi opravljati komercialne prevoze blaga samo na območju Republike Slovenije. Kaj vse morate storiti in katere dokumente morate pridobiti preden te prevoze začnete opravljati s svojimi vozili?

(označite najbolj pravičen oziroma popoln odgovor)

- Ustrezno registrirati dejavnost.
- Dobiti ustrezno dovoljenje lokalne skupnosti.
- Ustrezno registrirati dejavnost, pridobiti licenco za opravljanje prevozov blaga v notranjem cestnem prometu, izvode licence za vozila, potrdilo za voznike, če je voznik državljan tretje države.
- Ustrezno registrirati dejavnost in pridobiti licenco za opravljanje takih prevozov.

6F2M4M5I

Licenca ni potrebna za naslednje prevoze blaga

(označite nepravilni odgovor)

- pošte kot javne storitve.
- poškodovanih oziroma pokvarjenih vozil.
- z vozili, ki so namenjeni potrebam obrambe, prevozom v medicinske in humanitarne namene.
- za prevoze v tretje države.

7F2M2M3M4M5P

Kaj morate narediti, če so se spremenili pogoji, na podlagi katerih vam je bila izdana licenca in kaj, če ste licenco ali izvod licence izgubili?

8F2M2M3M4M5P

Kdaj izdajatelj začasno odvzame licenco ali posamezne izvode licence? Navedite najmanj dve področji predpisov, katerih kršitev po Zakonu o prevozih v cestnem prometu, je lahko začasni odvzem licence ali izvoda licence?

9F2M2M3M4M5P

Navedite najmanj štiri razloge za odvzem licence!

10F2M2M3M4M5I

Na kakšen način prevoznik lahko prenese licenco na drugega prevoznika?

- Z ustrezno notarsko overjeno pogodbo.
- Tako, da o tem obvesti izdajatelja licence.
- Licenca ni prenosljiva na drugega prevoznika.
- Licenca se lahko prenese s predhodno odobritvijo izdajatelja licence.

11F2M2M3M4M5I

Kdaj lahko začne prevoznik opravljati prevoze s posameznim vozilom?

- Ko mu je vročena licenca.
- Ko vloži vlogo za pridobitev izvoda licence.
- Ko dobi ustrezno prometno dovoljenje.
- Če ima v vozilu izvod licence prevoznika, ki ima v lasti ali najemu to vozilo.

12F2M2M3M4M5I

Kaj mora storiti imetnik licence, če se spremenijo podatki vezani na pogoje za izdajo licence?

- Ničesar, saj je za nadzor nad prevozniki zadolžen pristojni inšpektor.
- V 30 dneh po spremembi mora o tem obvestiti izdajatelja licence.
- V 15 dneh po spremembi mora o tem obvestiti izdajatelja licence.
- Izdajatelja licence obvestiti o spremembah, ko licenca preneha veljati in vložiti ponovno vlogo za izdajo licence.

17F2M2M3M4M5P

Prevozno podjetje je prodalo staro vozilo. V 15 dneh po odjavi starega vozila je bilo dobavljeno novo vozilo. Katere so obveznosti podjetja glede vračila oz. pridobitve novega izvoda licence?

20F2M2M4P

Naštejte vsaj štiri pogoje za pridobitev licence! (opravljanje nacionalnih prevozov blaga ali potnikov)!

F3: Poznati različne dokumente, ki se zahtevajo za opravljanje cestnega prevoza in biti sposoben uvesti kontrolne postopke za zagotovitev hrambe dokumentacije o vozilu, vozniku in blagu v vozilu in prostorih podjetja

1F3M2M3M4M5P

Kateri organi in kje vršijo nadzor dokumentacije, ki jo določa Zakon o prevozih v cestnem prometu, da jo mora imeti domači prevoznik med prevozom v vozilu?

5F3M4M5P

Katere dokumente, ki jih določa Zakon o prevozih v cestnem prometu, mora imeti voznik v vozilu, če opravlja prevoze blaga na ozemlju Slovenije?

6F3M4M5P

Katere dokumente mora imeti voznik v vozilu, če opravlja prevoz blaga z najetim vozilom brez voznika?

8F3M4M5P

Opišite postopek za pridobitev potrdila za voznika za prevoz blaga, če je voznik državljan tretje države (kdo je izdajatelj, kaj je potrebno priložiti vlogi,...)!

12F3M4M5P

V prevoznem podjetju so zaposlili voznika, državljana tretjih držav. Kateri dokument mora prevozno podjetje priskrbeti vozniku še preden gre voznik na pot in kje ga pridobi? Dokument potrjuje, da je voznik, zaposlen v skladu s predpisanimi pogoji zaposlitve in poklicnega usposabljanja določenimi v državi članici.

17F3M4M5P

Opravlja notranje komercialne prevoze blaga z vozilom katerega NDM znaša 2,2 t. Vozilu boste pripeli prikolico z NDM 1,4 t. Navedite vaše obveznosti glede pridobitve licence, uporabe tahografa in strokovne usposobljenosti voznika (koda 95).

F4: Poznati pravila o organizaciji trga cestnega prevoza blaga, o ravnanju s tovorom in o logistiki**1F4M4M5P**

Kako bi opredelili logistiko kot dejavnost?

2F4M4M5P

Naštejte vsaj 4 podsisteme logistike v gospodarskih družbah in katere so njihove funkcije?

3F4M4M5P

Naštejte vrste prevozov (prometne panoge, veje) glede na površino, po kateri se vrši prevoz!

4F4M4M5I

Konvencionalni ali unimodalni prevoz je prevoz,

- ki se izvaja z prevoznim sredstvom iz ene prometne panoge.
- ki se izvaja s cestnimi vozili za prevoz tovora.
- ki se izvaja z vozili iz različnih prometnih panog.
- ki se uporablja za paletizirano blago in kosovne pošiljke.

5F4M4M5I

Kombiniran prevoz je prevoz:

(označite nepravilni odgovor)

- ki se izvaja z vozili iz dveh prometnih panog.
- običajno s cestnimi in železniškimi vozili.
- tovor spremljata dve prevoznici listini.
- blago spremlja ena prevozna listina.

7F4M4M5I

Kdo je "špediter"?

- Oseba, ki poskrbi za carinjenje blaga.
- Pravna ali fizična oseba (s.p.), ki sklepa špeditersko pogodbo z naročiteljem logističnih storitev in je odgovorna za izpolnitev obveznosti iz te pogodbe.
- Pravna ali fizična oseba, ki sama izvaja vse logistične storitve vključno s prevozom.
- Je oseba, ki organizira prevoze.

8F4M4M5S

Prejeli ste naročilo za prevoz iz kraja A v kraj B. Napišite aktivnosti (naloge), ki jih morate opraviti, da boste naročilo realizirali (organizirali prevoz)! Zaželeno je, da izberete primer prevoza (naročila), ki ste ga že dejansko realizirali ali ga načrtujete!

9F4M4M5I

Ciklični transport je

- posebna oblika transportnega procesa, pri katerem transportna sredstva opravljajo transport med dvema različnima nakladalno razkladalnima mestoma.
- posebna oblika transportnega procesa, pri katerem transportna sredstva opravljajo večkratni transport med istima nakladalno razkladalnima mestoma.
- posebna oblika transportnega procesa, pri katerem transportna sredstva opravljajo transport med več nakladalno razkladalnimi mesti.
- posebna oblika transportnega procesa, pri katerem transportna sredstva opravljajo transport med nakladalno razkladalnima mestoma in voznim parkom.

10F4M4M5I

Izvajate ciklični prevoz blaga. Čas enega ciklusa je

- čas, ki poteče od odhoda transportnega sredstva z mesta nakladanja do prihoda nazaj na ponovno nakladanje.
- čas, ki poteče med dvema zaporednima prihodoma transportnega sredstva na ponovno nakladanje na isto nakladalno mesto.
- čas, ki poteče med dvema zaporednima prihodoma transportnega sredstva na ponovno nakladanje na drugo nakladalno mesto.
- čas, ki poteče od odhoda transportnega sredstva iz avtoparka do mesta nakladanja do prihoda nazaj na ponovno nakladanje.

11F4M4M5I

Izvajate ciklični prevoz blaga. Čas ciklusa je odvisen od

- časa nakladanja in razkladanja, nosilnosti vozila, hitrosti vožnje, dolžine prevozne poti in časovnih izgub pri tem delu.
- časa nakladanja in razkladanja, količin tovora, hitrosti vožnje, dolžine prevozne poti in časovnih izgub pri tem delu.
- časa nakladanja in razkladanja, hitrosti vožnje, dolžine prevozne poti in časovnih izgub pri tem delu.
- časa nakladanja in razkladanja, nosilnosti vozila, količine tovora, ki jo prevažamo, hitrosti vožnje, dolžine prevozne poti in časovnih izgub pri tem delu.

12F4M4M5I

Število ciklusov oz. ponavljajočih voženj na isti prevozni poti v določenem delovnem času je odvisno od

- časa trajanja enega ciklusa.
- časa trajanja enega ciklusa in oddaljenosti voznega parka do mesta nakladanja.
- časa trajanja enega ciklusa in oddaljenosti voznega parka do mesta nakladanja, ter časa, ki je predpisan za odmore v določenem delovnem času.
- časa trajanja enega ciklusa in oddaljenosti voznega parka do mesta nakladanja, ter časa, ki je predpisan za odmore v določenem delovnem času in dolžine delovnega časa.

17F4M4M5S

Prejeli ste naročilo za prevoz 600 ton blaga iz mesta A v mesto B, ki sta oddaljeni 90 km. Prevoz morate izvršiti v 10 - ih dneh. Tovor lahko prevzamete v kraju A med 7.00 in 16.00 uro. Razpolagate z ustreznimi tovornjaki z nosilnostjo 20 ton, katerih izkoristek nosilnosti je 80%. Za nakladanje načrtujete 20 min, za razkladanje 10 minut, druge izgube časa ocenjujete na 10 minut. Vozili boste s povprečno hitrostjo 60 km/h.

1. Najmanj koliko tovornjakov potrebujete, če morate pri organiziranju prevozov upoštevati socialno zakonodajo?
2. Kako boste organizirali vožnje (število voženj v 10 dneh), da bo organizacija čim bolj gospodarna in v skladu s socialno zakonodajo?

Predmet G: Tehnični standardi in vidiki poslovanja

G1: Poznati pravila o masah in dimenzijah vozil in postopke, ki jih mora upoštevati ob nenormalnih obremenitvah, ki pomenijo izjeme od teh pravil

2G1M4M5P

Kaj se smatra po Zakonu o motornih vozilih za "motorno vozilo" in kaj za "priklopno vozilo"?

4G1M4M5I

Skladno s homologacijskimi predpisi spadajo v kategorijo N:

- motorna vozila z vsaj 4 kolesi, namenjena prevozu potnikov in blaga.
- motorna vozila z vsaj 4 kolesi, namenjena prevozu potnikov.
- motorna vozila z vsaj 4 kolesi, namenjena prevozu blaga.
- priklopniki in polpriklopniki.

5G1M4M5I

Skladno s homologacijskimi predpisi spadajo v kategorijo O:

- motorna vozila z vsaj 4 kolesi, namenjena prevozu potnikov in blaga.
- motorna vozila z vsaj 4 kolesi, namenjena prevozu potnikov.
- motorna vozila z vsaj 4 kolesi, namenjena prevozu blaga.
- priklopniki in polpriklopniki.

6G1M4M5I

Skladno s homologacijskimi predpisi spadajo v kategorijo N2:

- vozila za prevoz blaga z največjo dovoljeno maso do vključno do 3,5 tone.
- vozila za prevoz blaga z največjo dovoljeno maso večjo od 5 ton, vendar do vključno 12 ton.
- vozila za prevoz blaga z največjo maso večjo od 12 ton.
- priklopna vozila z največjo maso večjo od 10 ton.

7G1M4M5I

Skladno s homologacijskimi predpisi spadajo v kategorijo N3:

- vozila za prevoz blaga z največjo maso do vključno do 5 ton.
- vozila za prevoz blaga z največjo maso večjo od 3,5 tone, vendar do vključno 12 ton.
- vozila za prevoz blaga z največjo dovoljeno maso nad 12 ton.
- priklopna vozila z največjo dovoljeno maso večjo od 10 ton.

8G1M4M5I

Skladno s homologacijskimi predpisi spadajo v kategorijo O4:

- priklopna vozila z največjo maso do vključno do 3,5 tone.
- priklopna vozila z največjo maso večjo od 3,5 tone, vendar do vključno 10 ton.
- priklopna vozila z največjo maso večjo od 10 ton.
- vlečna vozila z največjo maso večjo od 12 ton.

9G1M2M3M4M5I

Po Zakonu o motornih vozilih pomeni največja dovoljena masa

- maso praznega vozila.
- največjo maso vozila, ki jo določi proizvajalec vozila glede na konstrukcijske lastnosti vozila.
- največjo maso tovora.
- nosilnost vozila.

10G1M2M3M4M5P

Koliko znaša največja dovoljena skupna masa:

a) dvoosnega motornega vozila _____

b) triosnega motornega vozila _____

11G1M4M5P

Koliko znaša največja skupna dovoljena masa vozil, ki so del skupine vozil (priklopnikov):

a) dvoosnega priklopnika _____

b) triosnega priklopnika _____

12G1M4M5P

Koliko znaša največja dovoljena masa skupine vozil (vlačilec + polpriklopnik ali motorno vozilo + priklopnik):

a) dvoosni vlačilec + triosni polpriklopnik _____

b) triosni vlačilec + triosni polpriklopnik v kombiniranem prevozu _____

13G1M2M3M4M5P

Koliko znaša največja dovoljena osna obremenitev motornega vozila:

a) za enojno nepogonsko os _____

b) za dvojno os, če je razdalja med osmi od 1,0 m do 1,3 m _____

14G1M4M5P

Koliko znaša največja dovoljena osna obremenitev priklopnega vozila:

a) tandemskih osi od _____ do _____, odvisno od _____

b) trojen osi od _____ do _____, odvisno od _____

15G1M2M3M4M5I

Po Zakonu o motornih vozilih je masa vozila

- nosilnost vozila.
- masa praznega vozila.
- masa vozila s tovorom.
- "Masa vozila" je masa vozila, pripravljenega za vožnjo, brez potnikov in blaga, z voznikom (75 kg), z 90 odstotki goriva in polnimi rezervoarji tekočin, razen odpadne vode, ter rezervnim kolesom in orodjem, pri avtobusih pa tudi z drugim članom posadke (75 kg), če je zanj predviden poseben sedež.

20G1M4M5I

Po predpisih o merah in masah vozil v cestnem prometu je največja dovoljena dolžina motornega tovornega vozila

- 12,00 m.
- 16,50 m.
- 18,75 m.
- 22,00 m.

21G1M4M5I

Po predpisih o merah in masah vozil v cestnem prometu je največja dovoljena dolžina priklopnika

- 12,00 m.
- 16,50 m.
- 18,75 m.
- 22,00 m.

22G1M4M5I

Po predpisih o merah in masah vozil v cestnem prometu je največja dovoljena dolžina vlačilca s polpriklopnikom

- 12,00 m.
- 16,50 m.
- 18,75 m.
- 22,00 m.

23G1M4M5I

Po predpisih o merah in masah vozil v cestnem prometu je največja dovoljena dolžina motornega tovornega vozila s priklopnikom

- 12,00 m.
- 16,50 m.
- 18,75 m.
- 22,00 m.

24G1M4M5I

Po predpisih o merah in masah vozil v cestnem prometu je največja dovoljena širina vozil (razen traktorjev)

- 2,55 m, razen vozil z izotermno izolacijo
- 2,60 m.
- 2,55 m za vsa vozila.
- 3,06 m.

25G1M4M5P

Kolikšna je po predpisih o merah in masah vozil v cestnem prometu največja dovoljena višina in koliko širina vozila?

26G1M4M5I

Dokazilo o ustreznosti vozila s predpisi o merah in masah vozil v cestnem prometu je

- tablica o merah vozila.
- prometno dovoljenje.
- dokazilo o tehničnem pregledu.
- pisna izjava lastnika vozila.

27G1M4M5P

Koliko znaša dovoljena osna obremenitev motornega vozila:

a) za enojno nepogonsko os _____

b) za pogonsko os _____

28G1M4M5I

Dovoljena skupna masa triosnega vlačilca z dvo ali triosnim priklopnikom v kombiniranem prevozu znaša

- 44 t.
- 40 t.
- 38 t.
- 36 t.

29G1M4M5P

Kaj se po Zakonu o cestah šteje za "izredni prevoz"?

30G1M4M5I

Dovoljenje za izredni prevoz, ki poteka po državnih cestah ali državnih in občinskih cestah, izda

- Pristojna občinska uprava.
- Gospodarska zbornica v 8 dneh po vložitvi zahteve.
- Direkcija RS za ceste v 15 dneh po vložitvi zahteve.
- Ministrstvo za gospodarstvo 15 dni po vložitvi zahteve.

31G1M4M5I

Izredni prevoz I. kategorije je

- prevoz z vozilom, ki samo ali skupaj s tovorom ne presega 44 ton skupne mase, 3 m širine, 4,2 m višine, dolžine za več kot 25% od največje dovoljene s predpisi ali odrejene na cesti s prometnimi znaki ter osnih obremenitev, dovoljenih s predpisi ali odrejenih s prometnimi znaki.
- prevoz z vozilom, ki ima samo ali skupaj s tovorom naslednje vrednosti skupne mase, dimenzij ali osnih obremenitev: nad 44 ton do največ 60 ton skupne mase, nad 3 m do največ 3,5 m širine, nad 4,2 m do največ 4,5 m višine, ki presega dolžino za 25% do največ 40% od največje dovoljene s predpisi ali odrejene na cesti s prometnimi znaki, in ki presega osne obremenitve za največ 20% od največjih dovoljenih s predpisi ali odrejenih na cesti s prometnimi znaki.
- prevoz z vozilom, ki samo ali skupaj s tovorom presega gornje meje skupne mase, dimenzij ali osnih obremenitev.
- prevoz z delovnim vozilom brez tovora, registriranim za udeležbo v prometu, katerega skupna masa presega s predpisi dovoljeno skupno maso in ne presega 60 ton oziroma so zaradi skupne mase presežene dovoljene osne obremenitve. V to kategorijo sodijo tudi delovna vozila brez tovora, katerih dimenzije presegajo s predpisi dovoljene mere.

32G1M4M5I

Izredni prevoz II. kategorije je

- prevoz z delovnim vozilom brez tovora, registriranim za udeležbo v prometu, katerega skupna masa presega s predpisi dovoljeno skupno maso in ne presega 60 ton oziroma so zaradi skupne mase presežene dovoljene osne obremenitve. V to kategorijo sodijo tudi delovna vozila brez tovora, katerih dimenzije presegajo s predpisi dovoljene mere.
- prevoz z vozilom, ki samo ali skupaj s tovorom presega gornje meje skupne mase, dimenzij ali osnih obremenitev.
- prevoz z vozilom, ki samo ali skupaj s tovorom ne presega 44 ton skupne mase, 3 m širine, 4,2 m višine, dolžine za več kot 25% od največje dovoljene s predpisi ali odrejene na cesti s prometnimi znaki ter osnih obremenitev, dovoljenih s predpisi ali odrejenih s prometnimi znaki.
- prevoz z vozilom, ki ima samo ali skupaj s tovorom naslednje vrednosti skupne mase, dimenzij ali osnih obremenitev: nad 44 ton do največ 60 ton skupne mase, nad 3 m do največ 3,5 m širine, nad 4,2 m do največ 4,5 m višine, ki presega dolžino za 25% do največ 40% od največje dovoljene s predpisi ali odrejene na cesti s prometnimi znaki, in ki presega osne obremenitve za največ 20% od največjih dovoljenih s predpisi ali odrejenih na cesti s prometnimi znaki.

33G1M4M5P

Navedite najmanj dva pogoja pod katerimi se lahko izda dovoljenje za izredni prevoz!

34G1M4M5I

Dovoljenje za izredne prevoze se lahko izdaja

- za obdobje od najmanj enega do največ dvanajst mesecev za več izrednih prevozov ali za izredne prevoze, ki se opravljajo z enim vozilom.
- za obdobje od najmanj enega do največ šest mesecev za več izrednih prevozov ali za izredne prevoze, ki se opravljajo z več vozili.
- za obdobje od najmanj enega do največ dvanajst mesecev za več izrednih prevozov ali za izredne prevoze, ki se opravljajo z več vozili.
- za obdobje od najmanj enega do največ šest mesecev za več izrednih prevozov ali za izredne prevoze, ki se opravljajo z enim vozilom.

35G1M4M5P

Navedite vsaj štiri bistvene podatke, ki jih mora vsebovati vloga za pridobitev dovoljenja za izredni prevoz!

36G1M4M5I

Za katere kategorije izrednih prevozov je potrebno vlogi za izdajo dovoljenja predložiti tudi skico vozila ali vozil, s katerimi bo izredni prevoz opravljen?

- I in V kategorije.
- III in IV kategorije.
- I in II kategorije.
- II in III kategorije.

39G1M2M3M4M5I

Oсна obremenitev vozila je

- masa tovora, ki preko osi vozila obremenjuje vozišče.
- masa vozila, ki preko osi vozila obremenjuje vozišče.
- največja dovoljena skupna masa vozila, razdeljena s številom osi vozila.
- del skupne mase, s katero os vozila na vodoravni površini obremenjuje podlago.

40G1M2M3M4M5P

Pojasnite od česa so odvisne s predpisi določene največje dovoljene osne obremenitve vozil in zakaj so postavljene omejitve?

41G1M2M3M4M5I

Zakon o cestah določa globe, če vozila presegajo

(označite nepravilni odgovor):

- največjo dovoljeno maso po določilih proizvajalca vozila.
- največjo dovoljeno osno obremenitev, predpisano za posamezne vrste vozil ali po določilih proizvajalca.
- omejeno osno obremenitev s prometnim znakom.
- največjo dovoljeno maso po predpisih za posamezne vrste vozil.

42G1M2M3M4M5I

Zakon o cestah določa globe, če vozila presegajo največjo dovoljeno maso

- za voznika, prevoznika in odgovorno osebo prevoznika.
- samo za prevoznika.
- samo za voznika.
- samo za odgovorno osebo prevoznika.

43G1M2M3M4M5I

Zakon o cestah določa globe, če vozila presegajo največjo dovoljeno osno obremenitev

- samo za voznika.
- samo za odgovorno osebo prevoznika.
- za voznika, prevoznika in odgovorno osebo prevoznika.
- samo za prevoznika.

44G1M4M5P

Kolikšna je minimalna masa, širina, višina in dolžina vozila samega ali skupaj s tovorom, za katerega je potrebno dovoljenje za izredni prevoz?

45G1M4M5P

Kdo izda dovoljenje za izredni prevoz in navedite vsaj tri obvezne podatke, ki jih dovoljenje more vsebovati.

46G1M4M5P

Koliko znaša največja dovoljena masa:

a) dvoosnega motornega vozila na alternativna goriva, razen avtobusov _____

b) dvoosnega motornega vozila, razen avtobusov _____

47G1M4M5P

Vsako motorno vozilo ali skupina vozil, morajo biti sposobni voziti v krožnem pasu:

- a) z zunanjim polmerom _____ m
- b) z notranjim polmerom _____ m

49G1M4M5I

Veljavnost dovoljenja za vsak posamični izredni prevoz velja:

- največ 30 dni od dneva izdaje dovoljenja
- največ 60 dni od dneva izdaje dovoljenja
- največ pol leta od dneva izdaje dovoljenja
- največ leto dni od dneva izdaje dovoljenja

G2: Biti sposoben izbrati vozila in njihove sestavne dele (šasija, motor, prenosni mehanizem, zavorni sistem itd.) v skladu s potrebami podjetja**1G2M2M3M4M5P**

Navedite vsaj 2 dejavnika, ki vplivata na izbiro gospodarskega vozila?

2G2M2M3M4M5P

Navedite vsaj 4 tehnične karakteristike, ki so pomembne pri izbiri vozila?

3G2M2M3M4M5P

Navedite vsaj 2 prevozniki karakteristiki, ki sta pomembni pri izbiri vozila?

4G2M2M3M4M5P

Pojasnite razliko med največjo dovoljeno maso, maso in nosilnostjo vozila!

5G2M2M3M4M5I

Šasija kot sestavni del nekaterih prevoznih sredstev je

- nosilni okvir ali šasija vozila je trdno ogrodje, na katerega so pritrjeni motor, krmilni sistem, vzmetenje, preme, karoserija in drugo.
- nosilni okvir na katerem je nameščen izključno tovorni prostor vozila.
- naprava, ki služi za lažje nakladanje oz. razkladanje vozila.
- prostor - karoserija v katerem so nameščeni potniki (lahko tudi v osebnem avtomobilu).

6G2M2M3M4M5I

Naloga sklopke je

- da prenaša vrtilni moment motorja na kardansko gred.
- da prenaša vrtilni moment motorja na diferencial.
- da prenaša vrtilni moment motorja na pogonska kolesa.
- da prenaša vrtilni moment motorja na menjalnik.

7G2M2M3M4M5I

Kardanska gred

- pretvarja vrtilni moment.
- spreminja vrtilno frekvenco.
- prenaša vrtilni moment.
- je zveza med diferencialom in pogonskimi kolesi.

8G2M2M3M4M5I

Funkcija diferenciala je, da

- ustrezno porazdeli vrtilni moment na pogonska kolesa.
- zagotavlja enako hitrost vrtenja (vrtilno frekvenco) pogonskih koles.
- zagotavlja enako hitrost vrtenja (vrtilno frekvenco) vseh koles.
- zagotavlja enako hitrost vrtenja (vrtilno frekvenco) samo zadnjih koles.

9G2M2M3M4M5I

Delovanje motorja je najgospodarnejše

- v območju največjega vrtilnega momenta.
- v območju najmanjšega vrtilnega momenta.
- v območju največjih obratov motorja.
- v območju najmanjših obratov motorja.

11G2M2M3M4M5P

Katere karakteristike vozila vplivajo na izbiro pnevmatik?

13G2M2M3M4M5P

Pri nabavi vozila so pomembne njegove karakteristike. Tabeli v spodnji vrstici vpišite vsaj eno lastnost navedenih karakteristik.

Karakteristike:	Tehnične	Prevozne	Ekonomske	Eksploatacijske
Lastnost:				

14G2M2M3M4M5P

Navedite vsaj 4 ekonomske karakteristike, ki so pomembne pri izbiri vozila?

15G2M2M3M4M5P

Na razdalji 4.100 km (od Ilirske Bistrice do Stockholma in nazaj) ste potrošili 1.220 l goriva. Koliko je znašala eksploatacijska poraba goriva?

16G2M2M3M4M5P

Napišite vsaj štiri značilnosti, ki se nanašajo na tehnične karakteristike motorjev!

17G2M2M3M4M5P

Spodnje podatke, ki odražajo moč motorja pretvorite iz KW v KM in iz KM v KW

150 KW = _____ KM

200 KM = _____ KW

18G2M2M3M4M5I

Moč motorja pri vrtilni hitrosti 2.400/min je 151 kW. Pri vrtilni hitrosti 1.400 /min

- vrtilna hitrost ne vpliva na moč.
- se moč poveča.
- se moč zmanjša.
- moč ostane nespremenjena.

19G2M2M3M4M5I

Menjalnik v pogonski povezavi med sklopko in gonilom omogoča
(označite nepravilni odgovor)

- zavarovanje vozila pred premikom, če motor dela v prostem teku.
- spreminjati smer vrtenja pogonskih koles.
- spreminjanje obratov koles.
- spreminjanje vrtilne frekvence kardanske gredi.

21G2M4M5P

Katera vozila za prevoz blaga morajo imeti omejilnik hitrosti in na kolikšno hitrost mora biti nastavljen?

22G2M2M3M4M5P

Pojasnite pomen oznak na pnevmatiki!

315/35 R 21

- 315 _____
- 35 _____
- R _____
- 21 _____

23G2M2M3M4M5I

Globina kanalov dezena letnih pnevmatik gospodarskih vozil

- mora biti najmanj 2 mm.
- ni predpisana.
- mora biti 1,5 mm.
- globino predpiše za vsako vozilo proizvajalec vozila.

24G2M2M3M4M5I

Od česa je odvisna izbira moči motorja pri nabavi vozila?

- Od največje hitrosti vozila.
- Od nosilnosti vozila.
- Od uporov, ki jih mora vozilo premagovati na prevoznih poti.
- Od velikosti tovornega prostora.

25G2M2M3M4M5P

Od leta 2012 je v veljavi obvezno označevanje za pnevmatike, ki ga določa EU.



Pojasnite kaj označujejo oznake:

- C označuje _____
- A označuje _____
- 69 db označuje _____
- XL označuje _____

26G2M2M3M4M5P

Kombinirani sistem goriva (dizel – plin) omogoča motorju delovanje na mešanico goriv “dizel + plin”, pri čemer dosega znižanje stroškov in zajema tudi več drugih pozitivnih učinkov. Pojasnite kako deluje in naštejte vsaj dve prednosti, ki jih ta sistem prinaša.

G3: Poznati pravila, ki se nanašajo na homologacijo tipa, registracijo in tehnični pregled vozil**1G3M2M3M4M5P**

Kdaj se lahko novo vozilo da v promet (prodajo) in uporabo in na podlagi katere listine?

2G3M2M3M4M5I

Kaj je ES homologacija?

- Homologacija vozila je postopek ugotavljanja skladnosti, v katerem homologacijski organ ugotovi, ali tip vozila izpolnjuje ustrezne tehnične zahteve in v primeru skladnosti podeli certifikat o homologaciji tipa vozila.
- Homologacija je postopek, ki ga opravi organizacija za tehnične preglede ob postopku tehničnega pregleda.
- Homologacija je postopek, ki ga upravna enota opravi pri registraciji vozila.
- Homologacija je dokument o oznakah in opremi vozil, ki ga mora prevoznik predložiti homologacijskemu organu.

3G3M2M3M4M5I

Kdo je dolžan dati vlogo za podelitev ES homologacije?

- Proizvajalec.
- Uvoznik.
- Prodajalec vozila.
- Lastnik vozila.

4G3M2M3M4M5I

Kateri organ izvaja homologacijske postopke in posamično odobritev vozil v Republiki Sloveniji?

- Javna agencija Republike Slovenije za varnost prometa.
- Ministrstvo za notranje zadeve.
- Ministrstvo za gospodarstvo.
- Svet za preventivo in vzgojo v cestnem prometu.

5G3M2M3M4M5I

Kaj pomeni "uvoz vozila" po predpisih o ugotavljanju skladnosti vozil (homologaciji)?

- Uvoz je pridobitev vozila iz druge države članice in uvoz iz tretje države.
- Uvoz je pridobitev vozila iz države članice EU.
- Uvoz je nakup ali najem vozila, iz ene od držav, ki ni članica Evropske skupnosti.
- Uvoz je nakup vozila, izdelanega v EU.

6G3M2M3M4M5I

Kaj mora storiti oseba, ki uvozi rabljeno vozilo registrirano v državi članici EU?

- Pri strokovni organizaciji za izvajanje pregledov mora vložiti zahtevo za identifikacijo in oceno tehničnega stanja vozila.
- Na krajevno pristojni upravni enoti mora izpolniti obrazec MD 27 in na podlagi tega vozilo peljati na tehnični pregled.
- Na carinski upravi poravnati carinske dajatve in takse ter vozilo peljati na tehničen pregled.
- Pri Ministrstvu za notranje zadeve mora vložiti zahtevo za uvoz tujega vozila z obvezno predložitvijo dokumentov o registraciji v drugi državi članici EU.

7G3M2M3M4M5P

Kaj mora storiti lastnik vozila, ki izvede določene spremembe na vozilu (npr. vgradnja nekaterih sestavnih delov) in kaj, če uvozi rabljeno vozilo?

8G3M2M3M4M5P

Kdo so registrske organizacije, ki opravljajo registracijo vozil in kdo jih je pooblastil za izvajanje teh nalog?

9G3M2M3M4M5I

Na čigav predlog se registrira vozilo?

- Na predlog lastnika vozila.
- Na predlog uporabnika vozila.
- Na predlog posestnika vozila.
- Na predlog kupca vozila.

10G3M2M3M4M5P

Katera dokazila je potrebno priložiti predlogu za registracijo vozila?

11G3M2M3M4M5I

Kako se registrira vozilo, ki je v lasti več oseb?

- Če je vozilo v lasti več oseb, se registrira na osebo, ki jo določijo vsi solastniki s pisnim soglasjem.
- Lahko se registrira na več oseb s pogojem, da na vozilo izkazujejo skupno lastništvo.
- Takega vozila ni mogoče registrirati, kajti pravica lastništva nad vozilom je nedeljiva.
- Registrira se na ime osebe, ki izkaže posest nad vozilom.

12G3M2M3M4M5I

Na koga se lahko registrira vozilo, ki je predmet pogodbe o leasingu ali pogodbe o zakupu?

- Lahko se registrira na ime uporabnika vozila, če lastnik vozila da pisno soglasje.
- Lahko se registrira na uporabnika vozila, če se uporabnik izkaže z odločbo upravne enote.
- Ne more se registrirati na uporabnika ali posestnika vozila, ker pogodba o leasingu ali pogodba o zakupu ne dovoljujeta prenosa pravica uporabe.
- Lahko se brezpogojno registrira na posestnika vozila.

13G3M2M3M4M5P

Kdo izda prometno dovoljenje?

14G3M2M3M4M5P

V kolikih dneh in komu je potrebno sporočiti spremembe podatkov v prometnem dovoljenju? Kaj je potrebno predložiti in kdo sporoči spremembe?

15G3M2M3M4M5P

Pogrešate prometno dovoljenje. Želite novo. Kako boste to storili (koga zaprosite in kako)?

16G3M2M3M4M5P

Kaj morate priložiti predlogu za spremembo lastništva vozila in spremembo podatkov o lastniku vozila? Kaj mora v postopku spremembe lastništva ugotavljati registrska organizacija?

17G3M2M3M4M5P

Kakšna dokazila je potrebno priložiti predlogu za odjavo vozila?

18G3M2M3M4M5P

Kaj mora lastnik vozila, ki je izrabljeno po predpisih o varstvu okolja, storiti ob odjavi vozila in kaj pri taki odjavi naredi registrska organizacija?

19G3M2M3M4M5I

Ali se lahko izda preizkusne tablice in potrdilo za preizkusno vožnjo za vozilo, ki ni obvezno zavarovano?

- Ne.
- Da.
- Da, s pisnim dovoljenjem lastnika vozila.
- Da, s pogojem da je bilo vozilo pred tem zavarovano v eni od držav članic EU in je zavarovanje že preteklo.

20G3M2M3M4M5I

Tehnični pregled motornega vozila je postopek, v katerem organizacija za tehnične preglede ugotavlja:

(označite nepravilni odgovor)

- podatke o vozilu.
- stanje naprav in opreme vozil.
- izpolnjevanje drugih pogojev za vozilo.
- lastništvo vozila.

21G3M2M3M4M5I

Stranka je pripeljala na tehnični pregled vozilo. Po domnevi kontrolorja, ki je izvajal tehnični pregled, je bila listina za vozilo ponarejena. Kako mora ravnati kontrolor v takih primerih?

- Kontrolor opravi tehnični pregled, svoj sum pa poda najbližji policijski postaji.
- Kontrolorjeva dolžnost je samo pregledati vozilo.
- Kontrolor zavrne pregled vozila.
- Kontrolor mora vse razloge za sum o neizvirnosti listine in druge ugotovitve v zvezi s tem takoj sporočiti nadrejeni osebi.

23G3M4M5P

Katere vrste tehničnih pregledov poznate in kdaj se morajo opravljati redni tehnični pregledi tovornih in priklopnih vozil?

24G3M2M3M4M5P

Katere pogoje mora izpolnjevati motorno in priklopno vozilo za udeležbo v cestnem prometu?

25G3M2M3M4M5P

Katere dokumente se izda za registrirano vozilo?

26G3M2M3M4M5I

Za koliko časa se izdajo preizkusne tablice?

- Za največ 5 dni.
- Za največ 3 dni.
- Za največ 6 dni.
- Za največ 7 dni.

G4: Razumeti, kakšni ukrepi so potrebni za zmanjšanje emisij hrupa in odpravljanje onesnaževanja zraka zaradi emisij izpušnih plinov motornih vozil**1G4M2M3M4M5P**

Navedite pomanjkljivosti dizelskega motorja z vidika vpliva na okolje (emisije izpušnih plinov) v primerjavi z bencinskim motorjem!

2G4M2M3M4M5P

Katera je bistvena razlika med bencinskim in dizel motorjem in katera je bistvena lastnost goriv, ki ju uporabljata?

3G4M2M3M4M5P

Navedite štiri človeku nevarne sestavine izpušnih plinov!

4G4M2M3M4M5P

Škodljive snovi v izpušnih plinih imajo negativne vplive na okolje in zdravje ljudi. Navedite dva bistvena vpliva na okolje in dva na zdravje ljudi!

5G4M2M3M4M5P

S katerimi ukrepi kot prevoznik lahko vplivate na zmanjšanje negativnega vpliva prometa na okolje? Naštejte vsaj 4.

6G4M4M5P

Kaj je funkcija OBD sistema in kateri predpis ga določa?

7G4M2M3M4M5I

Emisijski standard EURO 6 določa za težka gospodarska vozila naslednje dovoljene emisije NO_x (v mg/kWh) :

- 2
- 0,4
- 3,5
- 5

8G4M2M3M4M5I

Največja dovoljena raven hrupa vozil med vožnjo, ki jo določa tehnična specifikacija, je odvisna od **(označite nepravilni odgovor)**

- vrste vozila.
- moči motorja.
- največje dovoljene mase.
- hitrosti vozila med vožnjo.

9G4M2M3M4M5I

Emisijski standard EURO 6 za težka gospodarska vozila določa naslednje dovoljene vrednosti emisij trdnih delcev v izpušnih plinih (v mg/kWh) :

- 0,03
- 0,02
- 0,01
- 0,1

10G4M2M3M4M5P

Kaj so EURO emisijski standardi in kateri predpisi jih določajo?

12G4M4M5P

Kolikšna je dovoljena raven hrupa, ki jo povzroča tovorno vozilo z največjo dovoljeno maso nad 3,5 t med vožnjo in kolikšna na pnevmatikah?

13G4M2M3M4M5P

Katere naprave omogočajo, da vozila dosegajo emisijske standarde? Naštete vsaj 4.

14G4M2M3M4M5P

Kakšna je funkcija katalizatorja in katero sredstvo to pospešuje?

15G4M2M3M4M5P

Opišite funkcijo EGR sistema!

16G4M2M3M4M5P

Emisije določenih onesnaževal v izpušnih plinih niso odvisne samo od količine porabljenega goriva, ampak so odvisne tudi od drugih dejavnikov. Navedite vsaj štiri dejavnike.

17G4M2M3M4M5P

Katere informacije podaja OBD2 oz. EOBD? Navedite vsaj 4!

18G4M2M3M4M5P

Izračunajte koliko ogljikovega dioksida (CO₂) sprosti v ozračje vozilo, ki letno prevozi 150.000 km pri povprečni porabi 24 l na 100 prevoženih kilometrov. Pri zgorevanju 1 l dizelskega goriva nastane 2,66 kg CO₂.

G5: Biti sposoben sestaviti načrte rednega vzdrževanja vozil in njihove opreme

1G5M2M3M4M5P

Pojasnite preventivno vzdrževanje vozil (kdaj se opravlja, kaj obsega...)?

2G5M2M3M4M5P

Pojasnite tekoče vzdrževanje vozil (kdaj, kaj obsega,...)?

3G5M2M3M4M5P

Kaj obsega investicijsko vzdrževanje vozil in kdaj ni smotrno?

4G5M2M3M4M5P

Naštejte vsaj štiri opravila, ki spadajo v dnevni pregled vozila!

G6: Poznati različne vrste naprav za ravnanje s tovorom in naprav za natovarjanje (kesoni, zabojniki, palete itd.) in biti sposoben uvesti postopke in izdati navodila za nakladanje in razkladanje blaga (razporeditev teže, zlaganje, nalaganje, blokiranje in zagraditev tovora itd.)

1G6**M4M5P**

Navedite mersko enoto za maso in za silo teže?

Masa: _____, Sila teže: _____

2G6**M4M5I**

Za privezovanje tovora uporabite oprtnico s kapaciteto $LC = 1.600$ daN. Kolikšna je masa, s katero se lahko obremeni oprtnica?

- 1.600 kg
- 400 kg
- 800 kg
- 3.200 kg

3G6**M4M5I**

Legi težišča tovora za posamezno vozilo je odvisna od

- vozilo je tako konstruirano, da mora biti težišče tovora v geometrijskem središču tovarne ploščadi in da masa tovora ne sme presegati največje dovoljene mase.
- največje dovoljene mase.
- dovoljenih osnih obremenitev.
- največje dovoljene mase in dovoljenih osnih obremenitev.

4G6**M4M5P**

Nabavili ste novo vozilo. Izdelati morate "načrt razporeditve tovora". Katere podatke potrebujete?

5G6**M4M5S**

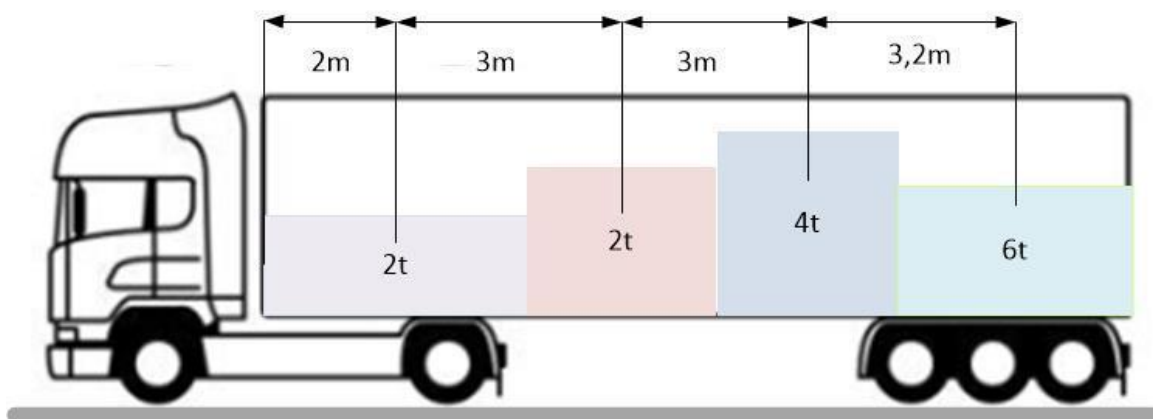
Razpolagate z vozilom z 6,5 m dolgo nakladalno ploščadjo in nosilnostjo 16 ton. Proizvajalec vozila vam je posredoval podatek, da je stabilnost vozila zagotovljena, če je težišče tovora od prednje stene oddaljeno 3,5 m. Kako bi naložili na vozilo tovor kvadraste oblike z dolžino 4 m, če je masa tovora enaka nosilnosti vozila? Narišite skico in izračunajte razdaljo tovora od prednje stene vozila!

6G6M4M5P

Napišite navodila, ki jih boste dali vozniku za razporeditev tovora na tovorno ploščad!

7G6M4M5S

Razporeditev tovora na vozilu je pomembna zaradi upoštevanja obremenitev osi in varne vožnje. Na sliki imate podatke o tovoru (mase in razdalje težišč posameznih tovorov od prednje stene vozila. Izračunajte razdaljo težišča celotnega tovora od prednje stene vozila, če mora biti tovor enakomerno porazdeljen po tovarni površini! Prikažite potek izračuna.



8G6M4M5P

Kaj je transportna enota in katere transportne enote so običajne v cestnem transportu blaga?

9G6M4M5P

Opišite transportno in informacijsko funkcijo embalaže!

10G6M4M5I

EURO ravna lesena paleta ima naslednje karakteristike:

(označite nepravilni odgovor)

- 1.200 mm x 800 mm,
- 1.200 mm x 1.000 mm,
- višino 144 mm,
- težo 25 kg.

11G6M4M5P

Koliko tovora lahko naložite na EURO- EPAL1 paletu in koliko znaša njena širina in dolžina?

12G6M4M5I

Organizirate prevoz paletiziranega blaga. Katere podatke potrebujete, da boste izbrali primerno vozilo?

(označite nepravilni odgovor)

- Težo blaga na paleti.
- Število palet.
- Dimenzije palet.
- Bruto teža palet.

13G6M4M5S

Na EURO-EPAL1 lesene palete morate zložiti izdelke kvadraste oblike (dolžina 1,2 m, širina 0,2 m in višina 0,2 m) z maso 75 kg. Naložene palete je potrebno odpeljati z vozilom nosilnosti 10 t in z merami tovornega prostora 6 m x 2,4 m.

Izračunajte:

1. največjo število izdelkov, ki jih lahko naložite na paletu,
2. težo naložene palete,
3. število polnih palet, ki jih lahko naložimo na vozilo,
4. število izdelkov, ki jih prepeljemo v eni vožnji in
5. skicirajte razporeditev palet na tovornem prostoru

14G6M4M5P

Kako delimo kontejnerje po namenu uporabe?

15G6M4M5I

Po ISO standardih se dimenzije kontejnerjev izražajo v čevljih – ft. 1 ft je

- enota za prostornino kontejnerja.
- enota za težo kontejnerja.
- enota za bruto težo kontejnerja.
- 0,3048 m.

16G6M4M5I

Po ISO standardih ima 20 ft kontejner naslednje karakteristike
(označite nepravilni odgovor)

- bruto maso 30 ton,
- širino 2,44 m,
- bruto maso 24 ton,
- dolžino 6,10 m.

17G6M4M5I

TEU je

- kratica za transportno enoto.
- kratica za mersko enoto tovora v 20 ft kontejnerju.
- kratica za prostornino kontejnerja.
- kratica za transportne enote v multimodalnem transportu.

18G6M4M5I

1 TEU označuje kontejner velikosti:

- 10 ft.
- 40 ft.
- 45 ft.
- 20 ft.

19G6M4M5P

Pojasnite pomen črk in števil v oznaki kontejnerja, npr. 45G1 in navedite širino kontejnerjev!

20G6M4M5S

Koliko kontejnerjev delovnega parka potrebujete, če kontejnerji vsebujejo povprečno 15 t tovora in morate v enem letu (305 delovnih dni) prepeljati 6.500 t blaga? Kontejnerji opravijo letno povprečno 20 obtekov. Neenakomernost dotekanja tovora v kontejnerizacijo znaša 10 %. Izračunajte tudi čas obteka kontejnerja!

21G6M4M5S

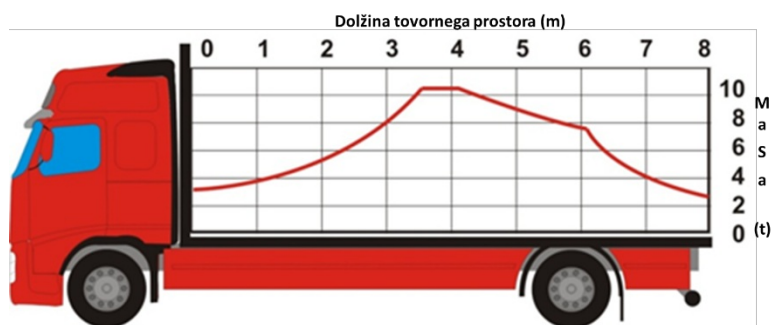
Napišite primer navodila vozniku za pripravo vozila pred nakladanjem in za nakladanje pri prevzemu tovora v prevoz!

22G6M4M5S

Izračunajte koliko palet potrebujemo, da bomo v enem letu, ki obsega 330 delovnih dni, odpremili 1.200 t blaga, ki doteka na paletizacijo s 5% neenakomernostjo. Vsaka paleta bo v povprečju obremenjena s 500 kg tovora. Čas obteka palete znaša 10 dni.

23G6M4M5P

Iz krivulje obremenitve (nakladalne krivulje) tovornega vozila, določite največjo možno obremenitev vozila in razdaljo težišča največje obremenitve.

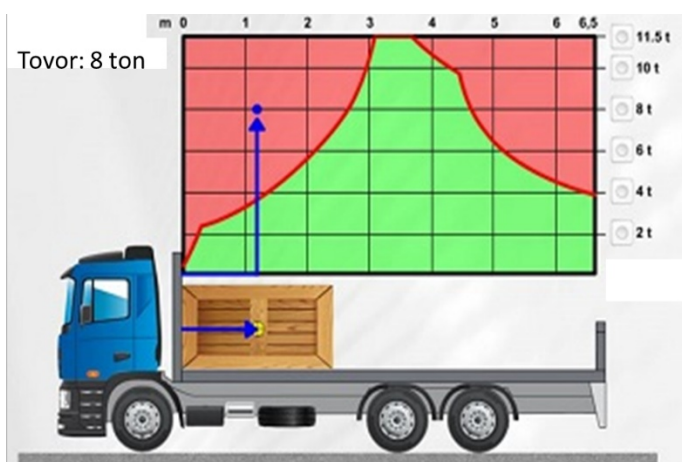


Težišče največje možne obremenitve je na razdalji _____ m.

Največja možna obremenitev znaša _____ t.

24G6M4M5I

Tovor je na tovornjaku s slike postavljen:



- Nepravilno, zato ker mora biti težišče tovara na razdalji med 2,8 in 4,6 m.
- Pravilno, ker je postavljen neposredno na čelno stranico tovornega prostora.
- Nepravilno, ker mora biti na tovornem prostoru postavljen v pokončnem položaju.
- Nepravilno, zato ker mora biti težišče tovara na razdalji med 3 in 3,8 m.

25G6M4M5P

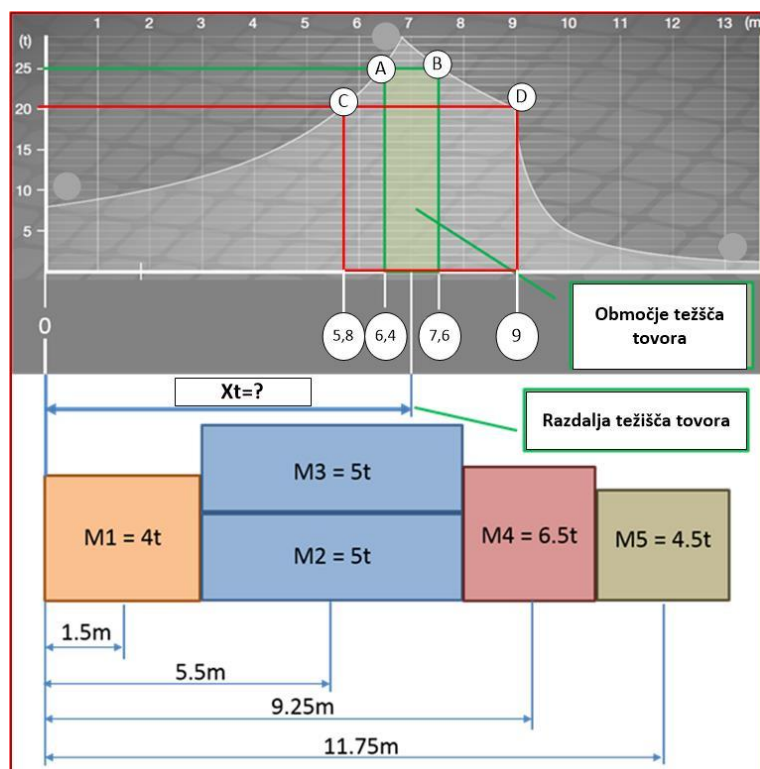
Opišite vlogo oz. namen in lastnosti transportne (terciarno) embalaže.

26G6M4M5P

Pojasnite enoto transporta »FEU« in navedite koliko TEU-jev predstavlja FEU?

27G6M4M5S

Pojasnite nakladalno krivuljo, ki je prikazana na sliki in izračunajte razdaljo lege težišča tovora ter skupno maso, če je masa vozila 5 t. Iz grafa nakladalne krivulje razberite območje postavitve težišča tovora s skupno maso tovora iz skice in razberite območje težišča tovora, če bi skupna masa tovor znašala 20 t.



G7: Poznati različne tehnike kombiniranega prevoza, kot so oprtni prevoz in ro-ro prevoz**1G7M4M5P**

Opišite RO – RO transportno tehnologijo!

2G7M4M5P

Opišite LO – LO transportno tehnologijo!

3G7M4M5I

Oprtni sistem transporta je

- prevoz železniških vagonov po cesti.
- transportni sistem železnica – ladja.
- kombiniran transport cesta – ladja.
- kombiniran transport cesta – železnica.

4G7M4M5I

Oprtni sistem tehnologije »A« je

- prevoz priklopnikov ali polpriklopnikov na železniškem vagonu brez vlečnega vozila. Voznik ne spremlja prevoza.
- prevoz zgornjega dela priklopnika ali polpriklopnika (zamenljivega tovarišča) na železniškem vagonu. Voznik ne spremlja prevoza.
- prevoz priklopnikov ali polpriklopnikov na železniškem vagonu brez vlečnega vozila. Prevoz spremlja voznik.
- prevoz cestnega vozila na železniškem vagonu. Prevoz spremlja voznik.

5G7M4M5I

Oprtni sistem tehnologije »B« je:

- prevoz cestnega vozila na železniškem vagonu. Prevoz spremlja voznik.
- prevoz priklopnikov ali polpriklopnikov na železniškem vagonu brez vlečnega vozila. Prevoz spremlja voznik.
- prevoz zgornjega dela priklopnika ali polpriklopnika (zamenljivega tovarišča) na železniškem vagonu. Voznik ne spremlja prevoza.
- prevoz priklopnikov ali polpriklopnikov z železniškimi vagoni. Voznik ne spremlja prevoza.

6G7M4M5I

Oprtni sistem tehnologije »C« je

- prevoz priklopnikov ali polpriklopnikov na železniškem vagonu brez vlečnega vozila. Voznik ne spremlja prevoza.
- prevoz tovarne nadgradnje cestnega vozila (zamenljivega tovarišča) z železniškimi vagoni. Voznik ne spremlja prevoza.
- prevoz priklopnikov ali polpriklopnikov na železniškem vagonu brez vlečnega vozila. Prevoz spremlja voznik.
- prevoz cestnega vozila na železniškem vagonu. Prevoz spremlja voznik.

7G7M4M5P

Opišite bimodalno transportno tehnologijo!

G8: Biti sposoben izvajati postopke za uskladitev s pravili o prevozu nevarnih snovi in odpadkov

2G8M4M5P

Naštejte vsaj štiri vrste nevarnega blaga, za katere veljajo predpisi o prevozu nevarnega blaga!

3G8M4M5I

Za prevoz nevarnega blaga se lahko uporablja vozilo, ki
(označite nepravilen odgovor)

- je izdelano in opremljeno po predpisih ADR.
- je pregledano in je zanj izdano potrdilo (certifikat), če to določajo predpisi ADR.
- je označeno z opozorilnimi tablami, napisi, oznakami (nalepkami) za označevanje nevarnosti in drugimi informacijami o nevarnem blagu in vozilu, kot določajo predpisi ADR.
- ima tehnični pregled vsaki dve leti.

4G8M4M5P

Kakšna je in kateri podatki so na opozorilni tabli na vozilu za prevoz nevarnega blaga?

5G8M4M5P

Naštejte vsaj štiri primere opreme, ki spadajo k vozilu, ki prevažata nevarno blago!

6G8M4M5I

Vozila za prevoz cistern z nevarnim blagom morajo na pregled glede izpolnjevanja predpisov

- vsakih šest mesecev.
- vsako leto.
- vsaki dve leti.
- samo ob prvi registraciji.

7G8M4M5I

Prevažate nevarno blago. Dovoljenje, ki ga izda pristojni minister, je potrebno

- za vse prevoze nevarnih snovi v mednarodnem prometu.
- za prevoz eksplozivnih snovi v mednarodnem prometu.
- za manjše količine eksplozivnih snovi.
- za prevoz nevarnih snovi, ki jih prevažata Slovenska vojska za lastne potrebe.

8G8M4M5I

Pošiljatelj nevarnega blaga je odgovoren

(označite nepravilen odgovor)

- za predpisano embalažo.
- za označevanje tovorkov.
- za navodila za varno natovarjanje in ravnanje s tovorom ter pravilno ukrepanje ob nesreči.
- za izbiro vozila, ki ustreza predpisom ADR.

9G8M4M5P

Katere podatke o nevarnem blagu mora vsebovati spremna listina?

10G8M4M5I

Kdo je lahko voznik vozila za prevoz nevarnega blaga?

- Oseba z veljavnim certifikatom o strokovni usposobljenosti, ki je dopolnila 21 let.
- Oseba z vozniškim dovoljenjem C kategorije, ki je dopolnila 18 let.
- Oseba z vozniškim dovoljenjem C kategorije, ki je dopolnila 21 let.
- Oseba z veljavnim certifikatom o strokovni usposobljenosti.

11G8M4M5P

Naštete najmanj štiri pogoje, ki jih mora izpolnjevati prevoznik, da lahko prevažata nevarno blago!

12G8M4M5P

Naštejte vsaj štiri dolžnosti pošiljatelja (naročnika prevoza) nevarnega blaga!

13G8M4M5P

Naštejte vsaj štiri dolžnosti prevoznika nevarnega blaga!

14G8M4M5P

Naštejte vsaj štiri dolžnosti voznika nevarnega blaga!

15G8M4M5I

V koliko razredov razvrščamo nevarno blago po ADR?

- 13 razredov.
- 5 razredov.
- 7 razredov.
- 9 razredov.

16G8M4M5P

Naštejte vsaj štiri primere zaščitne opreme za posadko pri prevozu nevarnega blaga!

G10: Biti sposoben izvajati postopke za uskladitev s pravili o prevozu živih živali**1G10M4M5I**

Prevoz živih živali ne ureja

- Zakon o zaščiti živali.
- Uredba Sveta o zaščiti živali med prevozom.
- Zakon o prevozih v cestnem prometu.
- Pravilnik o zaščiti živali med prevozom.

2G10M4M5I

"Načrt poti" oziroma dnevnik vožnje po Uredbi Sveta o zaščiti živali med prevozom je potreben

- za vse prevoze živali v notranjem in mednarodnem prometu.
- za prevoze živali v mednarodnem prometu.
- za prevoze, ki trajajo več kot 8 ur.
- za prevoze v notranjem prometu, ki trajajo več kot 8 ur in vse prevoze v mednarodnem prometu.

3G10M4M5P

Katere so bistvene informacije, ki jih vsebuje "načrt poti" po predpisih o prevozu živih živali? Naštejte vsaj štiri tiste, ki so po vašem mnenju pomembne za kontrolo prevoza v skladu s predpisi!

4G10M4M5P

V katerih primerih mora prevoznik izdelati načrt poti o prevozu živih živali in koliko časa ga mora hraniti?

5G10M4M5P

Naštejte vsaj štiri pogoje, ki jih morajo izpolnjevati vozila za prevoz živih živali na vožnjah daljših od 8 ur.

6G10M4M5P

Kateri so splošni pogoji, ki jih mora zagotoviti prevoznik po Pravilniku o pogojih in načinu prevoza živali? Naštejte vsaj 4, ki so pomembni za prevoznika!

7G10M4M5P

Kdaj ni potreben spremljevalec pri prevozu živali?

8G10M4M5P

Kaj mora zagotoviti naročnik prevoza živali pred začetkom prevoza?

Predmet H: Varnost v cestnem prometu

H1: Vedeti, kakšna usposobljenost se zahteva od voznikov (vozniško dovoljenje, zdravniška spričevala, potrdilo o fizični pripravljenosti itd.)

1H1M2M3M4M5I

Razvrstitev voznških dovoljenj glede na kategorijo vozila določa

- Zakon o voznikih v skladu z Direktivo EU o voznških dovoljenjih.
- Pravilnik o voznških dovoljenjih.
- Zakon o prevozih v cestnem prometu.
- Pravilnik o notranji kontroli.

2H1M2M3M4M5I

Vozniško dovoljenje B kategorije je

- dovoljenje za vožnjo motornega vozila, katerega največja dovoljena masa ne presega 3500 kg in poleg sedeža za voznika nima več kot osem sedežev, z možnostjo uporabe lahkega priklopnika in vožnjo mopeda do 50cm³ in hitrosti do 45 km/h
- dovoljenje za vožnjo osebnega avtomobila.
- dovoljenje za vožnjo motornega vozila, katerega največja dovoljena masa ne presega 3.500 kg.
- dovoljenje za vožnjo motornega vozila, ki poleg sedeža za voznika nima več kot osem sedežev.

4H1M4M5P

Po Zakonu o voznikih:

- se za motorna vozila, katerih največja dovoljena masa presega 3.500 kg in poleg sedeža za voznika nimajo več kot osem sedežev izda voznško dovoljenje _____ kategorije
- se za motorna vozila, katerih največja dovoljena masa presega 3.500 kg in ne presega 7.500 kg in poleg sedeža za voznika nimajo več kot osem izda voznško dovoljenje _____ kategorije

6H1M4M5P

Po Zakonu o voznikih mora imeti voznik dopolnjeno starost:

- za vozila kategorije C1 _____ let
- za vozila kategorije C _____ let

8H1M4M5I

Dokazilo o ustrezni strokovni usposobljenosti voznika je

- izkaznica o voznških kvalifikacijah ali voznško dovoljenje s kodo Skupnosti.
- voznško dovoljenje C kategorije.
- spričevalo o zaključeni ustrezni poklicni šoli.
- certifikat o nacionalni poklicni kvalifikaciji za voznika.

9H1M2M3M4M5I

Tujec, ki ima na podlagi dovoljenja za prebivanje v Republiki Sloveniji prijavljeno prebivališče, sme voziti:
(označite nepravilni odgovor)

- če ima veljavno voznško dovoljenje izdano v tujini in sicer eno leto od dneva prijave prebivališča v RS.
- če ima veljavno voznško dovoljenje izdano v tujini.
- če ima slovensko voznško dovoljenje.
- če ima mednarodno voznško dovoljenje.

10H1M2M3M4M5I

Roke za preventivne (obdobne) zdravstvene preglede voznikov določa

- niso določeni.
- pooblaščen zdravnik.
- delodajalec na podlagi ocene tveganja.
- republiški predpis.

11H1M2M3M4M5P

Naštejte vrste zdravstvenih pregledov, ki so za voznike obvezni in kdaj jih morajo vozniki opraviti?

12H1M2M3M4M5P

Kdo lahko po Zakonu o voznikih predlaga napotitev na kontrolni zdravstveni pregled? Naštejte vsaj 4!

13H1M2M3M4M5P

Naštejte vsaj štiri učinke alkohola na sposobnosti, ki so pomembne za varno vožnjo!

14H1M2M3M4M5P

Naštejte snovi, pod vplivom katerih je vožnja prepovedana? Kolikšna je dovoljena količina alkohola v krvi poklicnega voznika, ko ta opravlja svojo dejavnost? Katere so sankcije, če voznik tega ne upošteva?

15H1M2M3M4M5P

Napišite splošne pogoje za udeležbo voznikov motornih vozil v cestnem prometu, ki jih določa Zakon o voznikih!

16H1M2M3M4M5P

V katerih primerih se po Zakonu o voznikih šteje, da voznik ni zmožen varno voziti in kaj lahko naredi delodajalec v tem primeru?

H2: Biti sposoben izvesti potrebne korake za zagotovitev, da vozniki spoštujejo prometna pravila, prepovedi in omejitve (omejitve hitrosti, čakalni in parkirne omejitve, uporaba luči, cestna signalizacija itd.)

1H2M2M3M4M5I

Največja dovoljena hitrost vozila je?

(označite nepravilni odgovor)

- Na cestah v naselju 50 km/h.
- V območju omejene hitrosti 30 km/h.
- V območju umirjenega prometa in v območju za pešce 10 km/h.
- Na avtocestah 130 km/h za vsa vozila.

2H2M2M3M4M5I

Na cestah zunaj naselja je največja dovoljena hitrost omejena za vsa vozila na:

(označite nepravilni odgovor)

- 130 km/h na avtocestah.
- 110 km/h na hitrih cestah.
- 90 km/h na ostalih cestah.
- 90 km/h za vsa motorna vozila z največjo dovoljeno maso nad 3,5 tone.

3H2M2M3M4M5I

Kolikšna je omejitev hitrosti na cestah izven naselja za motorna vozila z največjo dovoljeno maso nad 3.500 kg?

- 80 km/h.
- 70 km/h.
- 90 km/h.
- 60 km/h.

4H2M2M3M4M5I

Kolikšna je omejitev hitrosti na cestah izven naselja za motorna vozila z največjo dovoljeno maso nad 3.500 kg, ki vlečejo priklopno vozilo?

- 70 km/h.
- 80 km/h.
- 90 km/h.
- 60 km/h.

5H2M2M3M4M5I

Kolikšna je omejitev hitrosti na avtocestah za motorna vozila s priklopniki?

- 80 km/h.
- 90 km/h.
- 100 km/h.
- 70 km/h.

6H2M4M5I

Kolikšna je omejitev hitrosti na avtocestah za tovorna vozila, katerih največja dovoljena masa presega 3,5 tone, če imajo to vpisano v prometnem dovoljenju?

- 90 km/h.
- 100 km/h.
- 80 km/h.
- 110 km/h.

8H2M2M3M4M5P

Kakšne so sankcije za prekoračitev s prometnim pravilom ali prometnim znakom omejitve hitrosti in od česa so odvisne?

9H2M2M3M4M5P

Kako mora biti označeno motorno vozilo in kako skupina vozil, ki obstane na cesti zaradi okvare, prometne nesreče ali drugega vzroka?

10H2M2M3M4M5P

Naštejte vsaj 4 najpogostejše kršitve prometnih pravil, ki so po statistiki policije najpogostejši vzroki prometnih nesreč!

11H2M2M3M4M5P

Od česa je odvisna varnostna razdalja? Kolikšna je minimalna varnostna razdalja, če vozilo vozi v počasni koloni? Izračunajte minimalno varnostno razdaljo, če je vozilo v počasni koloni in je hitrost vozila 30km/h?

13H2M2M3M4M5I

Prevoznik:

(označite nepravilni odgovor)

- je obvezan voditi evidence o hujših prometnih prekrških voznikov.
- je obvezan analizirati podatke o hujših prometnih prekrških.
- je obvezan izvesti programe obnavljanja in dopolnjevanja znanja z namenom, da se število hujših prometnih prekrškov zmanjša.
- ni obvezan analizirati prometnih prekrškov in sprejemati ukrepov za njihovo zmanjševanje, ker morajo za to skrbeti represivni organi.

14H2M4I

Pod kakšnimi pogoji lahko voznik razloži tovor tako, da ovira kolesarje na kolesarski stezi?

- če ima dovoljenje lokalne skupnosti
- če pravilno označi ustavljeno vozilo
- če ustavitev vozila na vozišču ni prepovedana s prometnim znakom
- če s prevozno dokumentacijo lahko dokaže, da je moral izvršiti naročilo

H3: Biti sposoben sestaviti vozniška navodila za preverjanje skladnosti z varnostnimi zahtevami, ki se nanašajo na stanje vozil, njihovo opremo in obvezne preventivne ukrepe**1H3M4M5P**

Pravilnik o nalaganju in pritrjevanju tovora v cestnem prometu določa način namestitve, pritrditve in zavarovanja tovora. Kako mora biti naložen, pritrjen in zavarovan tovor med prevozom v cestnem prometu?

2H3M4M5S

S cestnim vozilom morate ob zmanjšani vidljivosti prepeljati 11,5 m dolgi tovor kvadraste oblike na tovornem vozilu z dolžino nakladišča 10,4 m.

1. Opišite določbe Zakona o pravilih cestnega prometa, ki jih morate upoštevati pri naložitvi tovora.
2. Narišite skico, ki prikazuje naložitev tovora v skladu z navedenim zakonom in z izračunom utemeljite ustrezno dolžino nakladišča.
3. Opišite označbo tovora v skladu z navedenim zakonom.

3H3M2M3M4M5P

S kakšnimi pnevmatikami morajo biti opremljena vozila?

5H3M2M3M4M5P

Kdaj se po Zakonu o motornih vozilih smatra, da je vozilo v cestnem prometu tehnično brezhibno in kdo na cesti nadzira tehnično brezhibnost gospodarskih vozil?

6H3M2M3M4M5P

Naštejte vsaj tri vrste pregledov, ki jih lahko izvede policija ali prometni inšpektor pri nadzoru tehnične brezhibnosti gospodarskih vozil na cesti in ukrepe, ki jih lahko izreče!

7H3M4M5P

Kakšna je dolžnost voznika ob prevzemu tovora? Kaj lahko naredi voznik, če tovor ni ustrezno pakiran?

H4: Biti sposoben določiti postopke, ki jih je treba upoštevati ob nesreči in izvesti primerne postopke za preprečitev ponavljanja nesreč ali resnih prometnih prekrškov

1H4M2M3M4M5I

Kdo je dolžan pomagati v primeru prometne nesreče?

- Vsakdo, ki je seznanjen s prometno nesrečo.
- Samo povzročitelj prometne nesreče.
- Samo udeleženci prometne nesreče.
- Samo policisti.

2H4M2M3M4M5I

Na koliko kategorij, glede na posledice, se delijo prometne nesreče?

- Obstaja samo ena kategorija prometnih nesreč.
- Na dve: smrtne in z materialno škodo.
- Na tri: smrtne, z materialno škodo in z telesnimi poškodbami.
- Na štiri: samo materialna škoda, lahka telesna poškodba, huda telesna poškodba, smrtna.

3H4M2M3M4M5I

Ali lahko udeleženci prometne nesreče 1. kategorije (materialna škoda) umaknejo vozila iz vozišča pred prihodom policije?

- Da, nemudoma morajo vozilo umakniti z vozišča ceste.
- Ne, ker v nobenem primeru ni dovoljeno premikati vozil po prometni nesreči.
- Ne, ker se vozila lahko poškodujejo.
- Samo v primeru, če ovirajo promet.

4H4M2M3M4M5I

Ali je udeleženec prometne nesreče dolžan počakati na kraju prometne nesreče?

- Udeleženec je dolžan ostati na kraju nesreče dokler ni končan ogled prometne nesreče.
- Udeležencu ni potrebno ostati, če je prišlo le do materialne škode.
- Udeležencu ni potrebno ostati, če utrpi lažje telesne poškodbe in mora poiskati zdravniško pomoč v najbližjem zdravstvenem domu.
- Udeleženec sam odloči ali bo ostal.

5H4M2M3M4M5P

Ste udeleženi v prometni nesreči tretje kategorije, vendar niste poškodovani.
Napišite vrstni red aktivnosti, ki ste jih dolžni storiti na kraju prometne nesreče.

6H4M2M3M4M5I

Katera izmed navedenih dolžnosti **ni** predpisana za udeležence nesreče I. kategorije:

- ustaviti avto,
- zavarovati in označiti kraj nesreče,
- obvestiti policijo,
- soudeležnim ali oškodovanim v prometni nesreči posredovati podatke iz vozniškega dovoljenja in obveznega zavarovanja ali izpolniti Evropsko poročilo o prometni nesreči.

7H4M2M3M4M5P

O čem mora prevoznik poučiti voznike v zvezi z njihovimi dolžnostmi v primeru prometne nesreče?

8H4M2M3M4M5I

Katere evidence bi po vašem mnenju moral voditi prevoznik, da bi lahko pripravljaj analize in ukrepe za zmanjševanje števila hujših prekrškov voznikov in prometnih nesreč?

(označite nepravilni odgovor)

- O številu prometnih nesreč po posledicah (kategorijah).
- O vzrokih prometnih nesreč.
- O prekrških prometnih pravil voznikov.
- Evidenc mu ni potrebno voditi, pač pa pripravlja ukrepe na podlagi poročil policije.

9H4M2M3M4M5P

Prevoznik je zbral podatke o številu prometnih nesreč, v katerih so bili udeleženi vozniki (glej tabelo).

Leto	Št. nesreč	Število nesreč po posledicah		
		s smrtnim izidom	s telesno poškodbo	z materialno škodo
1. leto	25	0	13	12
2. leto	18	0	7	11

Izračunajte parameter, na podlagi katerega boste interpretirali odstotno spremembo števila prometnih nesreč in ga vpišite v osenčeno celico tabele ter dopolnite naslednji odgovor: Število prometnih nesreč se je zmanjšalo za _____ %.

10H4M2M3M4M5P

Prevoznik je zbral podatke o vzrokih prometnih nesreč, v katerih so bili udeleženi vozniki in so udeleženci utrpeli hude ali lažje telesne poškodbe (glej tabelo):

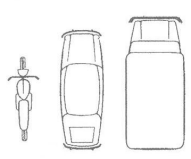
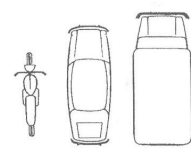
Vzroki prometnih nesreč	Število hudo poškodovanih	Število lažje poškodovanih	
Neprilagojena hitrost	3	12	
Nepravilna stran oz. smer vožnje	0	5	
Neustrezna varnostna razdalja	0	10	
Neupoštevanje pravil prednosti	0	2	
Nepravilno prehitevanje	0	4	
Nepravilni premiki z vozilom	0	25	
Nepravilnosti pešcev	0	2	
Drugo	0	1	
SKUPAJ	3	61	

Izračunajte delež udeležencev s telesnimi poškodbami v prometnih nesrečah, ki so nastale zaradi nepravilnosti premika vozila in vpišite rezultat v osenčeno celico tabele!

Kakšen ukrep bi sprejeli, da bi zmanjšali število kršitev prometnih pravil, ki so po podatkih iz zgornje tabele pogosti vzroki prometnih nesreč?

11H4M2M3M4M5P

Izpolnite označena polja Evropskega poročila o prometni nesreči le z materialno škodo. Vrsto prekrška, ki je vzrok prometne nesreče (skica prometne nesreče) in posledice (poškodbe vozila) sami določite.

<div style="border: 1px solid black; padding: 2px; display: inline-block;"> 13. Skica prometne nesreče 13. </div> <p style="font-size: small; margin: 0;">Označite: 1. ulice - 2. s puščico smeri gibanja vozil A in B - 3. njun položaj ob trčenju - 4. prometne znake - 5. imena ulic</p>		
<div style="border: 1px solid black; padding: 5px;"> 10. Označite s puščico točko trčenja na vozilu A →  </div>	<div style="border: 1px solid black; height: 150px; margin: 5px;"></div>	<div style="border: 1px solid black; padding: 5px;"> 10. Označite s puščico točko trčenja na vozilu B →  </div>
<div style="border: 1px solid black; padding: 5px;"> 11. Vidne poškodbe na vozilu A: </div>		<div style="border: 1px solid black; padding: 5px;"> 11. Vidne poškodbe na vozilu B: </div>
<div style="border: 1px solid black; padding: 5px;"> 14. Moje pripombe: </div>	<div style="border: 1px solid black; padding: 5px; display: inline-block;"> 15. Podpis voznikov 15. </div>	<div style="border: 1px solid black; padding: 5px;"> 14. Moje pripombe: </div>
A		B

H5: Biti sposoben izvesti postopke za varno pritrditev blaga in poznati ustrezne tehnike

1H5M4M5P

Kdaj deluje tovor na okolico s "silami pospeševanja" in katere so te sile?

2H5M4M5P

Pred katerimi posledicami delovanja "sil pospeševanja" je potrebno zavarovati tovor na nakladalni površini?

3H5M4M5P

Kaj povzroči, da "sile pospeševanja" med vožnjo povzročijo drsenje ali prevrnitev tovora in od česa so odvisne jakosti teh sil?

4H5M4M5P

Pri zaviranju deluje tovor na prednjo steno tovornjaka

- s silo _____ (poimenujte ustrezno silo pospeševanja)

Če se sprednja stranica tovornjaka s skupno maso nad 3,5 tone uporablja za pritrdjevanje tovora, mora biti izdelana tako, da prenese

- silo, ki je enaka teži _____ (v %) _____ (česa?), pod pogojem, da je tovor kontinuirano - ne točkovno - naslovnjen na prednjo stranico, oz. največ 5t (EN 12 642 L standard)

5H5M4M5P

Pri pospeševanju deluje na tovor

- sila _____ (imenujte silo pospeševanja)

Če se zadnja stena tovornjaka z največjo dovoljeno maso nad 3,5 tone uporablja za pritrdjevanje tovora, mora biti izdelana tako, da prenese silo

- _____ % _____ (česa?)

6H5M4M5P

Naštete vsaj 3 načine pritrdjevanja, ki se uporabljajo za zavarovanje tovora pred drsenjem in prevračanjem!

7H5M4M5P

Priklepanje je način pritrdjevanja tovora, ki se uporablja za _____, _____ (navedite tovrne enote). Za te prevoze se uporabljajo vozila z nameščenimi _____ (napišite napravo, ki se uporablja za priklepanje).

8H5M4M5P

Naštete najmanj 3 načine blokiranja tovora, ki se uporablja za preprečevanje drsenja in prevračanja tovora!

9H5M4M5P

Naštete vsaj 4 priprave, ki se uporabljajo za privezovanje preko tovora in preprečujejo drsenje in prevračanje tovora!

10H5M4M5S

S privezovanjem preko tovora morate zavarovati lesen zaboj z naslednjimi podatki:

- višino $H = 2,4$ m
- širino $B = 2$ m
- dolžino $L = 1,8$ m
- maso $= 2,1$ t
- Težišče zaboja je v geometrijskem središču. Zaboj je na tovorni ploščadi nameščen tako, da ni v nobeno smer blokiran. Ploščad vozila je lesena (statični koeficient trenja je 0,5).

Izračunajte število oprtnic, ki so potrebne za preprečevanje drsenja in prevračanja, če uporabljate oprtnice z prednapetostjo najmanj 400 daN! Ena oprtnica varuje tovor z maso 0.8 t pred drsenjem naprej in 3,2 t pred drsenjem nazaj.

Za izračun števila oprtnic za varovanje tovora pred prevračanjem uporabite naslednjo tabelo:

H/L	masa tovora za 1 oprtnico
1,2	1,0
1,4	2,0

11H5M4M5S

Na priklopnik s ploščadjo iz profiliranega aluminija je naloženih 8 lesenih zabojev naslednjih dimenzij:

$H = 2 \text{ m}$

$B = 2 \text{ m}$

$L = 1,6 \text{ m}$

in z maso 3.050 kg.

Zaboji so naloženi v eni vrsti in tesno skupaj ter blokirani v smeri naprej k prednji stranici. Izračunajte število privez! Za izračun uporabite tabeli iz Navodil za varno nalaganje in pritrjevanje tovora v cestnem prometu!

Tabela 1 : Masa tovora, varovanega pred drsenjem, v tonah.

koef. trenja	bočno	naprej	nazaj
0,4	3,2	0,5	3,2

Tabela 2: Masa tovora, varovanega pred prevračanjem, v tonah.

	bočno		naprej	nazaj
H/B		H/L		
1,0	ni	1,0	ni	ni
1,2	ni	1,2	1,0	ni
1,4	ni	1,4	2,0	ni

12H5M4M5P

Naštejte vsaj štiri načine pritrjevanja tovora na paleto!

13H5M4M5P

Kolikšen delež teže tovora moramo varovati v posamezni smeri, da se bomo izognili običajnim možnostim premaknitve tovora? Zapišite minimalni standard!

1. V smeri naprej: _____ %
2. V bočni smeri: _____ %
3. V smeri nazaj: _____ %
4. Zaradi preprečitve poskakovanja tovora: _____ %

14H5M4M5P

Prednja stranica tovornega prostora tovornjaka je izdelana v skladu s standardom EN 12642 L.

- a) Največ kolikšno težo tovora lahko kontinuirano naslonimo na prednjo stranico?
- b) Najmanj kolikšni delež mase tovora moramo v EU varovati na tovornem prostoru proti premiku v smeri naprej?

15H5M4M5I

V skladu s standardom SIST EN 12195-1 se koliko % statičnega trenja šteje za ustrezno dinamično trenje kot pomoč pri varovanju naloženega tovora proti premikanju?

- 70%
- 50%
- 90%
- 100%